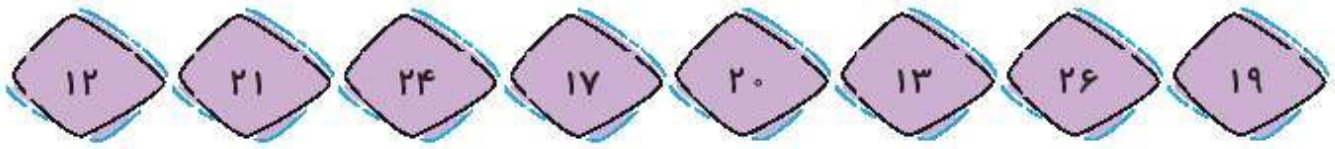


۴ عددهای زیر را از کمترین به بیشترین به ترتیب بنویس.



۱۲-۱۳-۱۷-۱۹-۲۰-۲۱-۲۴-۲۶

۵ جواب جمع و تفریق‌ها را بنویس؛ سپس جواب‌ها را مقایسه کن و علامت مناسب را انتخاب کن.

$50 + 30 = 80$	$< = >$	$80 - 10 = 70$
----------------	---------	----------------

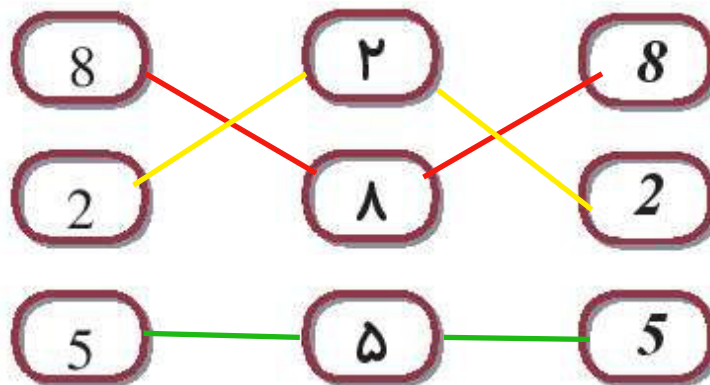
$35 - 5 = 30$	$< = >$	$20 + 5 = 25$
---------------	---------	---------------

$10 + 10 + 5 + 3 = 28$	$< = >$	$20 + 10 + 7 = 37$
------------------------	---------	--------------------

$20 + 10 - 10 = 20$	$< = >$	$10 + 5 + 5 = 20$
---------------------	---------	-------------------

$3 + 30 + 10 = 43$	$< = >$	$20 + 2 + 20 = 42$
--------------------	---------	--------------------

۶ عددهای مثل هم را با خط کش به هم وصل کن.




- دانش‌آموز بتواند اعداد را به ترتیب از کم‌تر به بیش‌تر مرتب کند.
- دانش‌آموز بتواند جمع و تفریق‌ها را به صورت ذهنی انجام دهد.
- دانش‌آموز بتواند اعداد را به صورت‌های مختلف بخواند.




# علوی

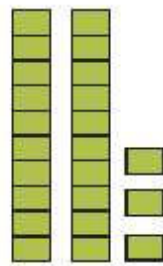
۷ عددهای هر دسته را در بنویس و دو دسته‌ی سمت راست و چپ را با هم مقایسه کن و سپس علامت مناسب <= > را در بگذار.



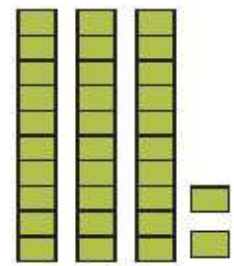
۳۴




۲۸




۲۳



۳۲



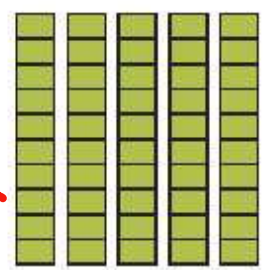
۳۹



۳۹



۲۵



۵۰


۸ زمان‌های خواسته شده را روی هر ساعت نشان بده و عقربه‌ها را رسم کن.



ساعت ۱۲ است.



ساعت ۹ است.



ساعت ۵ است.

- دانش آموز بتواند به کمک شکل اعداد را با هم مقایسه کند.
- دانش آموز بتواند زمان را به درستی نشان دهد.

