



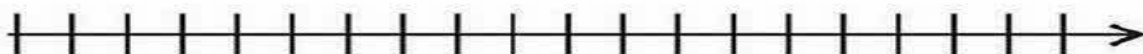
موضوع:

تاریخ

نام و نام خانوادگی

هدف:

ابتدا اعداد روی محور را بنویس سپس جمع و تفریق را با کمک محور انجام بده.



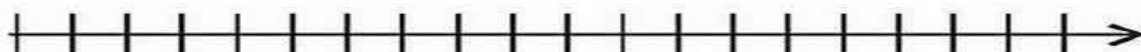
$$6 + 4 + 5 =$$



$$18 - 6 =$$



$$1 + 8 + 3 =$$



$$15 - 5 =$$

بازخورد:


Four horizontal lines for writing feedback.






نام و نام خانوادگی: \_\_\_\_\_ تاریخ: \_\_\_\_\_ موضوع: \_\_\_\_\_ هدف: \_\_\_\_\_


تعداد شکل های هر دسته را با چوب خط بشمار. با شکل ها دسته های ده تایی درست کن؛ جدول را کامل کن و عدد مربوط به هر دسته را بنویس.



Two empty boxes for writing the number of candies: a larger one for the tens and a smaller one for the ones.



Two empty boxes for writing the number of triangles: a larger one for the tens and a smaller one for the ones.




Two empty boxes for writing the number of circles: a larger one for the tens and a smaller one for the ones.



بازخورد:

Four horizontal lines for providing feedback.







نام و نام خانوادگی

تاریخ

موضوع:

هدف:



با توجه به شکل، جمله‌ها را کامل کن.

طول نی بین ..... تا ..... است.

طول نی بین ..... تا ..... است.

طول نی بین ..... تا ..... است.



با کلمات بلندترین، کوتاه‌ترین یا هم‌اندازه کامل کن.

مداد قرمز ..... مداد است.

مداد سبز با مداد بنفش ..... است.

مداد آبی ..... مداد است.



بلندی پادمچان کوتاه‌تر از ..... است.



بلندی موز کوتاه‌تر از ..... است.

اندازه‌ی ماشین بین ..... تا ..... چینه است



بروز

Handwriting practice area with a dashed orange border and several horizontal lines for writing.





نام و نام خانوادگی

تاریخ

موضوع:

هدف:

در اعداد زیر دور ده تایی ها خط بکش .

۴۴      ۶۹      ۵۸      ۱۲      ۵۴      ۲۶

از عدد ۶۷ شروع کن و تا عدد ۷۵ بنویس .

از عدد ۸۳ شروع کن و تا عدد ۹۱ بنویس .

به هر عدد ۵ تا اضافه کن و ببین به چه عددی می رسی .

$$۴۶ \xrightarrow{+۵}$$

$$۶۳ \xrightarrow{+۵}$$

$$۵۱ \xrightarrow{+۵}$$

$$۳۷ \xrightarrow{+۵}$$

بازخورد:

.....

.....

.....





نام و نام خانوادگی

تاریخ

موضوع:

هدف:

گلم به عدد و حروف بنویس.

.....:۳۲ .....چهل و هفت:

.....:۵۴ .....سی و شش:

.....:۶۹ .....هفتاد و هشت:

دخترم برای اعداد زیر شکل بکش در جدول یکی ده تایی بگذار و به حروف بنویس.

:۸۹

:۴۵

جاهای خالی را با اعداد مناسب پر کن.

..... یکی و ..... دسته ی ده تایی می شود: ۶۳

..... ۸ یکی و ۹ ده تایی می شود: .....

..... ۰ یکی و ۷ ده تایی می شود: .....

..... یکی و ..... ده تایی می شود ۲۸

بازخورد:

.....

.....

.....





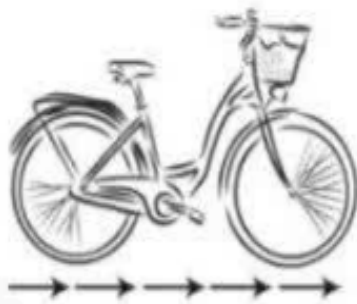
موضوع:

تاریخ

نام و نام خانوادگی

هدف:

اندازه ی هر شکل چند تا فلش است؟ عدد آن را بنویس



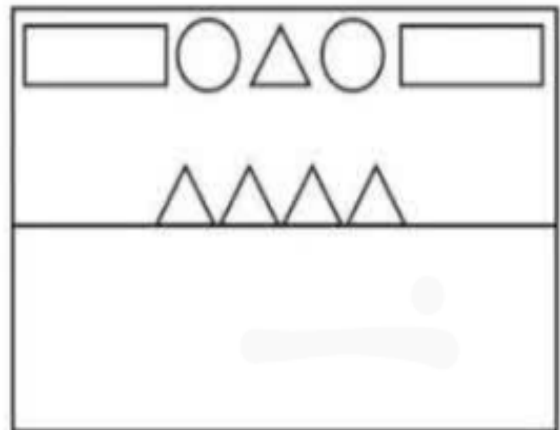
جدول را کامل کن

۸	۵	۷	۴	۳			۲	۹
۳		۱	۹	۵	۲	۴	۷	۸
	۴	۲	۶		۸	۳	۱	۵
۴	۱	۵	۲	۶	۷	۹	۸	۳
۲	۹	۶	۵	۸	۳	۷	۴	۱
۷	۳			۹	۴		۵	۶
۱	۲			۴	۶	۵	۳	۷
۵	۸	۳	۷	۲	۹	۱	۶	۴
۶	۷	۴	۳	۱			۹	۲

قسمت پایین شکل را با شابلن کامل کن ،

شکل را طوری رنگ بزن که دو نیمه ی آن مثل

هم باشد



Handwriting practice lines within a dashed border.

