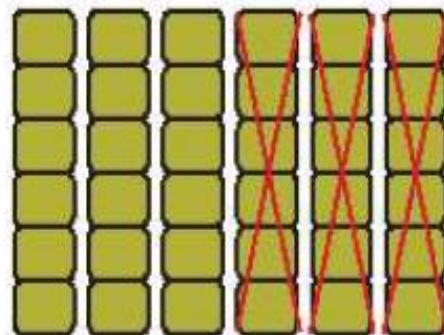
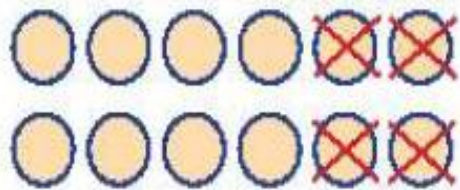


A decorative border surrounds the text, featuring various colorful butterflies (blue, yellow, pink, green) and clusters of flowers in shades of purple, blue, yellow, and pink. The background is a light, textured surface.

به نام خدا



به کلاس ریاضی خوش آمدید.

برای شکل‌های زیر جمع و تفریق مناسب بنویس و علامت درست را انتخاب کن.



..... - =

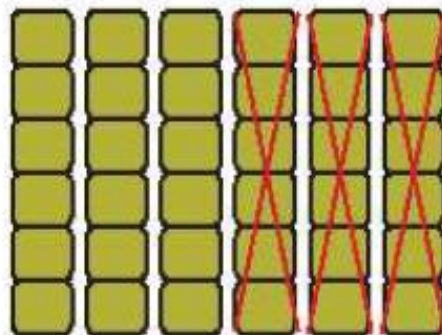
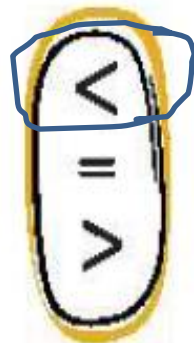
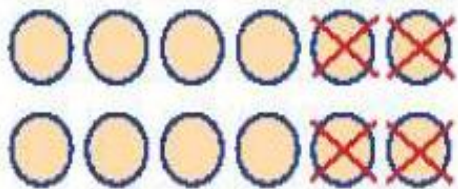
..... - =



..... + =


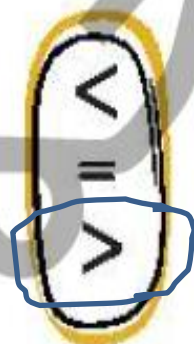

..... - =

برای شکل‌های زیر جمع و تفریق مناسب بنویس و علامت درست را انتخاب کن.



$$12 \dots - \dots 4 \dots = \dots 8 \dots$$

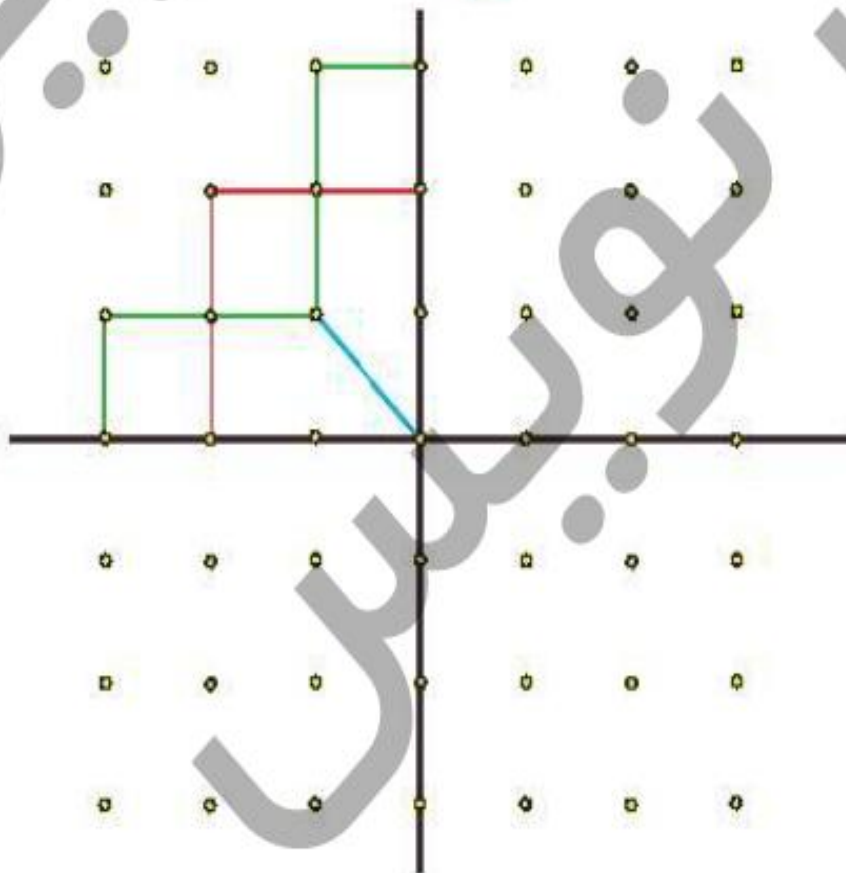
$$60 \dots - \dots 30 \dots = \dots 30 \dots$$



$$20 \dots + \dots 20 \dots = \dots 40 \dots$$

$$50 \dots - \dots 20 \dots = \dots 30 \dots$$

نقطه‌ها را با خط‌کش به هم وصل کن تا یک شکل با ۴ قسمت مثل هم تشکیل شود.

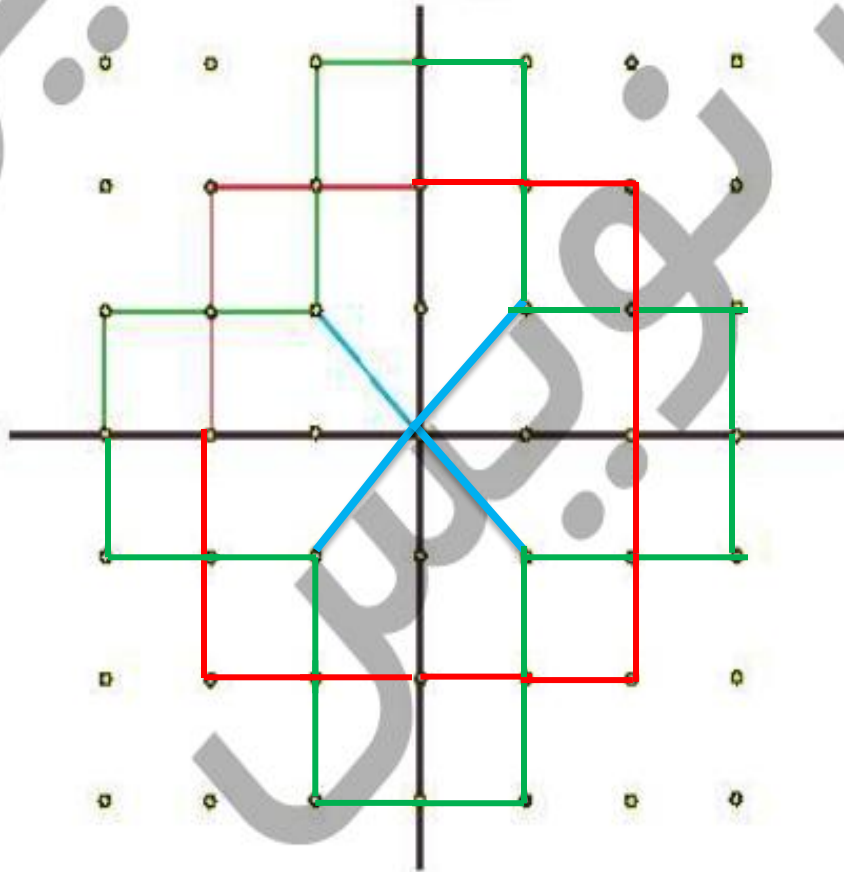


دانش‌آموز بتواند برای شکل‌ها عبارت مناسب بنویسد.

دانش‌آموز بتواند مهارت استفاده از خط‌کش را کسب کند و به دو تفرار عمودی و افقی توجه کند.



نقطه‌ها را با خط‌کش به هم وصل کن تا یک شکل با ۴ قسمت مثل هم تشکیل شود.



دانش‌آموز بتواند برای شکل‌ها عبارت مناسب بنویسد.

دانش‌آموز بتواند مهارت استفاده از خط‌کش را کسب کند و به دو تفرار عمودی و افقی توجه کند.






آموختنی‌ها


- ۱ تصویر بالا چه مراسمی را نشان می‌دهد؟ آیا تا به حال به این مراسم رفته‌ای؟
- ۲ چه تعداد از آقایان سنج می‌زنند؟
- ۳ در زرده‌ی کنار دیوار در هر ردیف چند حلقه‌ی دایره‌ای شکل دیده می‌شود؟
- ۴ پرندگان تصویر چند بال دارند؟ ۲ تا ۲ تا بشمار.
- ۵ با کک شمارش ۵ تا ۵ تا تعداد برگ‌های روی درخت را بشمار.

علوی

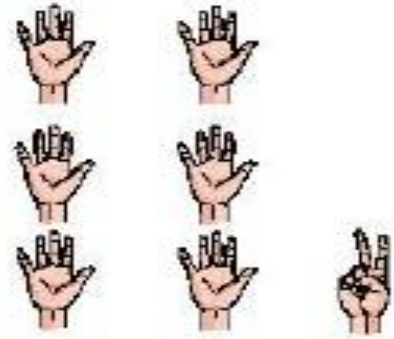
جدولها را کامل کن.



| | |
|---------|-----|
| ده نایی | یکی |
| | |



| | |
|---------|-----|
| ده نایی | یکی |
| | |



| | |
|---------|-----|
| ده نایی | یکی |
| | |



| | |
|---------|-----|
| ده نایی | یکی |
| | |



| | |
|---------|-----|
| ده نایی | یکی |
| | |




| | |
|---------|-----|
| ده نایی | یکی |
| | |

علوی

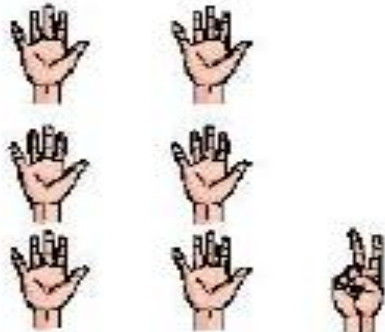
۱ جدولها را کامل کن.



| ده تایی | یکی |
|---------|-----|
| ۴ | ۰ |
| ۴۰ | |



| ده تایی | یکی |
|---------|-----|
| ۲ | ۱ |
| ۲۱ | |



| ده تایی | یکی |
|---------|-----|
| ۳ | ۲ |
| ۳۲ | |



| ده تایی | یکی |
|---------|-----|
| ۲ | ۳ |
| ۲۳ | |



| ده تایی | یکی |
|---------|-----|
| ۴ | ۷ |
| ۴۷ | |



| ده تایی | یکی |
|---------|-----|
| ۵ | ۵ |
| ۵۵ | |

جایهای خالی را با عدد مناسب پر کن.

۲

۲۸ - ۳۸ -

۱۶ - ۲۶ -

۷۷ - ۷۸ -

دانش آموز بتواند با استفاده از شکل جدول ارزش مکانی را کامل و عدد را از آن خارج کند.

دانش آموز بتواند رابطه ی بین الگوهای عددی را کشف و آن را ادامه دهد.



جایهای خالی را با عدد مناسب پر کن.

۲

۲۸ - ۳۸ - ۴۸ - ۵۸ - ۶۸ - ۷۸ - ۸۸ - ۹۸ ...

۱۶ - ۲۶ - ۳۶ - ۴۶ - ۵۶ - ۶۶ - ۷۶ - ۸۶ - ۹۶ ...

۷۷ - ۷۸ - ۷۹ - ۸۰ - ۸۱ - ۸۲ - ۸۳ - ۸۴ - ۸۵ ...

دانش آموز بتواند با استفاده از شکل جدول ارزش مکانی را کامل و عدد را از آن خارج کند.

دانش آموز بتواند رابطه ی بین الگوهای عددی را کشف و آن را ادامه دهد.



۱۴۱


دسته‌های ۱۰ تایی درست کن، جدول را کامل کن و عدد مربوط به آن را بنویس.



| | |
|---------|-----|
| ده تایی | یکی |
|---------|-----|



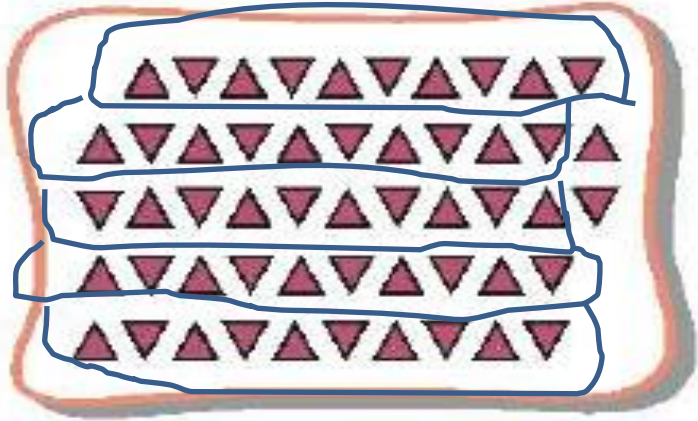
| | |
|---------|-----|
| ده تایی | یکی |
|---------|-----|



| | |
|---------|-----|
| ده تایی | یکی |
|---------|-----|

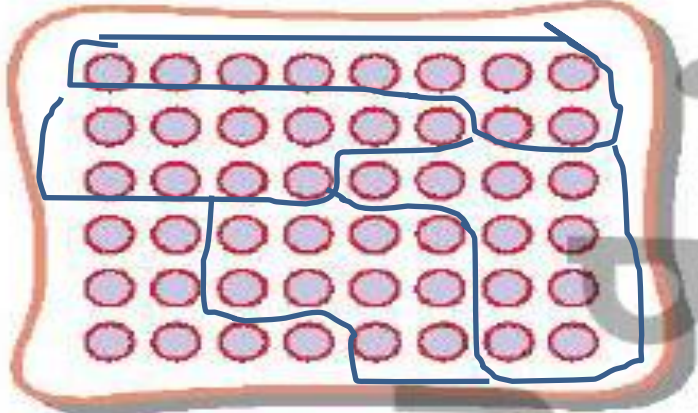


دسته‌های ۱۰ تایی درست کن، جدول را کامل کن و عدد مربوط به آن را بنویس.



| ده تایی | یکی |
|---------|-----|
| ۵ | ۲ |

۵۲



| ده تایی | یکی |
|---------|-----|
| ۴ | ۸ |

۴۸




| ده تایی | یکی |
|---------|-----|
| ۳ | ۵ |

۳۵

دور عدد مناسب خط بکش.


۴



۳۳

۱۸

۱۳



۲۶

۱۶

۶۲

☐ دانش آموز بتواند با استفاده از شکل جدول ارزش مکانی را کامل و عدد را از آن خارج کند.


☐ دانش آموز بتواند با استفاده از شکل عدد مناسب را تشخیص دهد.

ریاضی اول دبستان

۱۴۲




دور عدد مناسب خط بکش. ۴



۳۳

۱۸

۱۳



۲۶

۱۶

۶۲

☐ دانش آموز بتواند با استفاده از شکل جدول ارزش مکانی را کامل و عدد را از آن خارج کند.

☐ دانش آموز بتواند با استفاده از شکل عدد مناسب را تعیین دهد.