


۵- در جدول زیر با مداد صورتی ۸ تا ۸ تا و با مداد آبی ۹ تا ۹ تا بشمار و رنگ بزن. عدد کدام خانه را دو بار زنگ زدی؟ آن را داخل بادکنک بنویس.



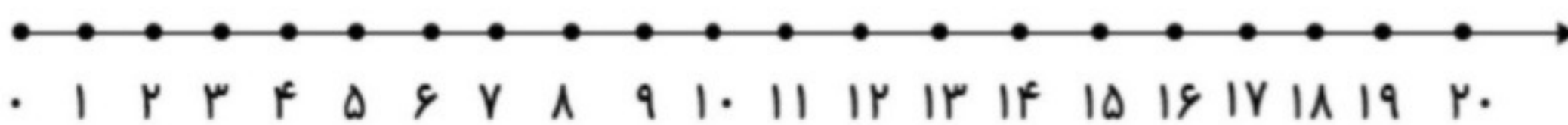
۱	۲	۳	۴	۵	۶	۷	۸	۹	۱۰
۱۱	۱۲	۱۳	۱۴	۱۵	۱۶	۱۷	۱۸	۱۹	۲۰
۲۱	۲۲	۲۳	۲۴	۲۵	۲۶	۲۷	۲۸	۲۹	۳۰
۳۱	۳۲	۳۳	۳۴	۳۵	۳۶	۳۷	۳۸	۳۹	۴۰
۴۱	۴۲	۴۳	۴۴	۴۵	۴۶	۴۷	۴۸	۴۹	۵۰
۵۱	۵۲	۵۳	۵۴	۵۵	۵۶	۵۷	۵۸	۵۹	۶۰
۶۱	۶۲	۶۳	۶۴	۶۵	۶۶	۶۷	۶۸	۶۹	۷۰
۷۱	۷۲	۷۳	۷۴	۷۵	۷۶	۷۷	۷۸	۷۹	۸۰



۶- جواب هر مسئله را با کمک محور به دست بیاور.

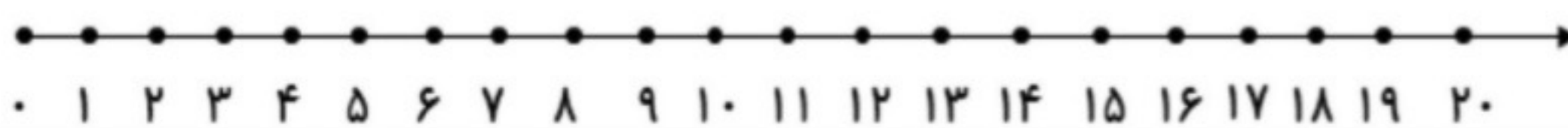
۱۷ سیب روی میز بود. پدر ۶ سیب را شست. برادر هم ۵ سیب را شست.

چند سیب نشسته روی میز باقی ماند؟



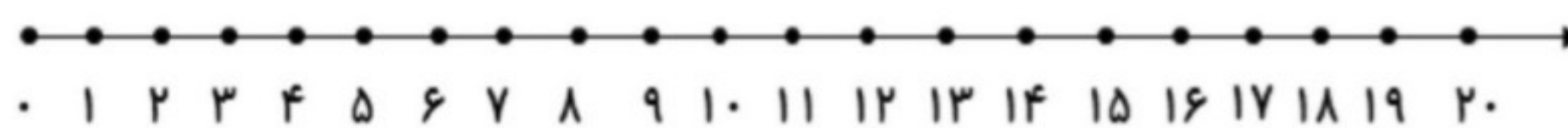
فاطمه ۸ کتاب داشت. او ۷ کتاب دیگر از نمایشگاه خرید. آموزگار هم ۵ کتاب به او جایزه داد.

حالا فاطمه چند کتاب دارد؟



باغبان ۸ درخت سیب، ۴ درخت گلابی و ۵ درخت آلبالو کاشته است. او در باغ خود چند درخت

کاشته است؟



بازخورد:

Blank lines for student feedback.

