

۱۱ الگوهای زیر را ادامه بده و نشان بده که هر کدام چند تا چند زیاد شده است.

۶ - ۹ - ۱۲ - - - -
 +○ +○

۲۷ - ۲۹ - ۳۱ - - - -
 +○ +○

۴۰ - ۴۵ - ۵۰ - - - -
 +○ +○

۲۰ - ۳۰ - ۴۰ - - - -
 +○ +○

۱۲ زمانی را که هر ساعت نشان می دهد بنویس.



ساعت است.



ساعت است.



ساعت است.



زمان بین و است.



زمان بین و است.



زمان بین و است.



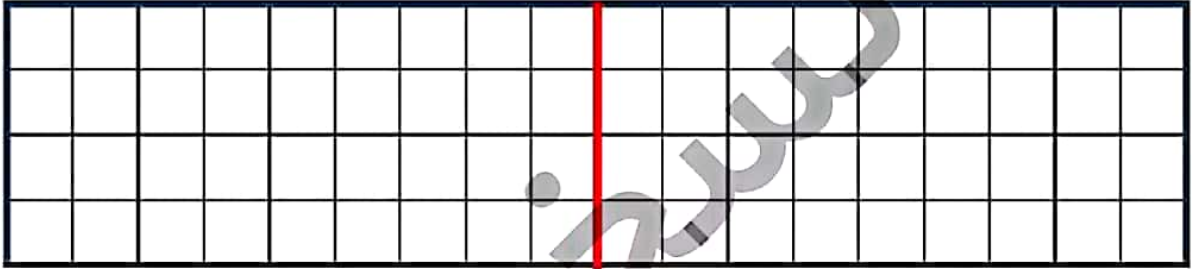
- دانش لوز بتواند رابطه‌ی بین الگوهای عددی را کشف و آن‌ها را ادامه دهد.
- دانش لوز بتواند ساعت کامل و بین دو زمان را بخواند.

علوی

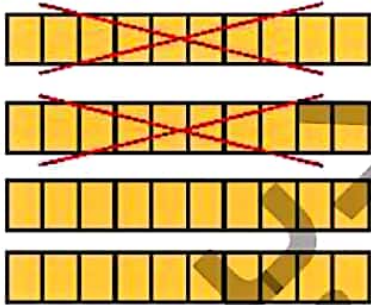
۱ الگوی زیر را ادامه بده.



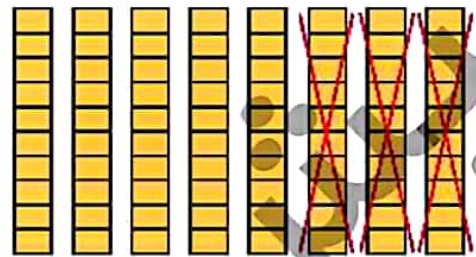
۲ در سمت راست ۶ خانه را به دلخواه رنگ بزن؛ سپس نیمه‌ی دیگر را با توجه به خط تقارن کامل کن.



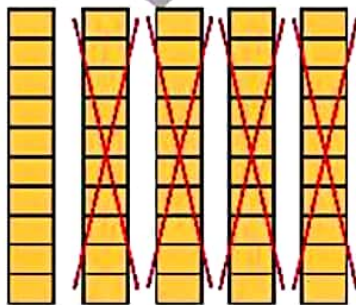
۳ برای هر شکل یک عبارت تفریق بنویس.



..... - =



..... - =



..... - =



..... - =



- دانش آموز بتواند الگوی عددی را ادامه دهد.
- دانش آموز بتواند یک شکل شطرنجی رسم و قرینه‌ی آن را کامل کند.
- دانش آموز بتواند تفریق‌های مضرب ۱۰ را با کمک شکل انجام دهد.