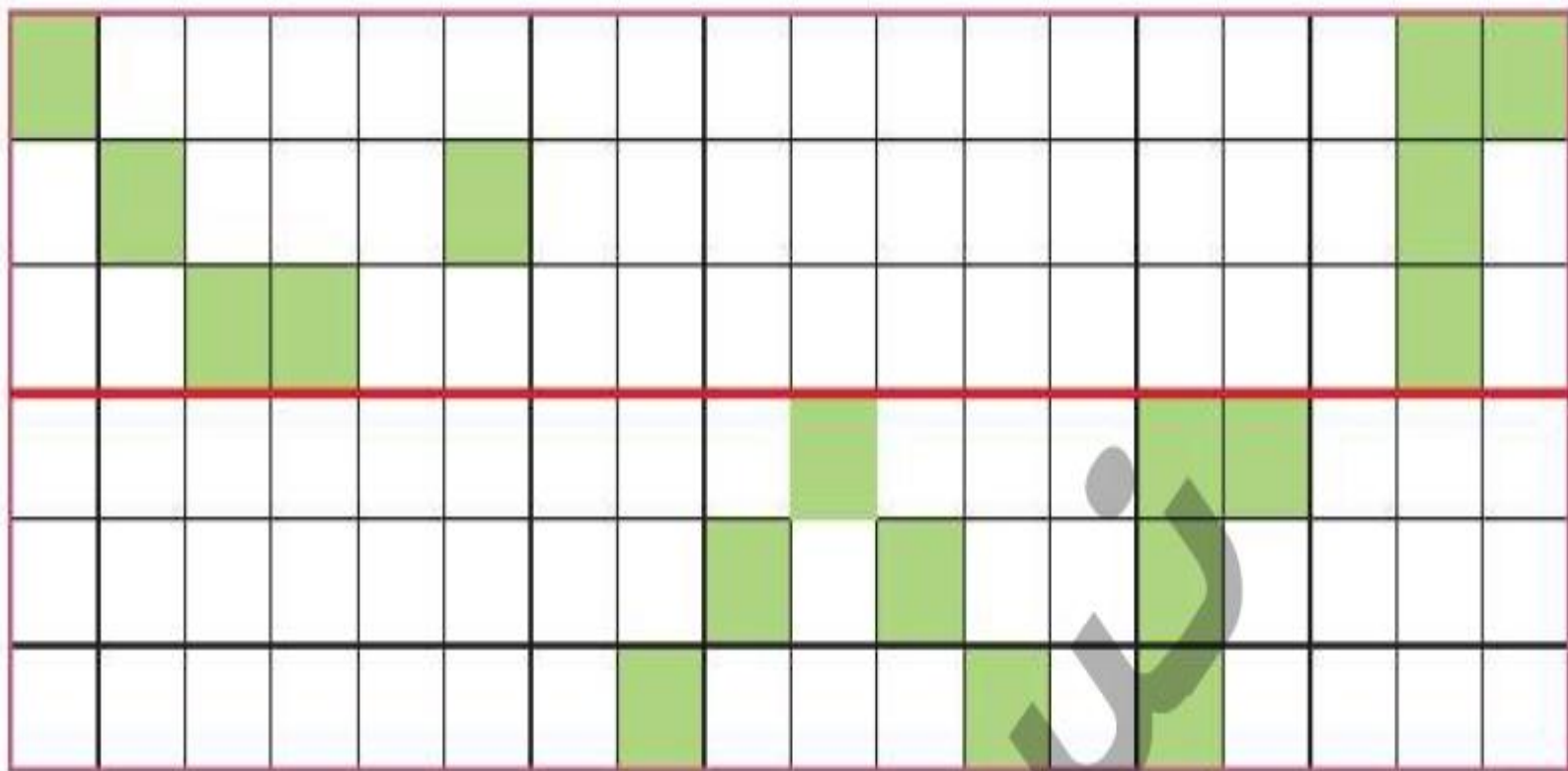
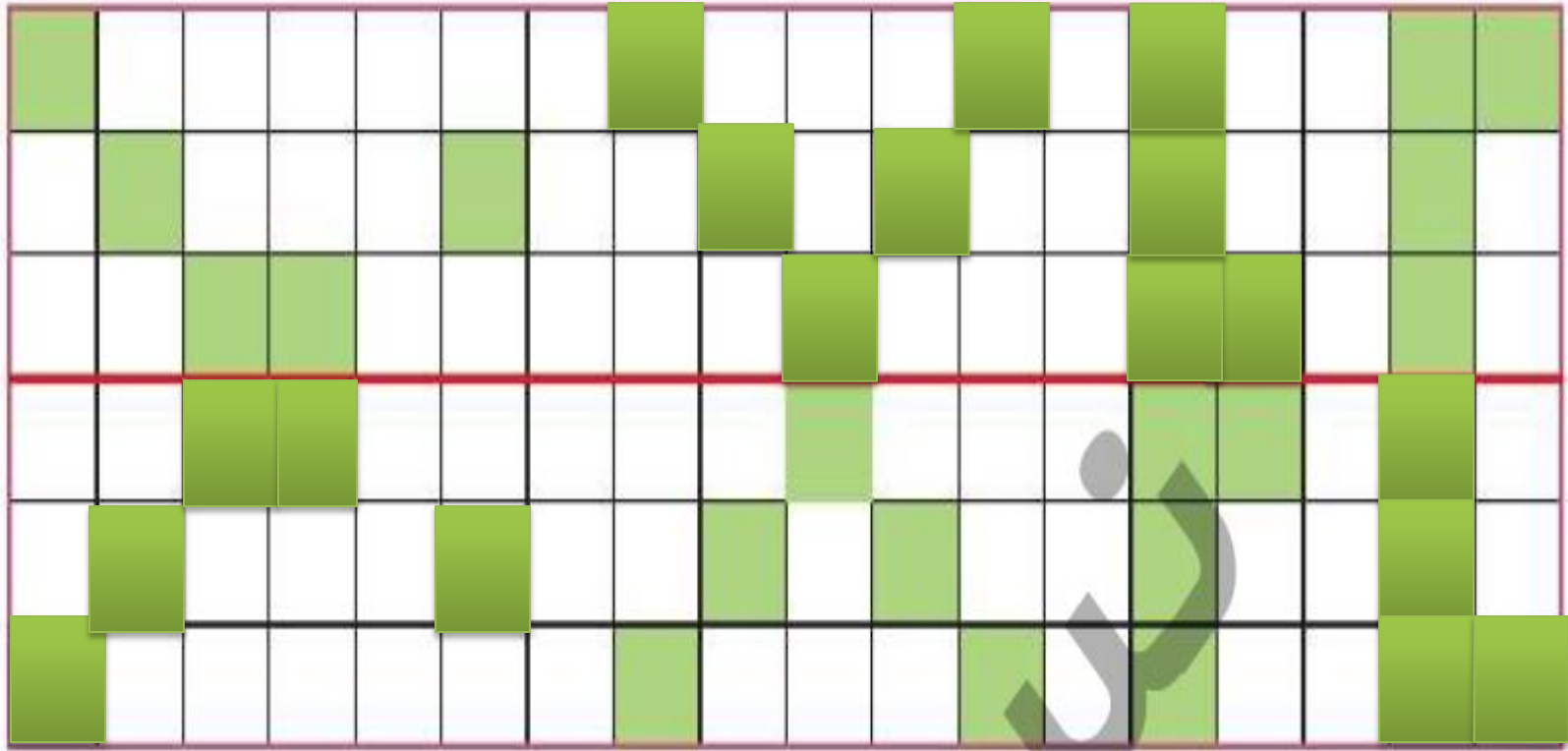


شکل را طوری کامل کن که دو نیمه‌ی آن مثل هم باشد.


۷



شکل را طوری کامل کن که دو نیمه‌ی آن مثل هم باشد. ۷



در جاهای خالی عدد مناسب بنویس و آن را با شکل نشان بده.



۴ دسته‌ی ده‌تایی و ۶ یکی می‌شود.....

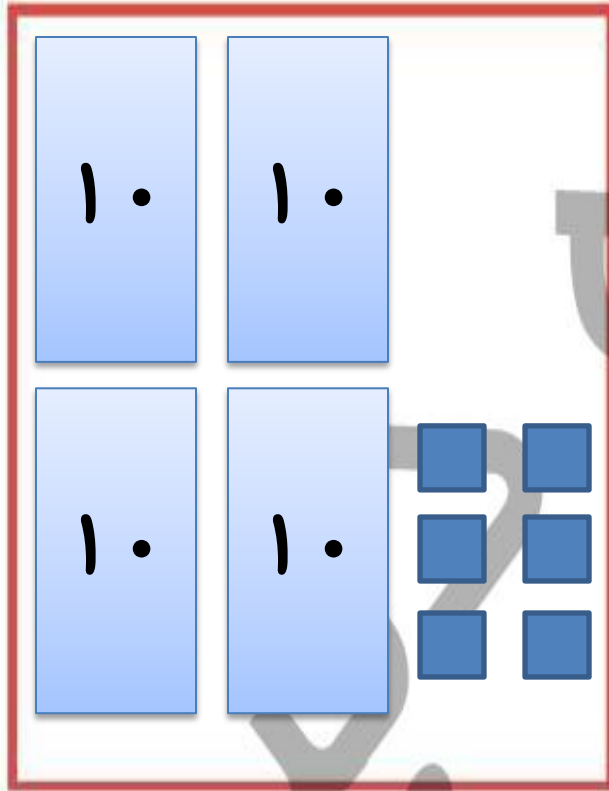


۱ دسته‌ی ده‌تایی و ۹ یکی می‌شود.....

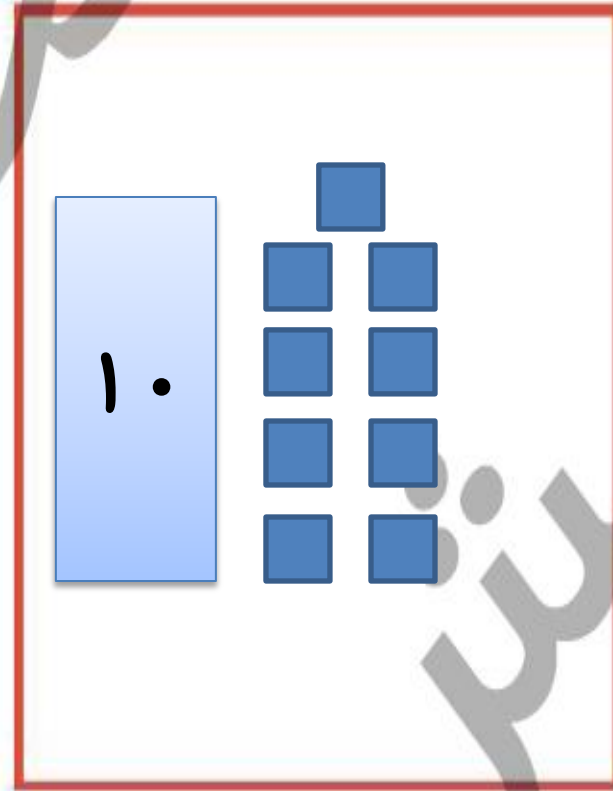


در جاهای خالی عدد مناسب بنویس و آن را با شکل نشان بده.

۸



۴ دسته‌ی ده‌تایی و ۶ یکی می‌شود ۴۶



۱ دسته‌ی ده‌تایی و ۹ یکی می‌شود ۱۹

۹ حاصل جمع و تفریق‌های زیر را به صورت ذهنی پیدا کن و بنویس.

$$۱۰ + ۱۰ =$$

$$۵ + ۵ - ۱۰ =$$

$$۱۰ + ۱۰ + ۵ =$$

$$۱۰ + ۱۰ + ۵ + ۱۰ + ۵ =$$

$$۵ + ۱۰ + ۵ =$$

$$۵ - ۵ + ۵ =$$

$$۵ + ۵ + ۵ + ۵ + ۱۰ =$$

$$۱۰ + ۱۰ + ۵ + ۱۰ - ۱۰ =$$



- دانش‌آموز بتواند فرم‌های شکل‌های شطرنجی را کامل کند.
- دانش‌آموز بتواند آمادگی رسم شکل برای حل مسئله‌ها را پیدا کند.
- دانش‌آموز بتواند جمع را به صورت ذهنی انجام دهد.

ریاضی اول دبستان

۱۴۴



حاصل جمع و تفریق‌های زیر را به صورت ذهنی پیدا کن و بنویس.

۹

$$۱۰ + ۱۰ = ۲۰$$

$$۵ + ۵ - ۱۰ = ۰$$

$$۱۰ + ۱۰ + ۵ = ۲۵$$

$$۱۰ + ۱۰ + ۵ + ۱۰ + ۵ = ۴۰$$

$$۵ + ۱۰ + ۵ = ۲۰$$

$$۵ - ۵ + ۵ = ۵$$

$$۵ + ۵ + ۵ + ۵ + ۱۰ = ۳۰$$

$$۱۰ + ۱۰ + ۵ + ۱۰ - ۱۰ = ۲۵$$



- دانش‌آموز بتواند فریندهی شکل‌های شطرنجی را کامل کند.
- دانش‌آموز بتواند آمادگی رسم شکل برای حل مسئله‌ها را پیدا کند.
- دانش‌آموز بتواند جمع را به صورت ذهنی انجام دهد.

ریاضی اول دبستان



علوی

مسئله‌ها را با رسم شکل حل کن.

۱۰

الف) دو دسته‌ی ده تایی زنبور در کندو بودند. ۴ زنبور دیگر هم به کندو رفتند. حالا چند زنبور در کندو است؟



علوی

مسئله‌ها را با رسم شکل حل کن.

۱۰

الف) دو دسته‌ی ده تایی زنبور در کندو بودند. ۴ زنبور دیگر هم به کندو رفتند. حالا چند زنبور در کندو است؟



$$20 + 4 = 24$$

۲۴ زنبور در کندو است.

