

به نام خدا  
به کلاس ریاضی خوش آمدید



## علوی

مسئله‌ها را با رسم شکل حل کن.

۱۰

الف) دو دسته‌ی ده تایی زنبور در کندو بودند. ۴ زنبور دیگر هم به کندو رفتند. حالا چند زنبور در کندو است؟



# علوی

مسئله‌ها را با رسم شکل حل کن.

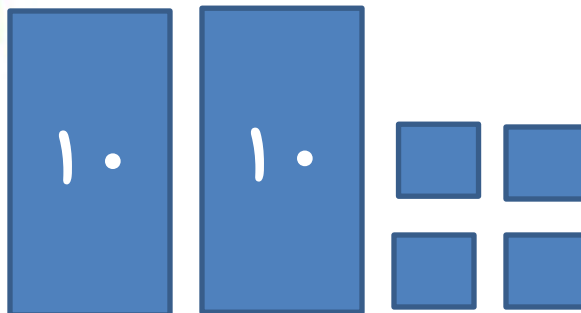
۱۰

الف) دو دسته‌ی ده تایی زنبور در کندو بودند. ۴ زنبور دیگر هم به کندو رفتند. حالا چند زنبور در کندو است؟



$$20 + 4 = 24$$

۲۴ زنبور در کندو است.



ب) در دبستان علوی، کلاس اولی‌ها به ۵ گروه ۱۰ نفره و ۲ گروه ۵ نفره تقسیم شدند تا بازی کنند. تعداد دانش‌آموزان کلاس اولی چندتا است؟

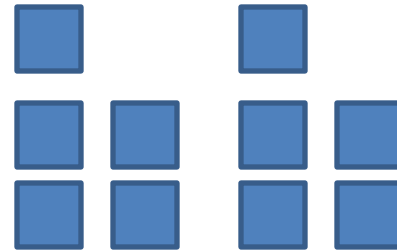
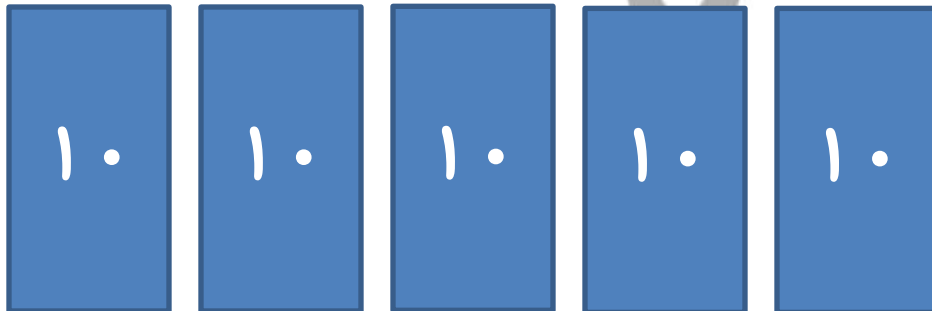


د

ب) در دبستان علوی، کلاس اولی‌ها به ۵ گروه ۱۰ نفره و ۲ گروه ۵ نفره تقسیم شدند تا بازی کنند. تعداد دانش‌آموزان کلاس اولی چندتا است؟

$$10 + 10 + 10 + 10 + 10 + 5 + 5 = 60$$

۶۰ نفر در کلاس اول است.



پ) هر بسته شکلات موجود در فروشگاه، ۱۰ شکلات دارد. اگر درنا ۴ بسته شکلات بخرد، چند شکلات دارد؟



پ) هر بسته شکلات موجود در فروشگاه، ۱۰ شکلات دارد. اگر درنا ۴ بسته شکلات بخرد، چند شکلات دارد؟



$$10 + 10 + 10 + 10 = 40$$

۴۰ شکلات دارد.


۱۰

۱۰


۱۰

۱۰

ت) دیروز آقای نجار ۴ بسته‌ی ۱۰ تایی میخ خرید. امروز هم ۲ بسته‌ی ۱۰ تایی دیگر خرید. او روی هم چند میخ دارد؟



ت) دیروز آقای نجار ۴ بسته‌ی ۱۰ تایی میخ خرید. امروز هم ۳ بسته‌ی ۱۰ تایی دیگر خرید. او روی هم چند میخ دارد؟



$$10 + 10 + 10 + 10 + 10 + 10 + 10 = 70$$

۷۰ میخ دارد.



ث) مادر گل‌هایی را که منیژه برای او خریده بود در گلدان قرار داد. او در هر گلدان ۱۰ شاخه گل می‌گذارد. ۴ گلدان خانه

پر و ۷ شاخه هم روی میز ماند. منیژه چند گل خریده بود؟



☐ دانش آموز نتواند با درک و فهم مسئله، آن را با استفاده از شکل حل کند.



۱۴۵

ث) مادر گل‌هایی را که منیژه برای او خریده بود در گلدان قرار داد. او در هر گلدان ۱۰ شاخه گل می‌گذارد. ۴ گلدان خانه

پر و ۷ شاخه هم روی میز ماند. منیژه چند گل خریده بود؟



$$10 + 10 + 10 + 10 + 7 = 47$$

۴۷ شاخه گل خریده بود.

☐ دانش آموز نتواند با درک و فهم مسئله، آن را با استفاده از شکل حل کند.



۱۴۵

