



موضوع:

تاریخ:

نام و نام خانوادگی:

هدف:

4- رضا 8 مهره داشت. پدرش هم 8 مهره ی دیگر به او داد. او 5 مهره را به برادرش داد.

حالا رضا چند مهره دارد؟ (با رسم شکل دلخواه و عبارت های آن)

_____ + _____ = _____

_____ - _____ = _____

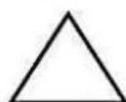

5- دنباله ی عدد را بنویس.

91	92								
----	----	--	--	--	--	--	--	--	--

6- 5 تا 5 ادامه بده.


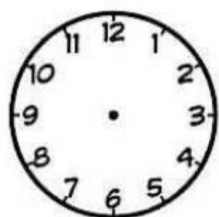
55	60								
----	----	--	--	--	--	--	--	--	--

7- نام هر شکل را بنویس.



8- زمان ساعت ها

را بنویس.



ساعت 9 است.

ساعت است.

ساعت از گذشته است.





موضوع:

تاریخ:

نام و نام خانوادگی:

هدف:

1 - عبارت ها را ذهنی حساب کرده ، نوشته ؛ سپس به جواب حروفی آن وصل کن .

$10 + 10 + 5 + 4 =$

سی و یک

$20 + 20 + 10 + 3 =$

پانزده

$10 + 10 + 5 + 5 + 1 =$

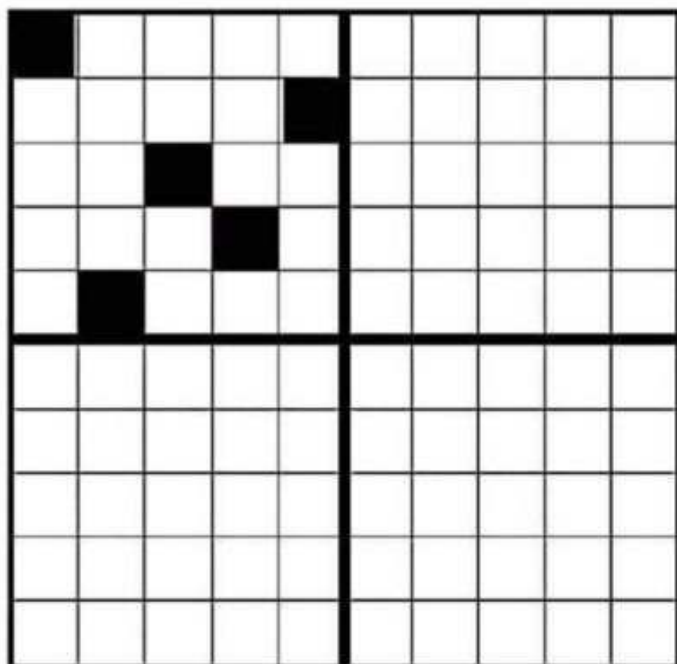
پنجاه و سه

$20 - 5 =$

بیست و نه

2 - سه قسمت دیگر را مانند قسمت رنگ شده

رنگ کن .



3 - امین 7 مداد زرد و 5 مداد سبز و 6 کتاب داستان دارد . امین چند مداد دارد ؟ (با رسم شکل و عبارت آن)