



موضوع:

تاریخ

نام و نام خانوادگی


هدف:



اگر به تعداد شکل های سمت راست از شکل های سمت چپ برداریم چند تا می ماند؟  
عدد آن را بنویس.

		<input type="text"/>
		<input type="text"/>
		<input type="text"/>

با عدد صفر یک شکل تازه بساز.



موضوع:

تاریخ:



نام و نام خانوادگی:


هدف:

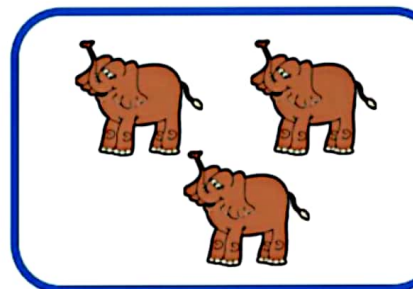
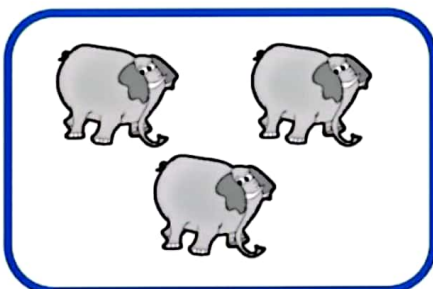
۹

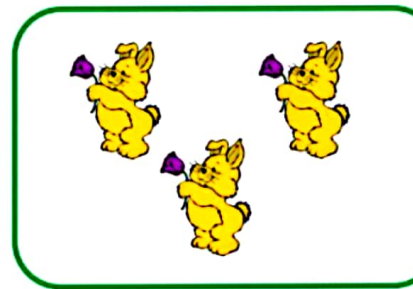
تم

شکل های سمت راست و چپ روی هم چند تا است؟ با یک عدد نشان بده.

















در هر قسمت چند تا شکل وجود دارد؛ مانند نمونه با چوب خط نشان بده و عدد مربوط به آن را بنویس.

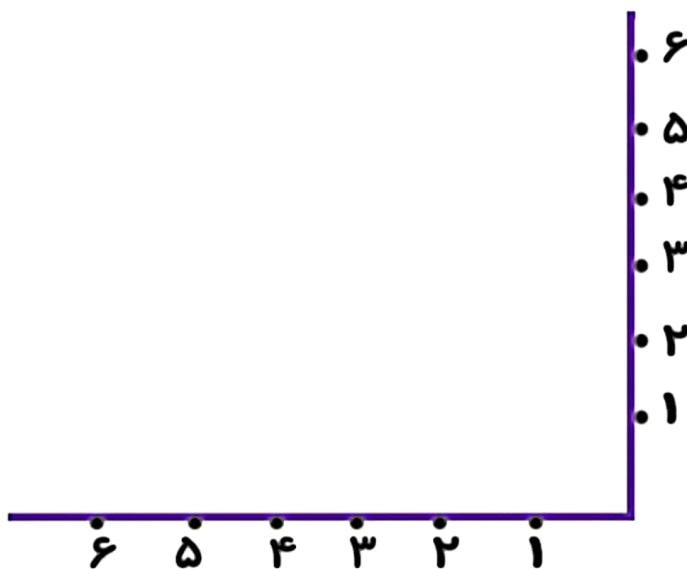


	۴	۱	
۲			۳
۴			۱
۱	۲	۳	۴

		۲	۱
۱		۳	
۲	۴		۳
۳	۱		۲



عدد های مثل هم را با خط کشش به هم وصل کن.



مربع های شگفت انگیز را با عدد های مناسب کامل کن.

۱	۲	۳	۴
	۴	۱	
۴	۱	۲	۳
	۳	۴	

۴	۳	۲	۱
۲			۳
۳			۲
۱	۲	۳	۴