



## علوی

جمع و تفریق‌های زیر را انجام بده. ۲

$$۱۰ + ۵ + ۵ + ۵ + ۵ -$$

$$۱۰ + ۲۰ + ۵ + ۵ -$$

$$۱۰ + ۲۰ + ۵ - ۵ -$$

$$۲۰ + ۱۰ + ۵ + ۱۰ + ۵ + ۵ -$$

$$۱۰ + ۲۰ + ۱۰ + ۵ + ۴ -$$

$$۱۰ - ۱۰ + ۷ + ۲۰ -$$

$$۲۰ + ۱۰ + ۵ + ۵ + ۱۰ -$$

$$۵ + ۵ + ۵ + ۵ + ۹ -$$

$$۱۰ + ۵ + ۵ + ۲۰ + ۱۰ - ۱۰ -$$

$$۱۰ + ۲۰ + ۱۰ + ۵ + ۲ -$$

$$۲۰ + ۲۰ + ۱۰ + ۶ + ۱۰ -$$

$$۱۰ - ۱۰ + ۳۰ + ۵ + ۱ -$$

## علوی

جمع و تفریق‌های زیر را انجام بده.

۲

$$۱۰ + ۵ + ۵ + ۵ + ۵ - ۳۰$$

$$۱۰ + ۲۰ + ۵ + ۵ - ۴۰$$

$$۱۰ + ۲۰ + ۵ - ۵ - ۳۰$$

$$۲۰ + ۱۰ + ۵ + ۱۰ + ۵ + ۵ - ۵۵$$

$$۱۰ + ۲۰ + ۱۰ + ۵ + ۴ - ۴۹$$

$$۱۰ - ۱۰ + ۷ + ۲۰ - ۲۷$$

$$۲۰ + ۱۰ + ۵ + ۵ + ۱۰ - ۵۰$$



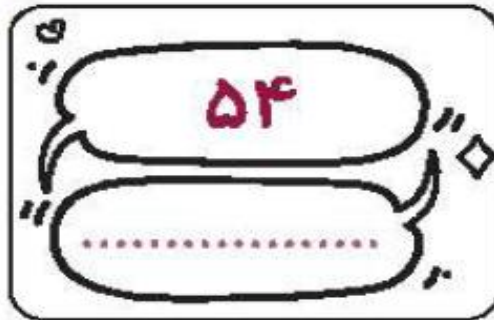
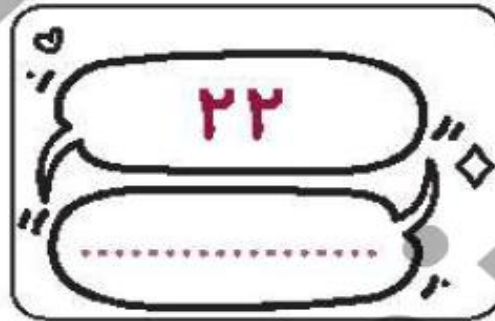
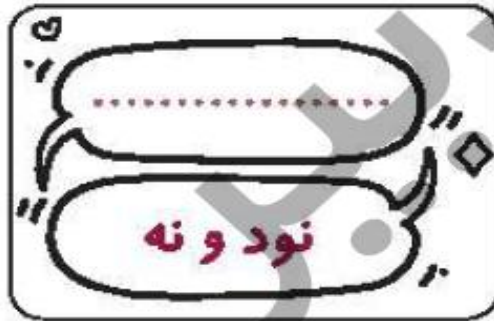
$$۵ + ۵ + ۵ + ۵ + ۹ - ۲۹$$

$$۱۰ + ۵ + ۵ + ۲۰ + ۱۰ - ۱۰ - ۴۰$$

$$۱۰ + ۲۰ + ۱۰ + ۵ + ۲ - ۴۷$$

$$۲۰ + ۲۰ + ۱۰ + ۶ + ۱۰ - ۶۶$$

$$۱۰ - ۱۰ + ۳۰ + ۵ + ۱ - ۳۶$$



دانش آموز بتواند جمع ها و تفریق ها را به صورت ذهنی انجام دهد.

دانش آموز بتواند اعداد را به صورت نماد عددی و به حروف بنویسد.



۹۹

نود و نه

۲۲

بیست و دو

۳۷

سی و هفت

۵۴

پنجاه و چهار

۴۰

چهل

۶۸

شصت و هشت

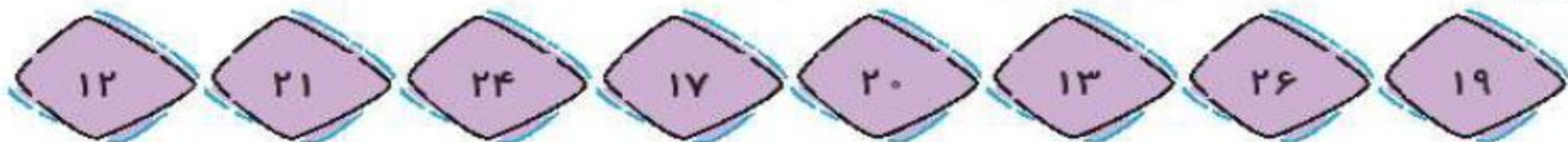
دانش آموز بتواند جمع ها و تفریق ها را به صورت ذهنی انجام دهد.

دانش آموز بتواند اعداد را به صورت نماد عددی و به حروف بنویسد.



۱۶۳

۴ عددهای زیر را از کمترین به بیشترین به ترتیب بنویس.



۵ جواب جمع و تفریقها را بنویس؛ سپس جوابها را مقایسه کن و علامت مناسب را انتخاب کن.

$50 + 30 = \bigcirc$



$80 - 10 = \bigcirc$

$35 - 5 = \bigcirc$



$20 + 5 = \bigcirc$

$10 + 10 + 5 + 3 = \bigcirc$



$20 + 10 + 7 = \bigcirc$

$20 + 10 - 10 = \bigcirc$



$10 + 5 + 5 = \bigcirc$

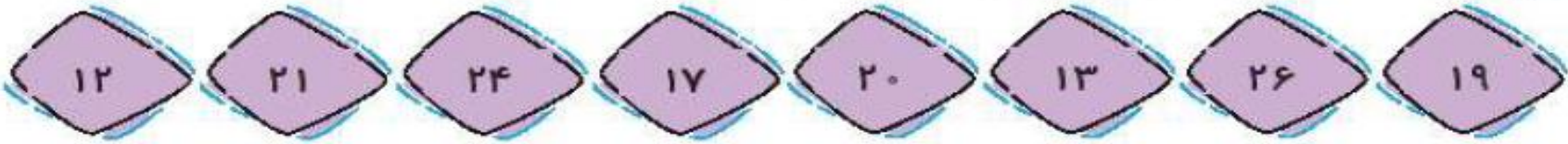
$3 + 30 + 10 = \bigcirc$



$20 + 2 + 20 = \bigcirc$

عددهای زیر را از کمترین به بیشترین به ترتیب بنویس.

۴



۱۲-۱۳-۱۷-۱۹-۲۰-۲۱-۲۴-۲۶

جواب جمع و تفریقها را بنویس؛ سپس جوابها را مقایسه کن و علامت مناسب را انتخاب کن.

۵

$۵۰ + ۳۰ = ۸۰$	$< = >$	$۸۰ - ۱۰ = ۷۰$
----------------	---------	----------------

$۳۵ - ۵ = ۳۰$	$< = >$	$۲۰ + ۵ = ۲۵$
---------------	---------	---------------

$۱۰ + ۱۰ + ۵ + ۳ = ۲۸$	$< = >$	$۲۰ + ۱۰ + ۷ = ۳۷$
------------------------	---------	--------------------

$۲۰ + ۱۰ - ۱۰ = ۲۰$	$< = >$	$۱۰ + ۵ + ۵ = ۲۰$
---------------------	---------	-------------------

$۳ + ۳۰ + ۱۰ = ۴۳$	$< = >$	$۲۰ + ۲ + ۲۰ = ۴۲$
--------------------	---------	--------------------

۶

عددهای مثل هم را با خط کش به هم وصل کن.

8	۲	8
2	۸	2
5	۵	5



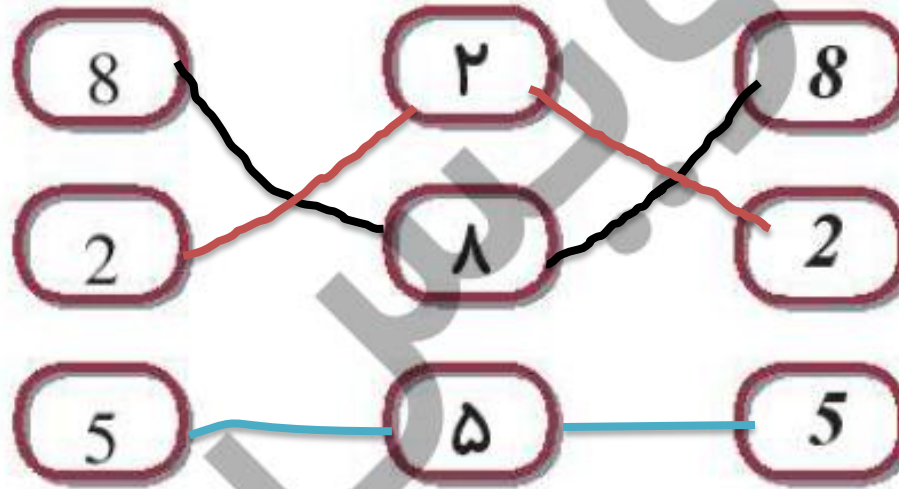
- دانش آموز بتواند اعداد را به ترتیب از کم تر به بیش تر مرتب کند.
- دانش آموز بتواند جمع و تفریق ها را به صورت ذهنی انجام دهد.
- دانش آموز بتواند اعداد را به صورت های مختلف بخواند.

ریاضی اول دبستان



۶

عددهای مثل هم را با خط کش به هم وصل کن.



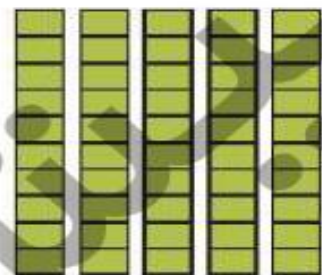
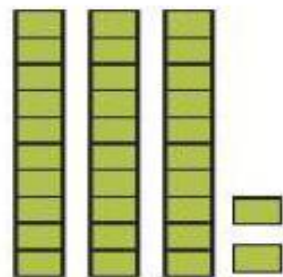
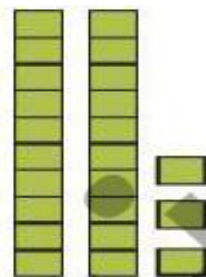
- دانش آموز بتواند اعداد را به ترتیب از کم تر به بیش تر مرتب کند.
- دانش آموز بتواند جمع و تفریق ها را به صورت ذهنی انجام دهد.
- دانش آموز بتواند اعداد را به صورت های مختلف بخواند.

ریاضی اول دبستان



# علوی

۷ عددهای هر دسته را در  بنویس و دو دسته‌ی سمت راست و چپ را با هم مقایسه کن و سپس علامت مناسب  $<=>$  را در  بگذار.



# علوی

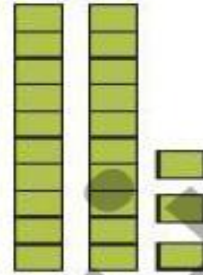
۷ عددی هر دسته را در  بنویس و دو دسته‌ی سمت راست و چپ را با هم مقایسه کن و سپس علامت مناسب  $<$   $=$   $>$  را در  بگذار.



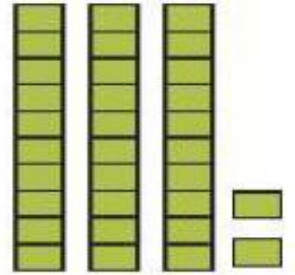
۳۴



۲۸



۲۳



۳۲



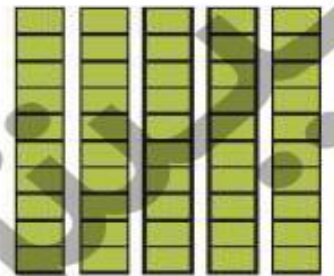
۳۹



۴۰



۲۵



۵۰

زمان‌های خواسته شده را روی هر ساعت نشان بده و عقربه‌ها را رسم کن.



ساعت ۱۲ است.



ساعت ۹ است.



ساعت ۵ است.

دانش آموز بتواند به کمک شکل، اعداد را با هم مقایسه کند.

دانش آموز بتواند زمان را به درستی نشان دهد.



زمان‌های خواسته شده را روی هر ساعت نشان بده و عقربه‌ها را رسم کن.



ساعت ۱۲ است.



ساعت ۹ است.



ساعت ۵ است.

دانش آموز بتواند به کمک شکل، اعداد را با هم مقایسه کند.

دانش آموز بتواند زمان را به درستی نشان دهد.





مسئله‌های زیر را از هر روشی که می‌خواهی حل کن.



الف) دیروز ۱۵ نفر در کلاس موسیقی ثبت نام کردند. امروز هم ۱۰ نفر دیگر ثبت نام کردند.

در کل چند نفر در کلاس موسیقی ثبت نام کرده‌اند؟



۹

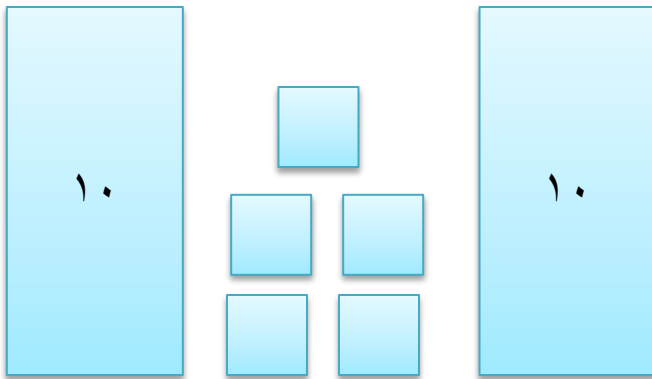
مسئله‌های زیر را از هر روشی که می‌خواهی حل کن.

الف) دیروز ۱۵ نفر در کلاس موسیقی ثبت نام کردند. امروز هم ۱۰ نفر دیگر ثبت نام کردند.

در کل چند نفر در کلاس موسیقی ثبت نام کرده‌اند؟

$$۱۵ + ۱۰ = ۲۵$$

۲۵ نفر در کلاس ثبت نام کردند.



ب) صدف از فروشگاه ۱۲ تخم مرغ خرید. ۷ تا از تخم مرغ‌ها در راه شکستند. چند تخم مرغ سالم باقی مانده است؟



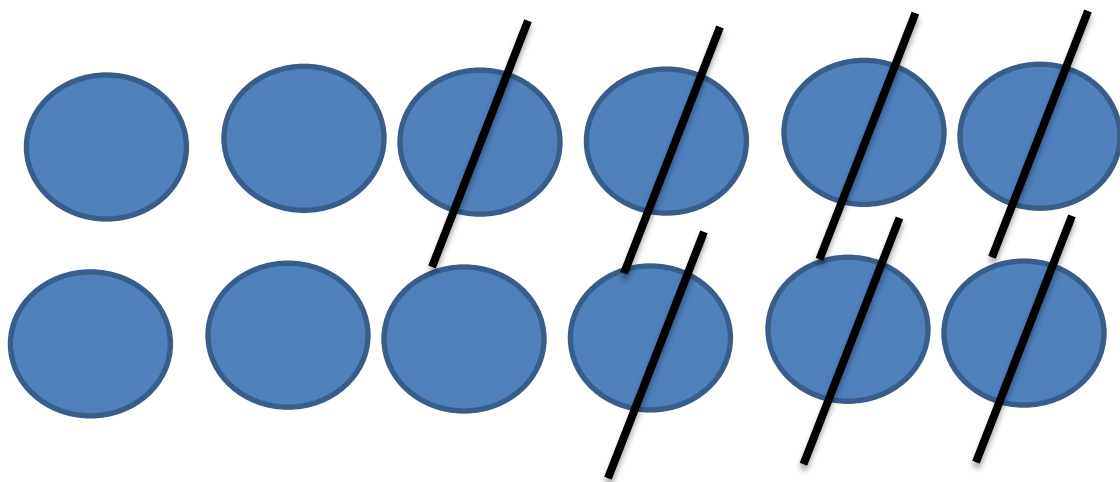
تخم مرغ

ب) صدف از فروشگاه ۱۲ تخم مرغ خرید. ۷ تا از تخم مرغها در راه شکستند. چند تخم مرغ سالم باقی مانده است؟



$$12 - 7 = 5$$

۵ تخم مرغ سالم مانده است.



پ) آذر ۲۴ کیک کوچک برای دوستانش خرید. آنها همه‌ی کیک‌ها را خوردند. او اکنون چند کیک دارد؟



پ) آذر ۲۴ کیک کوچک برای دوستانش خرید. آنها همه‌ی کیک‌ها را خوردند. او اکنون چند کیک دارد؟



$$۲۴ - ۲۴ = ۰$$

آنها • کیک دارند.

ت) ۳ دسته ی ۱۰ تایی سنجاب در جنگلی زندگی می کردند. ۷ سنجاب دیگر هم در کنار آنها آمدند. حالا چند سنجاب

در جنگل زندگی می کنند؟

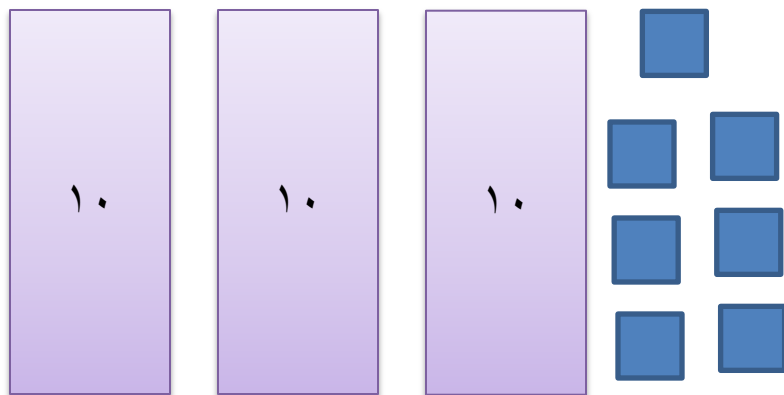


ت) ۳ دسته ی ۱۰ تایی سنجاب در جنگلی زندگی می کردند. ۷ سنجاب دیگر هم در کنار آنها آمدند. حالا چند سنجاب در جنگل زندگی می کنند؟

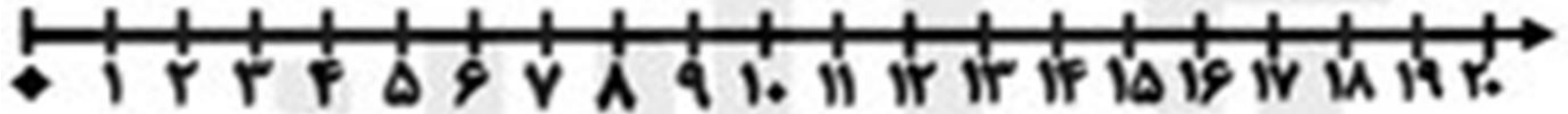


$$۳۰ + ۷ = ۳۷$$

۳۷ سنجاب در جنگل زندگی می کنند.



ت) رضا ۱۹ سال دارد. برادرش ۹ سال از او کوچکتر است. برادر رضا چند ساله است؟



ت) رضا ۱۹ سال دارد. برادرش ۹ سال از او کوچکتر است. برادر رضا چند ساله است؟



$$19 - 9 = 10$$

برادرش ۱۰ سال دارد.

