

مسئله‌های زیر را با رسم شکل حل کن.

الف) در یک فروشگاه قیمت یک پاکت شیر ۳۰ تومان و قیمت یک کیک ۲۰ تومان است.

قیمت هر دو روی هم چقدر است؟

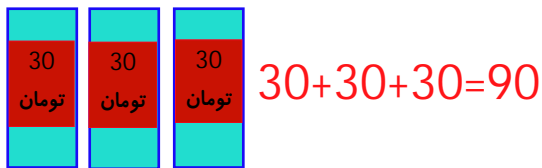


$$30+20=50$$

قیمت آنها روی هم 50 تومان می شود.

اگر ۳ پاکت شیر بخریم، چقدر پول باید پرداخت کنیم؟

باید 90 تومان پرداخت کنیم.



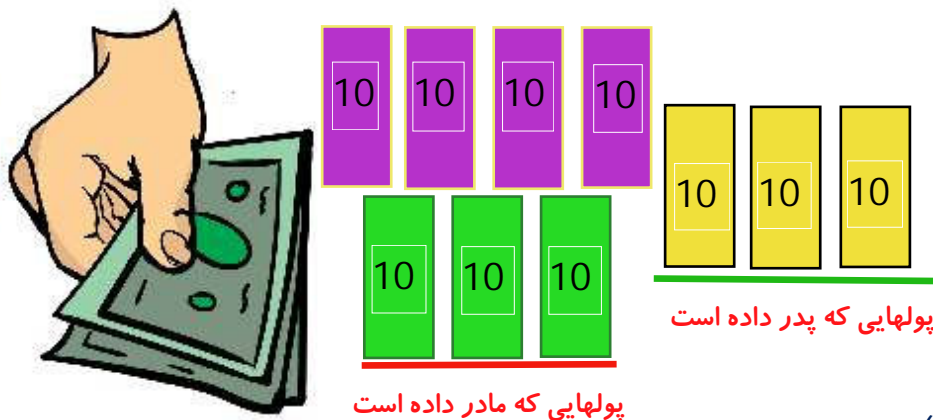
اگر دو کیک و یک پاکت شیر بخریم چقدر می شود؟

برای دو کیک و یک شیر باید 70 تومان پرداخت کنیم.



ب) کاظم ۴ دسته‌ی ۱۰ تایی پول پس انداز کرده است. مادرش هم به او ۳ دسته‌ی ۱۰ تایی دیگر پول داد.

حالا کاظم چقدر پول دارد؟



$$40+30=70$$

حالا کاظم 7 دسته‌ی ده تایی (70 تا) پول دارد.

اگر پدرش به او ۳ دسته‌ی ۱۰ تایی پول بدهد، کاظم چقدر پول خواهد داشت؟

$$70+30=100$$

کاظم 10 دسته‌ی ده تایی (100 تا) پول خواهد داشت.



۲ در هر قسمت عددهای مناسب بنویس.

الف) از ۴۶ تا ۵۷ را به ترتیب و یکی یکی بنویس.

46-47-48-49-50-51-52-53-54-55-56-57

ب) از ۲۴ تا ۴۴ را ۲ تا ۲ تا بنویس.

24-26-28-30-32-34-36-38-40-42-44

پ) از ۱۶ تا ۹۶ را ۱۰ تا ۱۰ تا بنویس.

16-26-36-46-56-66-76-86-96

ت) از ۵۵ تا ۱۰۰ را ۵ تا ۵ تا بنویس.

55-60-65-70-75-80-85-90-95-100

ث) از ۷۹ تا ۶۹ را به صورت معکوس بنویس.

79-78-77-76-75-74-73-72-71-70-69

۲ عقربه‌های ساعت آخر را با توجه به الگوی آن بکش.




الگوی ساعت‌ها 3 تا 3 تا هست، پس چهارمین و آخرین ساعت 12 می‌شود.



- دانش‌آموز بتواند الگوهای عددی را به صورت ذهنی ادامه دهد.
- دانش‌آموز بتواند الگوی ساعت‌ها را تشخیص دهد و عقربه‌ها را بکشد.


۵ برای هر شکل یک مسئله بنویس و آنها را حل کن.



پدر برای امین ۹ بستنی خریده بود. امین هر روز یک بستنی می خورد. بعد از گذشت چهار روز چندتا از بستنی ها باقی می ماند؟

$$9 - 5 = 4$$

پنج بستنی باقی می ماند.




در باغ آقا رضا ۶ گل آبی و ۷ گل قرمز روییده است. در باغ آقا رضا چند گل وجود دارد؟

$$6 + 7 = 13$$

۱۳ گل وجود دارد.

۶ برای محور زیر یک مسئله بنویس و آن را حل کن.



نرگس ۹ مداد داشت. مادرش برایش ۸ مداد دیگر خرید. نرگس ۶ تا از آنها را به مدرسه برد و به دوستانش داد. حالا نرگس چند مداد دارد؟

$$9 + 8 - 6 = 11$$

حالا نرگس ۱۱ مداد دارد.

□ دانش آموز بتواند با توجه به شکل ها و محور مسئله بنویسد و آنها را حل کند.

