




به نام خدا



آموختنی‌ها

- ۱ به نظر شما این قالی از چند رنگ بافته شده است؟
- ۲ ساعت روی دیوار چه زمانی را نشان می‌دهد؟
- ۳ برای این تصویر یک داستان بساز.
- ۴ تا ۳ از وسایلی که در تصویر می‌بینی را به ترتیب از سبک به سنگین بگو.
- ۵ دور تابلو فرش نصب شده روی دیوار یک الگوی رنگی بکش.

علوی

۱ مسئله‌های زیر را با رسم شکل حل کن.

الف) یک گل‌فروش ۱۴ گلدان در مغازه داشت. او ۶ گلدان دیگر هم به مغازه‌اش اضافه کرد. حالا گل‌فروش چند گلدان در مغازه دارد؟



او ۵ گلدان کاکتوس و ۴ گلدان لرک‌پیده دپروز فروخت. او چند گلدان فروخته است؟

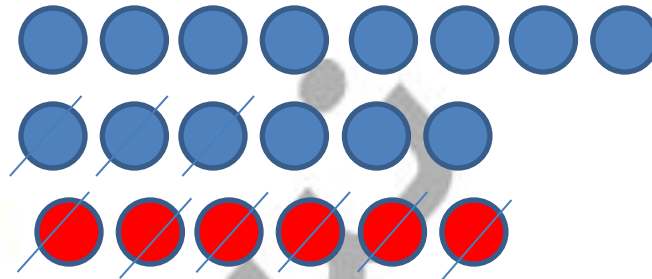
چند گلدان برای گل‌فروش باقی مانده است؟

علوی

مسئله‌های زیر را با رسم شکل حل کن.

الف) یک گل فروش ۱۴ گلدان در مغازه داشت. او ۶ گلدان دیگر هم به مغازه‌اش اضافه کرد. حالا گل فروش چند گلدان در مغازه دارد؟

$$۱۴ + ۶ = ۲۰$$



او ۲۰ گلدان دارد.

او ۵ گلدان کاکتوس و ۴ گلدان ارکیده دپروز فروخت. او چند گلدان فروخته است؟

$$۵ + ۴ = ۹$$

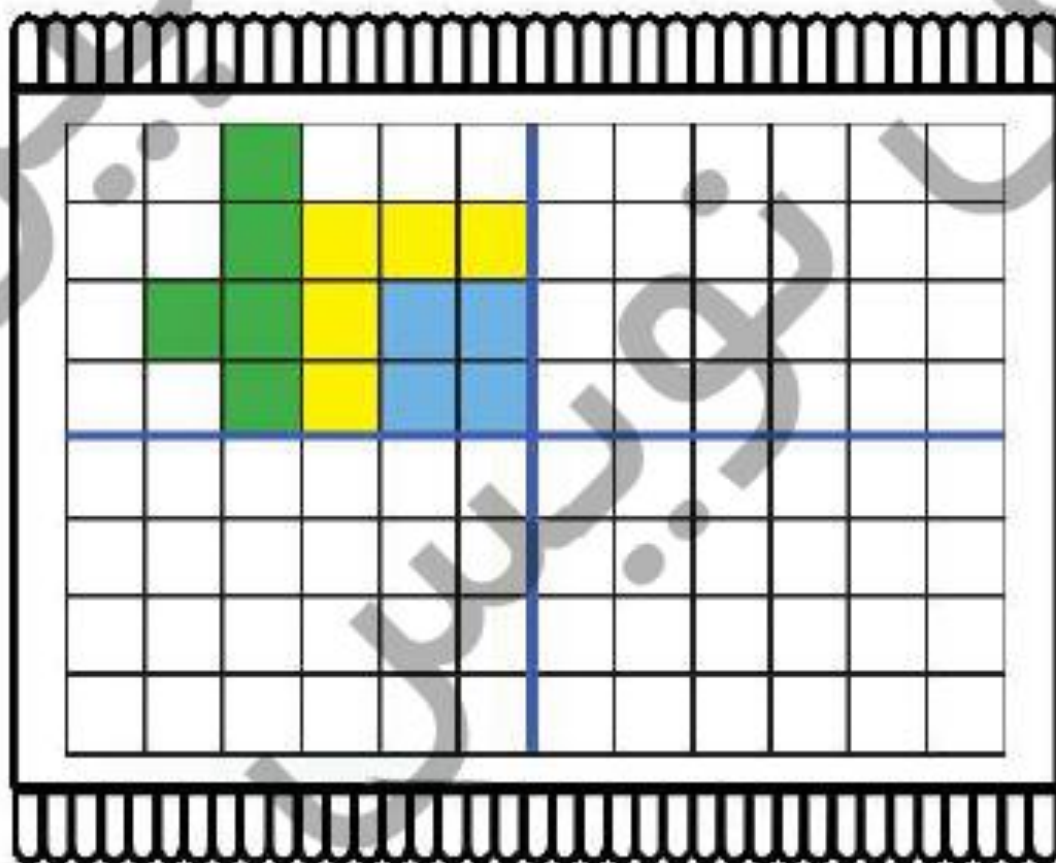
او ۹ گلدان فروخته است.

$$۲۰ + ۹ = ۱۱$$

۱۱ گلدان باقی مانده است.

چند گلدان برای گل فروش باقی مانده است؟

فرش زیر به ۴ قسمت تقسیم شده است. با توجه به قسمت رنگ شده، ۲ قسمت دیگر را هم مانند همان قسمت کامل کن.

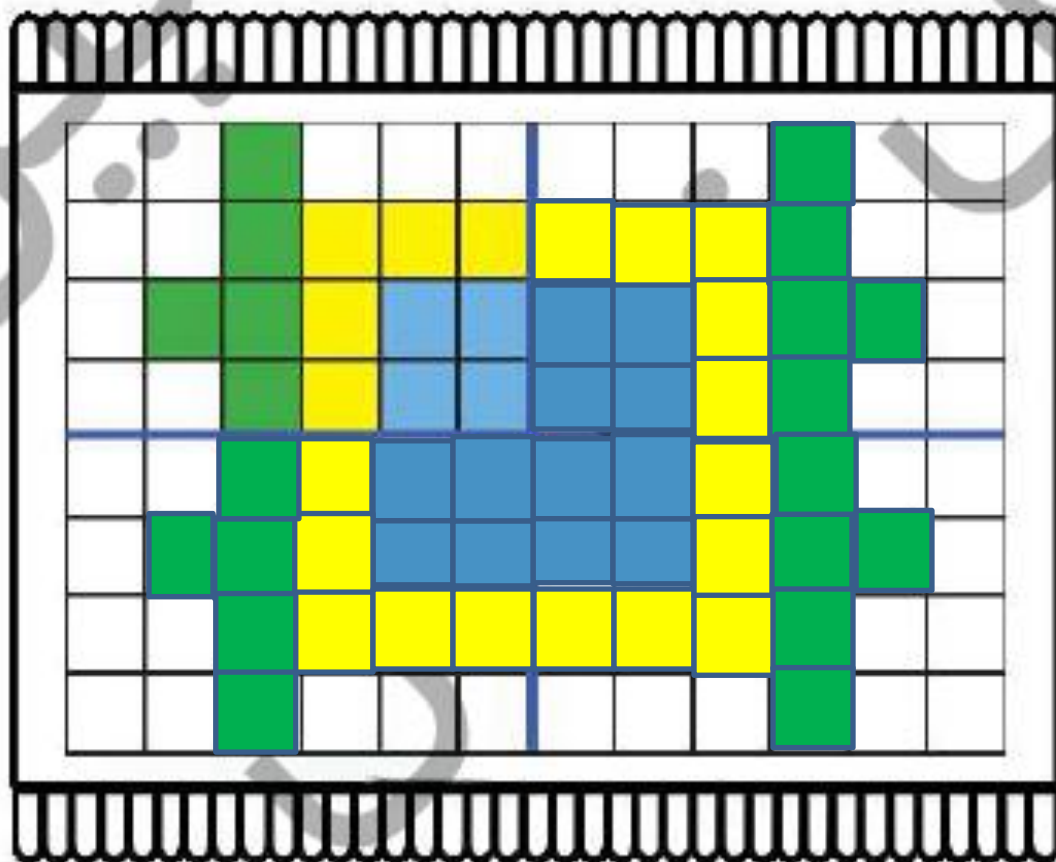


دانش آموز بتواند مسئله‌ها را با هر دو زیر مسئله را نه کمک شکل حل کند.

دانش آموز بتواند بتواند تفاوت شکل را نسبت به محور افقی و عمودی تشخیص دهد.



فرش زیر به ۴ قسمت تقسیم شده است. با توجه به قسمت رنگ شده، ۲ قسمت دیگر را هم مانند همان قسمت کامل کن.



دانش آموز بتواند مسئله‌ها را با هر دو زیر مسئله را به کمک شکل حل کند.

دانش آموز بتواند تفاوت تقارن شکل را نسبت به محور افقی و عمودی تشخیص دهد.



۲ زمانی را که هر ساعت نشان می‌دهد، بنویس.



کمی به ساعت مانده است.



ساعت از گذشته است.



کمی به ساعت مانده است.



ساعت از گذشته است.

زمانی را که هر ساعت نشان می دهد، بنویس.

۲



کمی به ساعت ... ۱۲ ... مانده است.



ساعت از ... ۲ ... گذشته است.



کمی به ساعت ... ۵ ... مانده است.



ساعت از ... ۱ ... گذشته است.

با کمک شابلون ربات زیر را بکش و به پرسش‌های زیر پاسخ بده.



..... صورت ربات به چه شکلی است؟

..... چشم‌های ربات به چه شکلی است؟

..... گوش‌های ربات به چه شکلی است؟ **دایره**

..... بینی ربات به چه شکلی است؟

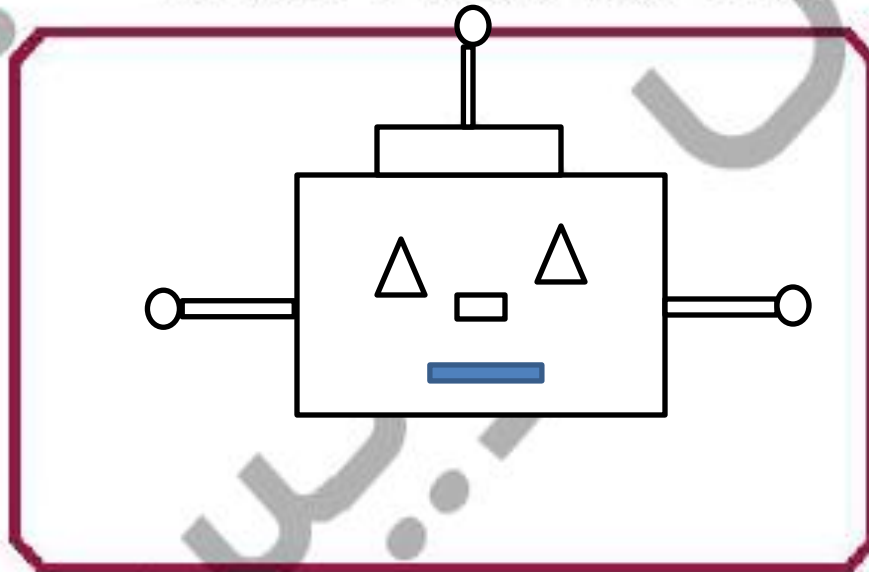


دانش‌آموز بتواند ساخت‌های گذشته و آینده را بخواند.

دانش‌آموز بتواند علاوه بر شناخت اشکال هندسی اصلی نوشتاری آن‌ها را نیز یاد بگیرد.



با کمک شابلون ربات زیر را بکش و به پرسش‌های زیر پاسخ بده.



چشم‌های ربات به چه شکلی است؟ مثلث

صورت ربات به چه شکلی است؟ مستطیل

بینی ربات به چه شکلی است؟ مستطیل

گوش‌های ربات به چه شکلی است؟ دایره



☐ دانش‌آموز بتواند ساعت‌های گذشته و آینده را بخواند.

☐ دانش‌آموز بتواند علاوه بر شناخت اشکال هندسی اصلی نوشتاری آن‌ها را نیز یاد بگیرد.



هر جمله را با خط کش به ساعت مربوط به خودش وصل کن.



معصومه دیروز ساعت ۷ از خواب بیدار شد.



او کمی مانده به ساعت ۸ به طرف مدرسه رفت.



او در رنگ تفریح ساعت ۹ کمی نان و پنیر خورد.



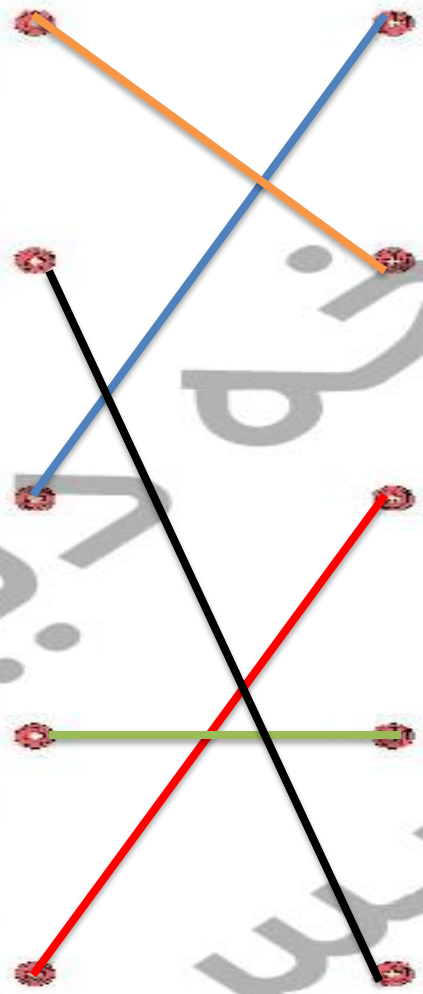
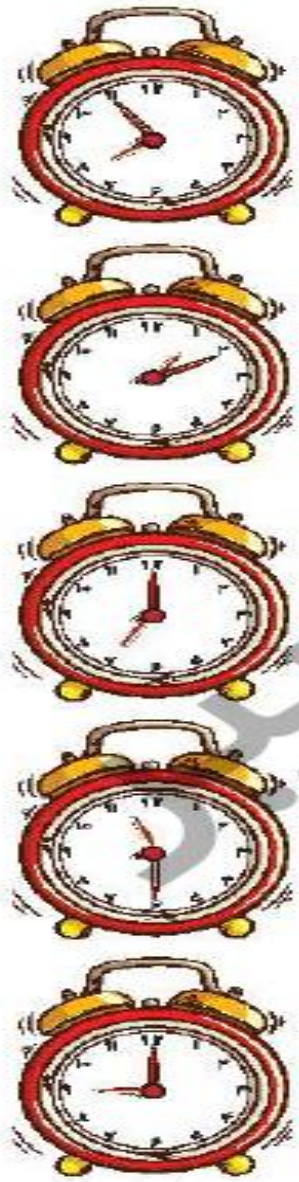
معصومه بین ساعت ۱۱ و ۱۲ در کلاس فارسی بود.



او کمی از ساعت ۱ گذشته، به خانه برگشت.

نسیب نوینس

هر جمله را با خط کش به ساعت مربوط به خودش وصل کن.



معصومه دیروز ساعت ۷ از خواب بیدار شد.

او کمی مانده به ساعت ۸ به طرف مدرسه رفت.

او در رنگ تفریح ساعت ۹ کمی نان و پنیر خورد.

معصومه بین ساعت ۱۱ و ۱۲ در کلاس فارسی بود.

او کمی از ساعت ۱ گذشته، به خانه برگشت.

نسیان نوینس

مسئله‌ها را با چوب‌خط و یا کشیدن شکل حل کن.

۶

الف) ۶ قناری روی شاخه‌ی درختی نشسته بودند. ۵ بلبل کنار آنها آمدند. ۸ گنجشک هم به آنها اضافه شدند. حالا چند پرنده روی درخت نشسته‌اند؟



مسئله‌ها را با چوب‌خط و یا کشیدن شکل حل کن.

۶

الف) ۶ قناری روی شاخه‌ی درختی نشسته بودند. ۵ بلبل کنار آنها آمدند. ۸ گنجشک هم به آنها اضافه شدند. حالا چند پرنده روی درخت نشسته‌اند؟



۱۹ پرنده روی درخت نشسته است.

$$۶ + ۵ + ۸ = ۱۹$$



ب) منصور ۱۸ مهره‌ی سیاه و سفید دارد. اگر ۹ تا از مهره‌هایش سفید باشند، چند مهره‌ی سیاه دارد؟



سینما




ب) منصور ۱۸ مهره‌ی سیاه و سفید دارد. اگر ۹ تا از مهره‌هایش سفید باشند، چند مهره‌ی سیاه دارد؟



$$18 - 9 = 9$$

۹ مهره‌ی سیاه دارد.



پ) فاطمه خانم ۴ پیراهن قرمز، ۶ پیراهن سبز و ۹ پیراهن صورتی دوخته است. او چند پیراهن دوخته است؟



پ) فاطمه خانم ۴ پیراهن قرمز، ۶ پیراهن سبز و ۹ پیراهن صورتی دوخته است. او چند پیراهن دوخته است؟



او ۱۹ پیراهن دوخته است.

$$۴ + ۶ + ۹ = ۱۹$$



ت) روی یک درخت ۱۲ زردآلو بود. باغبان ۱۶ تا از آن‌ها را چید. چند زردآلو روی درخت است؟

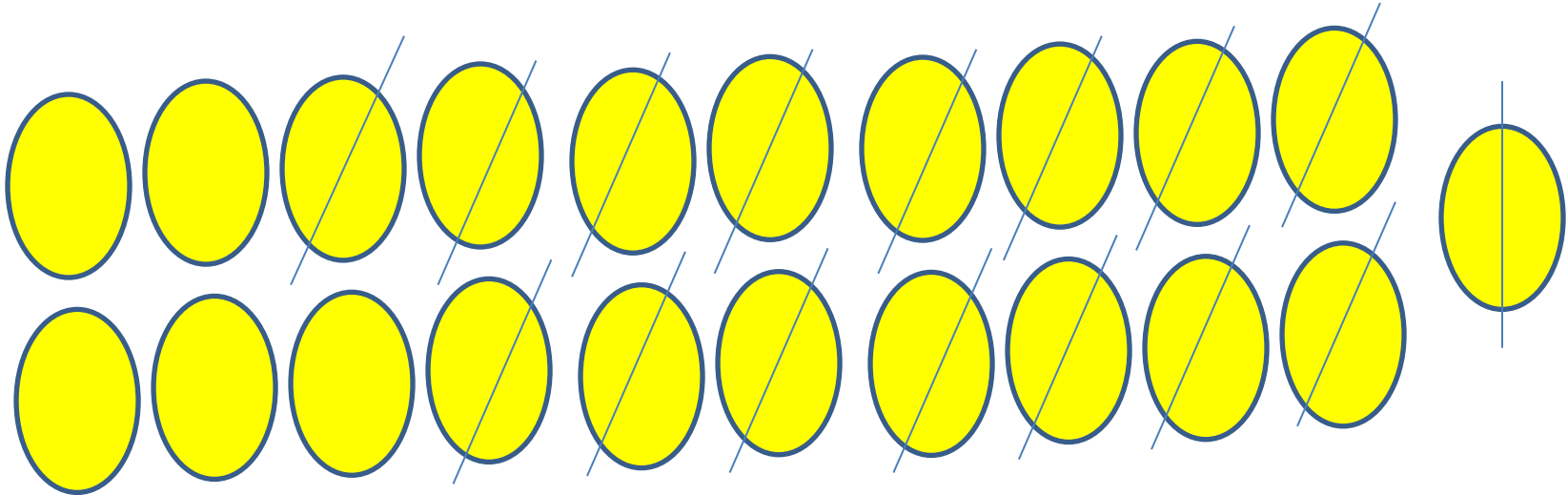


ت) روی یک درخت ۲۱ زردآلو بود. باغبان ۱۶ تا از آن‌ها را چید. چند زردآلو روی درخت است؟



$$21 - 16 = 5$$

۵ زردآلو روی درخت است.




ت) آموزگار دو بسته گچ • اتایی سفید در کلاس داشت. ناظم ۱ بسته • اتایی گچ زرد و ۶ بسته گچ • اتایی قرمز هم به او داد. حالا آموزگار چند گچ در کلاس دارد؟




مسئله‌ها را به روش دلخواه حل کن؛ سپس جمله‌ها را کامل کن.

الف) آقا رضا ۱۹ لیوان داشت. او ۹ لیوان قرمز و ۸ لیوان آبی را فروخته است. حالا آقا رضا چند لیوان دارد؟



آقا رضا ۱۷ لیوان فروخته است. $9 \dots + 8 \dots = 17 \dots$

آقا رضا ۲ لیوان دارد. $19 \dots - 17 \dots = 2 \dots$



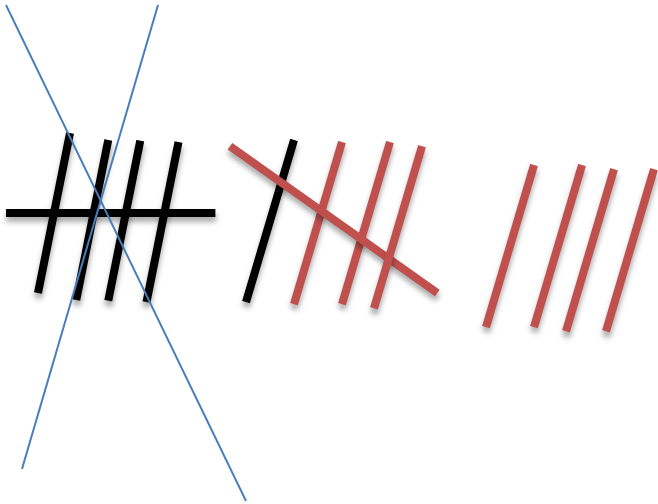
ب) حسین ۶ بستنی قیفی و ۸ بستنی عروسکی خرید. او ۵ تا از بستنی‌ها را خورد. حسین چند بستنی دارد؟

$$6 + 8 = 14$$

حسین ۱۴ بستنی خریده است.

$$14 - 5 = 9$$

حسین ۹ بستنی دارد.



پ) آذر یک کتاب داستان ۲۳ صفحه‌ای دارد. او دیروز ۷ صفحه و امروز ۸ صفحه از کتابش را خوانده است. او چند صفحه از کتاب را نخوانده است؟

$$\underline{\quad 7 \quad} + \underline{\quad 8 \quad} = \underline{\quad 15 \quad}$$

آذر ۱۵ صفحه را خوانده است.

$$\underline{\quad 23 \quad} - \underline{\quad 15 \quad} = \underline{\quad 8 \quad}$$

آذر ۸ صفحه را نخوانده است.

