



تمرینی تم (۲۵)

موضوع:

تاریخ:

نام و نام خانوادگی:

هدف:

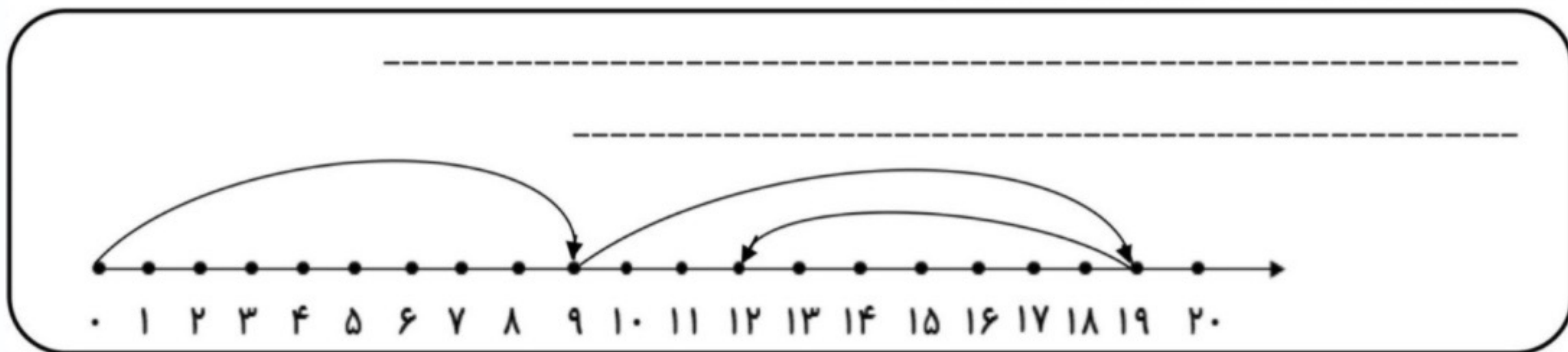
۱- جاهای خالی را با اعداد مناسب کامل کن.

۱۹	-----	۱۰۰	-----	۲۱	-----	۸۳
-----	نود و سه	-----	چهل و نه	-----	دوازده	-----

۷۸ - ۸۰ - ۸۲ -----

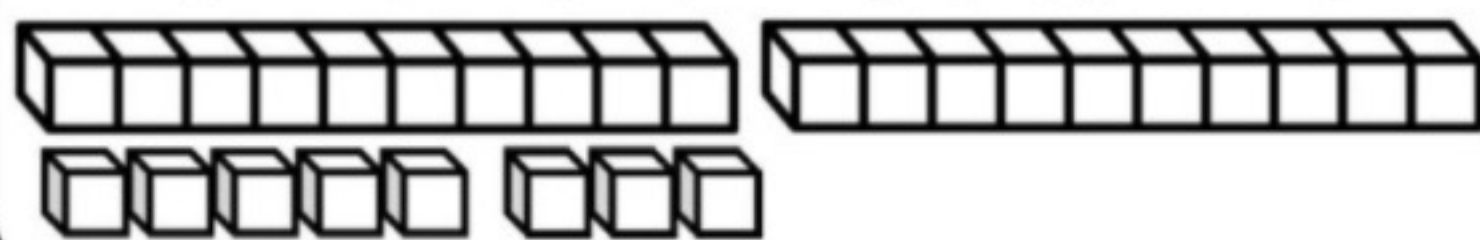
۵۵ - ۵۶ - ۵۷ -----

۲- برای محور یک مسئله بنویس و آن را حل کن.



۳- مسئله را با توجه به شکل حل کن.

مادر علی ۲۸ کاموا داشت. او با ۷ کاموا کلاه بافت. با ۷ کاموای دیگر شال گردن بافت. چند کاموا



برای او باقی مانده است؟

۴- با توجه به اعداد جاهای خالی را کامل کن.

----- ده تایی و ----- یکی می شود

----- با حروف:




----- ده تایی و ----- یکی می شود

----- با حروف:




----- ده تایی و ----- یکی می شود

----- با حروف:



----- ده تایی و ----- یکی می شود

----- با حروف:



باز خورد:

Blank writing area with horizontal lines.

