



نم ۲۵



آموختنی‌ها

- ۱ چند نکته درباره‌ی بهداشت فردی بگو.
- ۲ شما چه مواقعی از شبانه‌روز مسواک می‌زنید؟
- ۳ او با کدام دستش مسواک را نگه داشته است؟ آیا در آینه دست او تغییر کرده است؟ چرا؟
- ۴ اگر او دستش را بالا ببرد آیا در آینه جهت دست او تغییر می‌کند؟
- ۵ روی کاشی‌ها ۱۰ تا ۱۰ تا بشمار و عددهای مناسب را بنویس.

جدول زیر را کامل کن و به پرسش‌های زیر پاسخ بده.

۱

۱	۲	۳							۱۰
					۱۶				
								۲۹	
		۳۳							
					۴۶				
							۵۸		
	۶۲								
				۷۵					
۸۱									
			۹۴						۱۰۰

الف) از ۸ شروع کن و ۸ تا ۸ تا به جلو برو. ششمین عددی که به آن می‌رسی کدام است؟ به عدد و حروف بنویس.
 به عدد: به حروف:

ب) از ۹ شروع کن و ۹ تا ۹ تا به جلو برو. هفتمین عددی که به آن می‌رسی کدام است؟ به عدد و حروف بنویس.
 به عدد: به حروف:

جدول زیر را کامل کن و به پرسش‌های زیر پاسخ بده.

۱

۱	۲	۳	۴	۵	۶	۷	۸	۹	۱۰
۱۱	۱۲	۱۳	۱۴	۱۵	۱۶	۱۷	۱۸	۱۹	۲۰
۲۱	۲۲	۲۳	۲۴	۲۵	۲۶	۲۷	۲۸	۲۹	۳۰
۳۱	۳۲	۳۳	۳۴	۳۵	۳۶	۳۷	۳۸	۳۹	۴۰
۴۱	۴۲	۴۳	۴۴	۴۵	۴۶	۴۷	۴۸	۴۹	۵۰
۵۱	۵۲	۵۳	۵۴	۵۵	۵۶	۵۷	۵۸	۵۹	۶۰
۶۱	۶۲	۶۳	۶۴	۶۵	۶۶	۶۷	۶۸	۶۹	۷۰
۷۱	۷۲	۷۳	۷۴	۷۵	۷۶	۷۷	۷۸	۷۹	۸۰
۸۱	۸۲	۸۳	۸۴	۸۵	۸۶	۸۷	۸۸	۸۹	۹۰
۹۱	۹۲	۹۳	۹۴	۹۵	۹۶	۹۷	۹۸	۹۹	۱۰۰

الف) از ۸ شروع کن و ۸ تا ۸ تا به جلو برو. ششمین عددی که به آن می‌رسی کدام است؟ به عدد و حروف بنویس.

به عدد: ۵۶ به حروف: پنجاه و شش

ب) از ۹ شروع کن و ۹ تا ۹ تا به جلو برو. هفتمین عددی که به آن می‌رسی کدام است؟ به عدد و حروف بنویس.

به عدد: ۷۲ به حروف: هفتاد و دو

پ) از ۲۸ شروع کن و ۱۰ تا ۱۰ تا به جلو برو. چهارمین عددی که به آن می‌رسی کدام است؟ به عدد و حروف بنویس.

به عدد: به حروف:

ت) از ۱۰ شروع کن و ۱۰ تا ۱۰ تا به جلو برو. آخرین عددی که به آن می‌رسی کدام است؟ به عدد و حروف بنویس.

به عدد: به حروف:

ث) به ۱۰ بسته‌ی ۱۰ تایی یک دسته‌ی می‌گویند.

پ) از ۲۸ شروع کن و ۱۰ تا ۱۰ تا به جلو برو. چهارمین عددی که به آن می‌رسی کدام است؟ به عدد و حروف بنویس.

به عدد: ۶۸ به حروف: شصت و هشت

ت) از ۱۰ شروع کن و ۱۰ تا ۱۰ تا به جلو برو. آخرین عددی که به آن می‌رسی کدام است؟ به عدد و حروف بنویس.

به عدد: ۱۰۰ به حروف: صد

ث) به ۱۰ بسته‌ی ۱۰ تایی یک دسته‌ی ۱۰۰ می‌گویند.

مسئله‌های زیر را با رسم شکل حل کن.

الف) در یک فروشگاه قیمت یک پاکت شیر ۳۰ تومان و قیمت یک کیک ۲۰ تومان است.

قیمت هر دو روی هم چقدر است؟



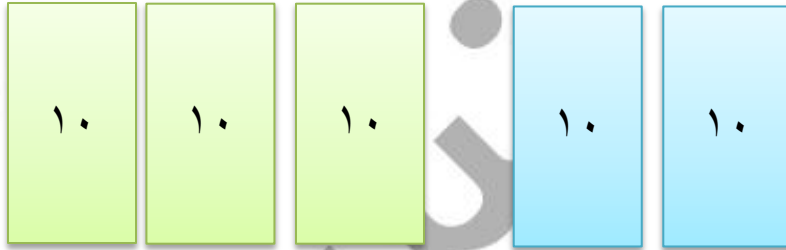
اگر ۳ پاکت شیر بخریم، چقدر پول باید پرداخت کنیم؟

اگر دو کیک و یک پاکت شیر بخریم چقدر می‌شود؟

مسئله‌های زیر را با رسم شکل حل کن.

الف) در یک فروشگاه قیمت یک پاکت شیر ۳۰ تومان و قیمت یک کیک ۲۰ تومان است. قیمت هر دو روی هم چقدر است؟ روی هم ۵۰ تومان است

$$۳۰ + ۲۰ = ۵۰$$



اگر ۳ پاکت شیر بخریم، چقدر پول باید پرداخت کنیم؟

۹۰ تومان باید پرداخت کنیم.

$$۳۰ + ۳۰ + ۳۰ = ۹۰$$

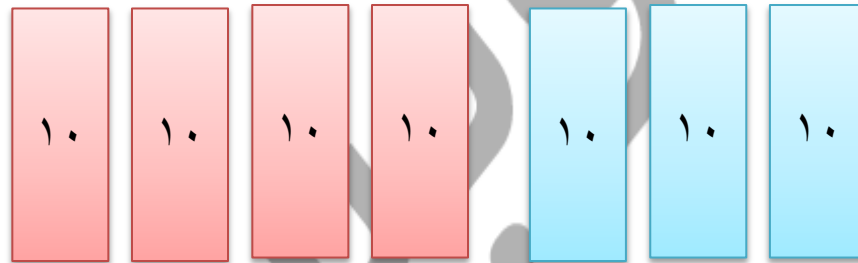
اگر دو کیک و یک پاکت شیر بخریم چقدر می‌شود؟ ۷۰ تومان می‌شود.

$$۲۰ + ۲۰ + ۳۰ = ۷۰$$

ب) کاظم ۴ دستہ‌ی ۱۰ تایی پول پس انداز کرده است. مادرش هم به او ۳ دستہ‌ی ۱۰ تایی دیگر پول داد.

حالا کاظم چقدر پول دارد؟

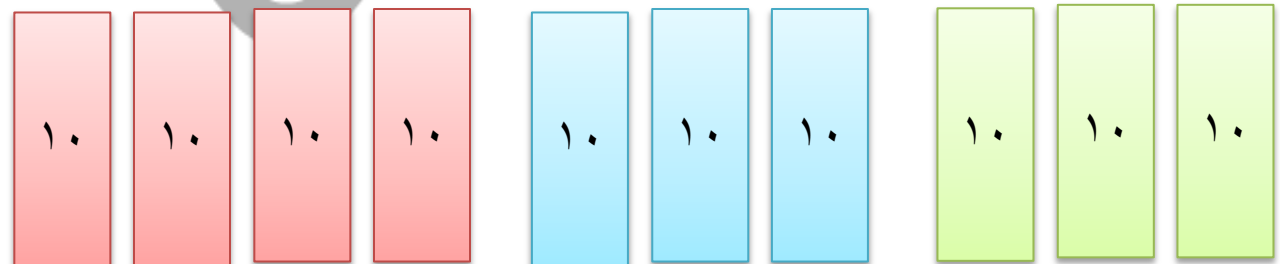
$$۴۰ + ۳۰ = ۷۰$$



$$۷۰ + ۳۰ = ۱۰۰$$

اگر پدرش به او ۳ دستہ‌ی ۱۰ تایی پول بدهد، کاظم چقدر پول خواهد داشت؟

۱۰۰ تومان دارد



در هر قسمت عددهای مناسب بنویس.

الف) از ۴۶ تا ۵۷ را به ترتیب و یکی یکی بنویس.

ب) از ۲۴ تا ۴۴ را ۲ تا ۲ تا بنویس.

پ) از ۱۶ تا ۹۶ را ۱۰ تا ۱۰ تا بنویس.

ت) از ۵۵ تا ۱۰۰ را ۵ تا ۵ تا بنویس.

ث) از ۷۹ تا ۶۹ را به صورت معکوس بنویس.

در هر قسمت عددهای مناسب بنویس.

الف) از ۴۶ تا ۵۷ را به ترتیب و یکی یکی بنویس.

۴۶-۴۷-۴۸-۴۹-۵۰-۵۱-۵۲-۵۳-۵۴-۵۵-۵۶-۵۷

ب) از ۲۴ تا ۴۴ را ۲ تا ۲ بنویس.

۲۴-۲۶-۲۸-۳۰-۳۲-۳۴-۳۶-۳۸-۴۰-۴۲-۴۴

پ) از ۱۶ تا ۹۶ را ۱۰ تا ۱۰ بنویس.

۱۶-۲۶-۳۶-۴۶-۵۶-۶۶-۷۶-۸۶-۹۶

ت) از ۵۵ تا ۱۰۰ را ۵ تا ۵ بنویس.

۵۵-۶۰-۶۵-۷۰-۷۵-۸۰-۸۵-۹۰-۹۵-۱۰۰

ث) از ۷۹ تا ۶۹ را به صورت معکوس بنویس.

۶۹-۷۰-۷۱-۷۲-۷۳-۷۴-۷۵-۷۶-۷۷-۷۸-۷۹

عقربه‌های ساعت آخر را با توجه به الگوی آن بکش.

۴



عقربه‌های ساعت آخر را با توجه به الگوی آن بکش.

۴



۳



۶



۹



۱۲