



موضوع:


تاریخ

نام و نام خانوادگی

هدف:

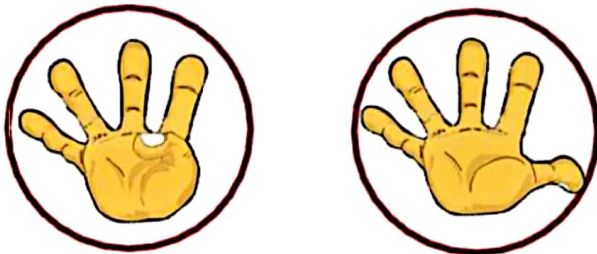


عدد مربوط به هر دسته را بنویس. انگشتان دست چپ را تا جایی که می شود به دست راست منتقل کن و حاصل را بنویس. سپس جمله ی مربوط به آن را کامل کن.



$$\underline{\quad\quad} + \underline{\quad\quad} = \underline{\quad\quad}$$

۳ و ۳ می شود



$$\underline{\quad\quad} + \underline{\quad\quad} = \underline{\quad\quad}$$

۴ و ۵ می شود




موضوع:

تاریخ

نام و نام خانوادگی

هدف:



عدد مربوط به هر شکل را بنویس و با چوب خط حساب کن و حاصل جمع را بنویس.

$$\square + \square = \square$$

$$\square + \square = \square$$

$$\square + \square = \square$$

$$\square + \square = \square$$

در جای های خالی عدد مناسب بنویس.

$$\square + \square = 4$$

$$\square + \square = 3$$

$$\square + \square = 2$$

$$\square + \square = 5$$