



موضوع:

تاریخ

نام و نام خانوادگی

هدف:



به تعداد انگشتانی که دست راست نشان بدهد از انگشتان دست چپ بپند. حالا چه عددی را نشان می دهد؟ تفریق مربوط به شکل هارا بنویس.



$$\square - \square = \square$$



$$\square - \square = \square$$



$$\square - \square = \square$$





موضوع:

تاریخ:

نام و نام خانوادگی:

هدف:



مانند نمونه با کشیدن شکل یا رنگ کردن، جمع کن.



$$۲ + ۳ =$$

$$۵ + ۴ =$$




$$۷ + ۳ =$$

مربع های شگفت انگیز پایین را کامل کن.

۴	۳	۵	۲	۱	۶
۱	۶		۴	۳	۵
	۲	۳	۶	۴	۱
۶	۴		۳		۲
۲	۵		۱		۳
	۱	۶	۵	۲	۴

۲	۵		۶	۳	۴
۳	۴	۶	۲	۵	۱
۱	۲				۳
۴	۶		۵	۱	۲
۵	۱	۴	۳	۲	۶
۶			۱	۴	۵




موضوع:

تاریخ:

نام و نام خانوادگی:




در هر قسمت با توجه به عدد کنار آن؛ شکل‌ها را با کشیدن خط دسته بندی کن.



۳

..... دسته ی سه تایی و


یکی



۵

..... دسته ی پنج تایی و

یکی



۸

..... دسته ی هشت تایی و

یکی



موضوع:


تاریخ

نام و نام خانوادگی

هدف:



جایهای خالی را با عدد مناسب کامل کن.



ده تایی	یکی



ده تایی	یکی



ده تایی	یکی