



نام و نام خانوادگی: _____

تاریخ: _____

موضوع: _____

هدف: _____

۱- عزیزم با توجه به عدد برای هر دسته چوب خط بکش.

↓	↓	↓
۱۳	۱۸	۲۰

۲- عدد هر دسته را بنویس و از علامت (< = >) کمتر، بیشتر یا مساوی استفاده کن.


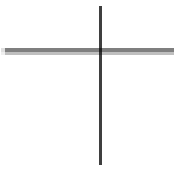
 ○	 ○	 ○	 ○
--	--	---	--

۳- الگوی شمارش را ادامه بده.


۱۵ - ۲۰ - ۲۵ -

۶ - ۸ - ۱۰ -


۴- اعداد زیر را داخل جدول یکی و ده تایی قرار بده و عدد را به حروف بنویس.


۱۸  به حروف:	۴۵  به حروف:
---	---

۵- اندازه شکل زیر چند تا چند است؟



اندازه ی مداد است.

 است.






نام و نام خانوادگی: _____ تاریخ: _____ موضوع: _____ هدف: _____

۶- جواب جمع و تفریق ها را بنویس .

$8 + 3 = \square$
 $10 + 5 + 3 = \square$
 $9 - 3 = \square$
 $60 - 10 = \square$

$4 + 5 - 3 =$

۷- عبارت زیر را روی محور نشان بده .




۸- برای مسئله ی زیر شکل بکش و عبارت جمع یا تفریق بنویس .

سارا ۱۰ بادکنک داشت . مادرش به او ۳ بادکنک و برادرش ۲ بادکنک دیگر به او دادند . حالا او روی هم چند بادکنک دارد ؟

۹- جاهای خالی را کامل کن .



زمان بین و است .



کمی به ساعت مانده است .

