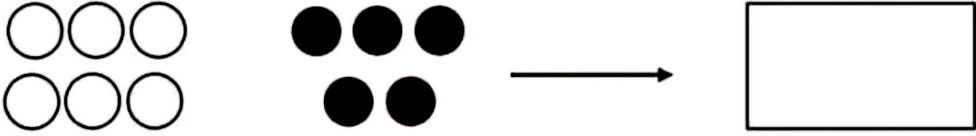
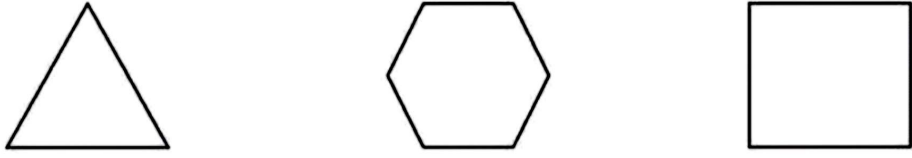



ردیف	سوالات
۱	<p>شکل‌های هر دو دسته روی هم چندتا می‌شود با چوب خط نشان بده.</p> 
۲	<p>لبه‌ها را با قرمز و گوشه‌ها را با آبی رنگ بزن.</p> 
۳	<p>بین هر دو عدد علامت مناسب < = > بگذار.</p> <p> $۷۰ \bigcirc ۴۲$ $۲۵ \bigcirc ۴۶$ $۵ + ۴ \bigcirc ۱۰ - ۱$ </p>
۴	<p>در جای خالی عدد مناسب بنویس.</p> <p> $۲۰ + ۱۰ + ۴ = \dots\dots\dots$ $۵ + ۳۰ + ۵ = \dots\dots\dots$ </p>
۵	<p>نام هر شکل را بنویس.</p>  <p>.....</p> <p>.....</p> <p>.....</p>