

نام کلاس:

نام و نام خانوادگی:

۱) اندازه‌ی هر شکل، چند گیره (🔗) است؟ وصل کنید.

Objects: (1) Pencil, (2) Ruler, (3) Truck, (4) Three leaves.

Options: الف) ۷, ب) ۹, پ) ۵, ت) ۸.

Connections: (1) to ۷, (2) to ۹, (3) to ۵, (4) to ۸.

۲) درستی یا نادرستی جملات داده شده را مشخص کنید.

نادرست

درست



$$\begin{matrix} \bigcirc & \bigcirc & \bigcirc & \bigcirc & \bigcirc & \bigcirc \\ \bigcirc & \bigcirc & \bigcirc & \bigcirc & \bigcirc & \bigcirc \end{matrix} = \begin{matrix} \bigcirc & \bigcirc & \bigcirc & \bigcirc & \bigcirc \\ \bigcirc & \bigcirc & \bigcirc & \bigcirc & \bigcirc \end{matrix} \text{ (الف)}$$

ب) عدد ۷ کمتر از عدد ۹ است.

پ) عدد ۸ در جای خالی قرار می‌گیرد: $6 > \square$

ت) عدد ۴ در جای خالی قرار می‌گیرد: $5 < \square$

۳) انگشتان یک دست را تا جایی که امکان دارد به دست دیگر منتقل کنید، سپس چوب‌خط درست را مشخص کنید.

+++ (۲)

+++ / (۱) ✓



+++ / / / (۲) ✓

+++ / / / / (۱)



+++ / / (۲) ✓


+++ / / / (۱)



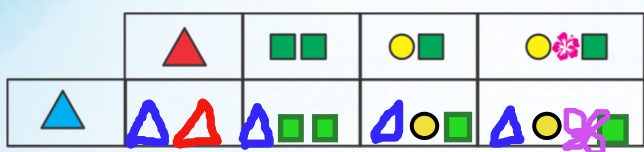
/ / / / (۲)

+++ (۱) ✓





۵) با توجه به شکل‌هایی که در هر ردیف و ستون قرار دارد، جدول را کامل کنید.



۶) مربع‌ها را به تعداد انگشتان دست سمت چپ رنگ آبی، به تعداد انگشتان دست سمت راست رنگ قرمز بنویسید. سپس عدد

مربع‌های رنگ شده را بنویسید.



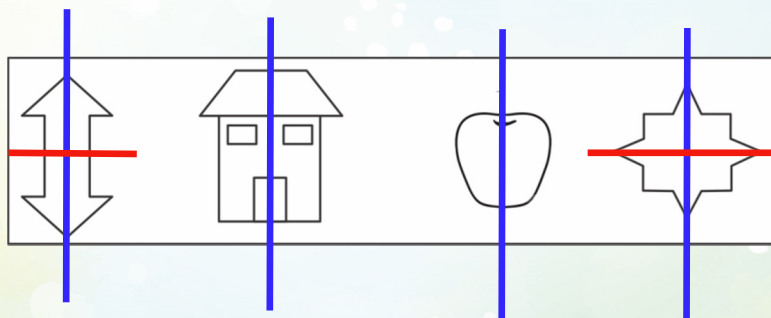
۷







۹




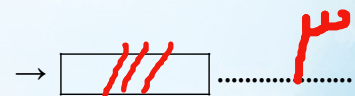

۷) با استفاده از خط کش، خط‌هایی بکشید که شکل‌ها را به دو نیمه‌ی مثل هم تقسیم کنند و هر دو نیمه‌ی هر شکل را رنگ کنید.



۸) با توجه به تصویر، اندازه‌ی قد هر میوه را نوشته و سپس مقایسه کنید و علامت $<$ $=$ $>$ بگذارید.



۹) به تعداد شکل‌های سمت راست از شکل‌های سمت چپ بردارید، چند تا باقی می‌ماند؟ عدد آن را نوشته و چوب خط بکشید.



۱۰ جدول شگفت‌انگیز را کامل کنید.

۲	۵	(الف)	۶	۳	۴
(پ)	۴	۶	۲	۵	(ب)
۱	۲	۵	(د)	۶	۳
۴	(ج)	۳	۵	۱	(ز)
۵	۱	۴	۳	۲	۶
۶	۳	(ه)	۱	(ح)	۵

- (الف)
- (ب)
- (پ)
- (ت)
- (ث)
- (ج)
- (چ)
- (ح)