



1--پانیز 2 دسته ی ده تایی مداد قرمز داشت خانم معلم هم به او 3 دسته ی ده تایی دیگر داد حالا پانیز چند دسته ی ده تایی مداد دارد؟(شکل بکش)

2-باران 8 هایلایت سبز رنگ، 6 هایلایت صورتی رنگ و 5 هایلایت بنفش رنگ دارد با رسم چوب خط نشان بده باران روی هم چند هایلایت دارد؟

3-بارانا می توانست با دوربینش 19 عکس بگیرد. او 3 عکس از روشا گرفت 2 عکس از الینا گرفت و 4 عکس هم از رها گرفت چند عکس دیگر هنوز می تواند بگیرد.(با رسم محور نشان بده)



4- لیانا 85 عدد شکلات دارد و می خواهد آن را در بسته های ده تایی دسته بندی کند او چند بسته ی ده تایی می تواند درست کند و چند شکلات برایش باقی می ماند؟(با رسم شکل جواب را پیدا کن)

5- روشا یک بسته مداد رنگی 12 تایی دارد مادر هم برایش یک بسته مداد رنگی 6 تایی خرید حالا روشا چند مداد رنگی دارد؟

اگر روشا از بین مداد رنگی هایش 4 رنگ را به دوستش بدهد چند رنگ دیگر برای خودش می ماند؟





موضوع:

تاریخ

نام و نام خانوادگی

هدف:

6- شایلین 23 عکس برگردان دارد 7 تا از آنها را به دوستش ثنا داد، اگر 5 تا هم به روشا بدهد حالا برای خودش چند عکس برگردان می ماند؟ (بارسم شکل نشان بده)

7- آلا سه ظرف دارد او در یک ظرف 8 پرتقال و در ظرف دیگر 7 پرتقال و در ظرف سوم 5 پرتقال دارد آلا روی هم چند پرتقال دارد؟

اگر 5 تا از پرتقال ها یش را به سلنا بدهد چند پرتقال برایش باقی می ماند؟



8- کلاس ما 20 دانش آموز دارد الینا برای جشن اسمش به هر کدام از بچه ها 1 پاستیل داد او برای کیفیت نشانه هم به هر کدام از بچه ها یک مداد داد. الینا روی هم به بچه ها چند پاستیل و مداد داده است؟ (شکل بکش)

9- مهسا 9 بادکنک صورتی و 8 بادکنک سبز دارد او روی هم چند بادکنک دارد؟ درحیاط خانه 3 بادکنک صورتی و 4 بادکنک سبز او را باد بردچند بادکنک را باد برده است؟ (شکل بکش)





موضوع:

تاریخ

نام و نام خانوادگی

هدف:

10- دلسا 7 شکلات و 12 آبنبات دارد او روی هم چند شکلات و آبنبات دارد؟ (شکل بکش)
 دلسا 5 تا از شکلات هایش را خودش خورد و 4 آبنبات را هم داد مهرسا بخورد آنها روی هم چند شکلات و آبنبات خوردند؟ چند تا هنوز باقی مانده است؟

11- آدریانا 58 مداد مشکی دارد او می خواهد با مداد هایش بسته ده تایی درست کند آدریانا چند بسته ده تایی می تواند درست کند و چند مداد برایش می ماند؟ (شکل بکش)
 بسته ده تایی درست می کند و یکی باقی می ماند.

12- رها 3 دسته 10 تایی پول داشت ،مادر 2 دسته 10 تایی دیگر به اوداد و پدر هم 4 دسته 10 تایی به او پول داد حالا رها روی هم چقدر پول دارد؟ (شکل بکش)

-رها از فروشگاه یک بستنی خرید به قیمت 20 تومان ،یک کیک خرید 30 تومان و یک شیر خرید 10 تومان او روی هم چقدر خرید کرده است؟

- چقدر از پولش باقی مانده است؟

13- پرنسا 30 کارت رنگی دارد او 6 کارت را به دوستش هلماداد 7 کارت هم به دوستش شایلین داد پرنسا روی هم چند کارتش را به دوستانش داده است؟

چند کارت برای خودش مانده است؟





موضوع:

تاریخ

نام و نام خانوادگی

هدف:

14- آوین 13 شکلات داشت معلمش هم به ام 6 شکلات دیگر داد حالا آوین چند شکلات دارد؟ (شکل بکش)

- اگر آوین 8 تا از شکلات هایش را به برادرش بدهد چند شکلات برایش می ماند؟

15- هانا 8 بستنی قیفی دارد مامان به او 6 بستنی کیم داد حالا هانا روی هم چند بستنی دارد؟
هانا از بین بستنی هایش 5 بستنی قیفی و 3 بستنی کیم به رها داد حالا چند بستنی برای خودش باقی مانده؟ (شکل بکش)

16- سلنا 9 شکلات قیفی و 8 شکلات مدادی دارد او روی هم چند شکلات دارد؟
اگر سلنا 3 شکلات قیفی و 4 شکلات مدادی خود را به دوستش آلا بدهد روی هم چند شکلات به او داده؟

چند شکلات برای خودش مانده است؟

17- هلما از فروشگاه یک پاکن خرید به قیمت 40 تومان و یک تراش خرید به قیمت 20 تومان او روی هم چقدر خرید کرده است؟

- اگر هلما 2 عدد پاکن می خرید قیمتش چقدر می شد؟

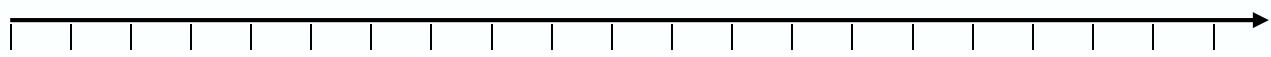


- اگر او 1 تراش و 2 پاکن می خرید چقدر می شد؟



نام و نام خانوادگی: _____ تاریخ: _____ موضوع: _____ هدف: _____

19- ساره در اتوبوس نشسته او تعداد مسافرها را شمرد، اتوبوس 20 مسافر داشت. در ایستگاه اول 4 مسافر پیاده شدند در ایستگاه دوم 4 مسافر دیگر پیاده شدند حالا چند مسافر در اتوبوس مانده است؟ (محور بکش)



- در ایستگاه سوم 3 مسافر سوار شدند حالا اتوبوس چند مسافر دارد؟

20- ثنا مدادهایش را شمرد او 5 مداد قرمز، 8 مداد آبی، 7 مداد سبز و 3 مداد زرد داشت او روی هم چند مداد دارد؟ (با رسم چوب خط نشان بده)

- قبلا همه ی مداد های ثنا 30 تا بوده حالا او چند تا از مدادهایش را گم کرده؟







نام و نام خانوادگی: _____ تاریخ: _____ موضوع: _____ هدف: _____

برای شکل‌های زیر مسئله بنویس.


-1



-2



-3



Handwritten red numbers and symbols at the bottom of the page.



موضوع:

تاریخ

نام و نام خانوادگی

هدف:

اگر اطلاعات مسئله کافی است حل کن.

1- روی یک درخت 21 زرد الو بود باغبان 7 اناراز درخت کناری چید حالا چند زردالو روی درخت است؟

2- چند پرنده روی درخت نشسته بودند 7 پرنده پرواز کرد و رفت کمی بعد 2 پرنده روی شاخه نشست حالا چند پرنده روی شاخه مانده است؟

3- کمد سلین سه طبقه دارد او در طبقه ی اول 5 عروسک ، در طبقه ی دوم 7 ماشین و در طبقه ی سوم 3 توپ دارد سلین از طبقه ی دوم 3 ماشین را برداشت و در طبقه ی سوم گذاشت او روی هم چند اسباب بازی در کمدش دارد؟

●	●

