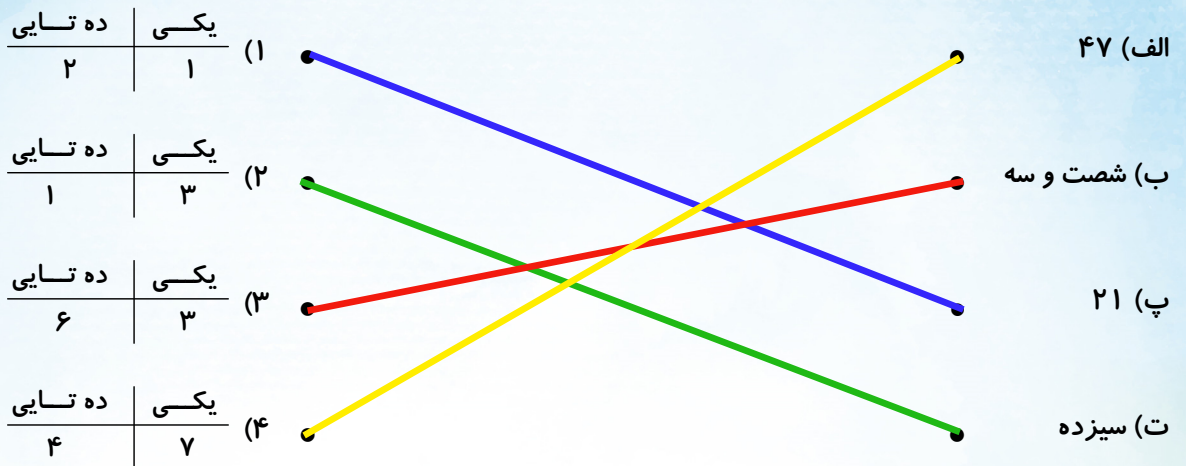


نام کلاس: .....

نام و نام خانوادگی: .....

۱) هر عدد را به جدول مناسب آن وصل کنید.



۲) درستی یا نادرستی جملات داده شده را مشخص کنید.

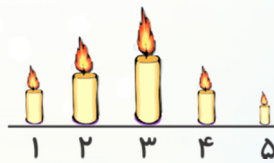
نادرست



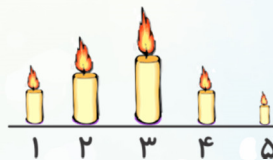
درست



الف) اندازه‌ی مار بین ۵ و ۶ گیره است.



ب) شمعی شماره‌ی «۱» از شمعی شماره‌ی «۵» کوتاه‌تر است.



پ) شمعی شماره‌ی «۲» از شمعی شماره‌ی «۴» بلندتر است.



ت) اندازه‌ی ساعت از ۸ گیره کوتاه‌تر است.



(۵) با توجه به ساعت‌ها، جاهای خالی را کامل کنید.



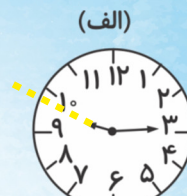
کمی به ساعت ۵ مانده است.



ساعت از ۱۰ گذشته است.



ساعت ۸ است.



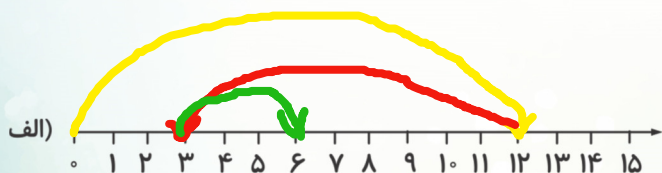
زمان بین ساعت ۹ و ۱۰ است.



(۶) ادامه الگوی داده شده، کدام یک از گزینه‌های زیر است؟



(۷) محور زیر را کامل کنید و جاهای خالی را پر کنید.



$$۱۲ - ۹ + ۳ = ۶$$



$$۱۰ - ۵ + ۹ = ۱۴$$

۸) پاسخ جمع و تفریق‌های زیر را بنویسید و دور علامت  $< = >$  مناسب، خط بکشید.

الف)  $۱۰+۵+۵+۱۰=$  ۳۰  $< = >$   $۲۰-۵-۵+۱۰=$  ۲۰

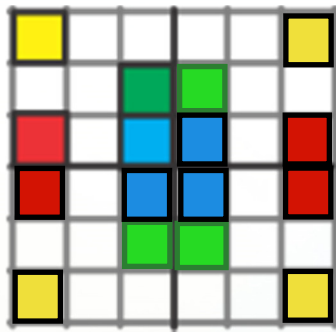
ب)  $۳۵-۵=$  ۳۰  $< = >$   $۱۵+۱۵=$  ۱۰+۵+۱۰+۵=۳۰

پ)  $۲۰-۷=$  ۲۰  $< = >$   $۱۸+۶=$  ۲۴

ت)  $۲+۳+۵+۱۰=$  ۲۰  $< = >$   $۸۰-۶۰=$  ۲۰

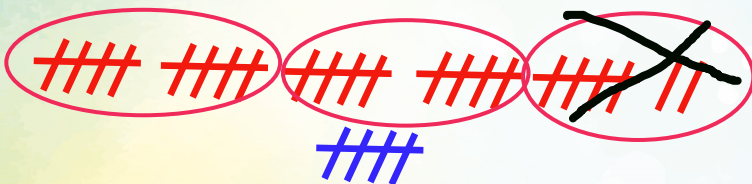


۹) سه طرف شکل را طوری رنگ کنید که هر چهار قسمت آن مانند هم و متقارن باشند.



۱۰) پاسخ مسئله‌ی زیر را با کمک چوب خط به دست آورید. (نوشتن راه حل الزامی است).

زهرا ۲۷ سنجاق سر داشت. ۷ سنجاق را به دوستش مریم داد. ستاره ۵ سنجاق سر دیگر به او داد. حالا زهرا چند سنجاق سر دارد؟



حالا زهرا ۲۵ سنجاق سر دارد.

راه دوم: یک مرحله ای

$$\underline{۲۷-۷+۵=۲۵}$$

راه اول: دو مرحله ای

$$\underline{۲۷-۷=۲۰}$$

$$\underline{۲۰+۵=۲۵}$$