

مجموع شکل‌ها را با چوب‌خط نشان بده و عبارت جمع را بنویس.

۳۳ + ۳۳ =

+ =

۳۳ + ۳۳ =

+ =

در جای‌های خالی عدد مناسب بنویس.



.....

۶ - ۸ - ۱۰ - - - -

علوی

بنام خانواده جان و ناز

پایه:

موضوع:



تاریخ:



نام و نام خانوادگی:



هدف:



با چوب خط حاصل جمع را پیدا کن و یک جمع بنویس.


..... + + = 


..... + + = 


..... + + = 



پاسخ هر قسمت را نوشته و مقایسه کن و علامت مناسب کمتری یا بیشتر را انتخاب کن.