



موضوع:

تاریخ:

نام و نام خانوادگی:

هدف:

حاصل را به دست بیاور و علامت مناسب بگذار.

$$20 + 10 - 5 + 5 = \square$$




$$10 + 20 + 5 + 4 = \square$$



برای شکل رویه رو یک مسئله بنویس و روی محور اعداد نشان بده.

.....

.....



۱ ۲ ۳ ۴ شمع شماره ی کوتاه ترین شمع است.

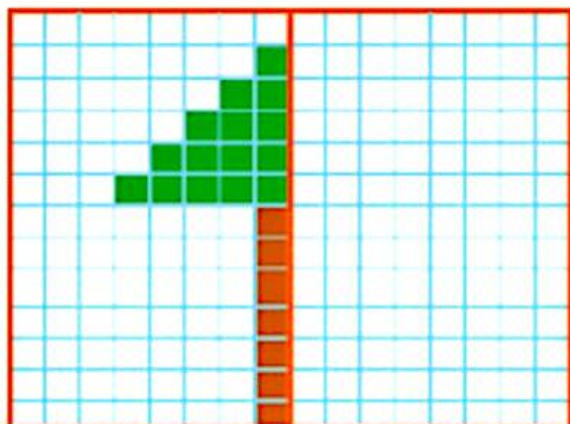
شمع شماره ی هم اندازه ی شمع شماره ی است.



زمان بین ساعت و است.
ساعت از گذشته است.
کسی به ساعت مانده است.

شکل	چوب خط	حروف	عدد	جدول
			یکی ده تایی
		۲۳	یکی ده تایی

صفت راست شکل را مانند صفت چپ کامل کن



۵۵ - ۶۰

 + ۵
 ۱۰ - ۲۰ - ۳۰

 + ۱۰
 ۲۲ - - ۳۵ - ۳۶
 ۱۲ - ۱۳ -




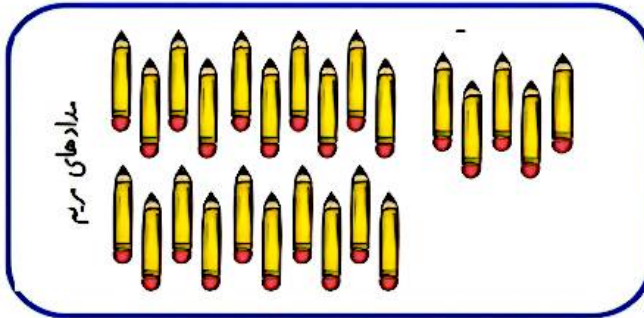
موضوع:

تاریخ:

نام و نام خانوادگی:

هدف:

مداد های مریم و مینا را با توجه به جدول یکی، ده تایی دسته بندی کن .



یکی	ده تایی

به عدد :

به حروف :



..... + =

یکی	ده تایی

به عدد :

به حروف :

تعداد مدادهای هر کدام را نوشته و باهم مقایسه کنید .

مریم و مینا روی هم چند مداد دارند ؟

سارا و خرس کوچولو می خواستند لباس های خود را زیر آفتاب خشک کنند .

سارا ۱۰ لباس و خرس کوچولو ۴ لباس را روی طناب آویزان کردند. ناگهان باد ۳ تا از لباس ها را با خود برد.



حالا چند لباس روی طناب باقی مانده است ؟

+	=
-	=

..... لباس روی طناب برد.

..... لباس روی طناب مانده است.

علی ۱۳ کتاب داستان، ۴ کتاب شعر و ۹ کتاب درسی دارد . او چند کتاب دارد؟ (با رسم چوب خط در ۳ رنگ مختلف)



..... + + =

چوب خط

بازجورد:

