



مرور ریاضی

موضوع:

تاریخ

نام و نام خانوادگی





هدف:

با کشیدن چوب خط مسئله ها را حل کن و برای آن ها عبارت جمع و تفریق بنویس.

★ روی شاخه ی درخت ۸ کبوتر و ۷ کلاغ نشسته اند . چند پرند روی شاخه ی درخت نشسته اند ؟

★ سعید ۱۴ بادکنک داشت . ۴ بادکنک را باد برد . چند بادکنک برای او مانده است ؟

نام هر شکل را بنویس .

			
_____	_____	_____	_____

ثریا برای مهمانی در سبد ، ۶ سیب و ۸ پرتقال گذاشت .

۵ تا از سیوه ها را مهمان ها خوردند ، چند میوه در سبد مانده است ؟

★ _____ میوه در سبد است . $\square + \square = \square$

★ _____ میوه در سبد مانده است . $\square - \square = \square$

بازخورد:

