








| موضوع | شماره سوال | هفته آموزشی |
|-----------------------|------------|-------------|
| هوش ریاضی - حل مسأله | ۱ | بیست و دوم |
| هوش فضایی - جمع اشکال | ۲ | |
| هوش کلامی | ۳ | |
| سرعت، دقت، تمرکز | ۴ | |

۱. در پارک، ۱۵ پسر مشغول بازی بودند. ۲ نفر به خانه برگشتند. ۲ تای دیگر با مادرشان به خرید و ۲ پسر دیگر هم به کتابخانه رفتند. چند پسر در پارک باقی مانده است؟



۲. با توجه به عددهای هر شکل، حاصل جمعها را به دست بیاور.

| | | | | | | |
|---|---|---|---|---|---|---|
|  |  |  |  |  |  |  |
| ۱ | ۳ | ۴ | ۵ | ۶ | ۷ | ۸ |

$$\begin{array}{l}
 \text{Red right-angled triangle} + \text{Pink diamond} + \text{Green circle} = \\
 \text{Grey pentagon} + \text{Orange square} + \text{Yellow triangle} = \\
 \text{Yellow triangle} + \text{Yellow triangle} + \text{Red right-angled triangle} = \\
 \text{Red right-angled triangle} + \text{Pink diamond} + \text{Purple trapezoid} =
 \end{array}$$



۳. با کارت نشانه‌ها کلمه بساز. می‌توانی از هر کارت چند بار استفاده کنی.

| | | | | |
|-----|------|-----|-----|-----|
| ه ه | او و | چ چ | ل ل | ک ک |
|-----|------|-----|-----|-----|

.....: ○ ○ ○

.....: ○ ○ ○

.....: ○ ○ ○

.....: ○ ○ ○ ○

.....: ○ ○ ○ ○

.....: ○ ○ ○ ○ ○

۴. به جای ؟ کدام گزینه را انتخاب می‌کنی؟

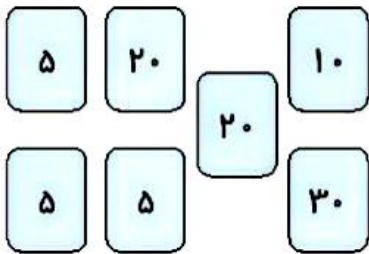
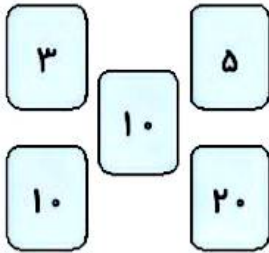
| | | | |
|--|--|--|---|
| | | | ؟ |
| | | | |

| | | | |
|--|--|--|---|
| | | | ؟ |
| | | | |

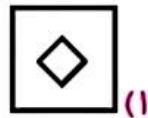
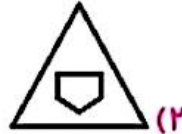



| موضوع | شماره سؤال | هفته آموزشی |
|-----------------------|------------|-------------|
| هوش ریاضی - جمع اعداد | ۱ | بیست و سوم |
| هوش فضایی | ۲ | |
| هوش کلاسی | ۳ | |
| سرعت، دقت، تمرکز | ۴ | |
| هوش فضایی | ۵ | |

۱. هر دسته کارت را از اعداد بزرگ به کوچک مرتب کن و حاصل جمع آن‌ها را به دست بیاور.



۲. رابطه‌ی با مثل رابطه‌ی با است.



۳. جمله‌ها را به ترتیب کارهایی که انجام می‌دهی شماره گذاری کن.

پیش از خواب به پدر و مادرم، شب به خیر می‌گویم.

خواهرم صدف، قبل از خواب برآیم کتاب می‌خواند.

اسم من سما است.

من هر شب قبل از رفتن به اتاق خواب، مسواک می‌زنم.

چهار هوش اول دبستان



۴. عدد ۳۶ چند بار بین عدد ۳ و ۴ آمده است؟

۲۳۶۱۳۳۶۴۳۳۵۲۴۴۳۳۶۴۹۸۷۳۶۴۳۴۶۶۹۰۳۳۶۱۴۱۳۳۶۴۳۶۲۵۱

۵. مسیر درست را به ژاله نشان بده تا بتواند لباس‌ها را از پشت بام جمع کند.

