



طرح سنجش استعداد: مداد قرمز ۳- توصیفی



درس: ریاضی اول دبستان



علوی

مدارس هزاره سوم

مدت پاسخگویی: ۴۵ دقیقه



زمان برگزاری: هفته دوم اسفند



نام کلاس:

نام و نام خانوادگی:



۱) هر عبارت را به حاصل آن وصل کنید.

• (۱) ۵۰-۶۰

• الف) ۵

• (۲)  $//// + //// + ////$

• ب) ۱۰

• (۳)

• پ) ۱۸

• (۴)   
۳ + ۴ + ۷

• ت) ۱۴



طرح سنجش استعداد: مداد قرمز ۳- توصیفی



درس: ریاضی اول دبستان



علوی

مدارس هزاره سوم

مدت پاسخگویی: ۴۵ دقیقه



زمان برگزاری: هفته دوم اسفند



نام کلاس:

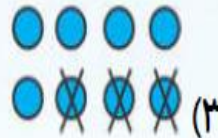
نام و نام خانوادگی:

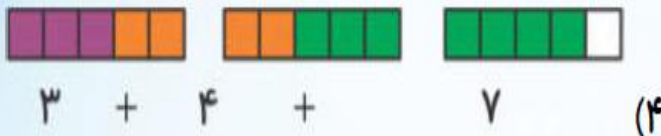


۱) هر عبارت را به حاصل آن وصل کنید.

۱) ۵۰-۶۰

۲)  $//// // + //// //$

۳) 

۴)   
۳ + ۴ + ۷

الف) ۵


ب) ۱۰


پ) ۱۸


ت) ۱۴




۲) جملات درست را با علامت ✓ و جملات نادرست را با علامت ✗ مشخص کنید.


 
$$\begin{array}{ccc} \text{////} & & \text{////} \text{////} \\ & \text{////} > & \text{////} \text{ //} \\ \text{////} & & \text{////} \text{ //} \end{array}$$
 (الف)

 (ب) ۴ اردک در آب بودند. ۲ اردک دیگر هم داخل آب رفتند. حالا ۶ اردک در آب است.

 (پ)  $6 + 7 = 12$


 (ت) در الگوی  $\square, \dots, 8, 4, 0$ ، عدد بعدی ۱۰ است.

۲) جملات درست را با علامت ✓ و جملات نادرست را با علامت ✗ مشخص کنید.



$$\begin{array}{ccc} \text{////} & & \text{////} \text{////} \\ & \text{////} > & \\ \text{////} & & \text{////} \text{ //} \end{array}$$


(الف)



ب) ۴ اردک در آب بودند. ۲ اردک دیگر هم داخل آب رفتند. حالا ۶ اردک در آب است.



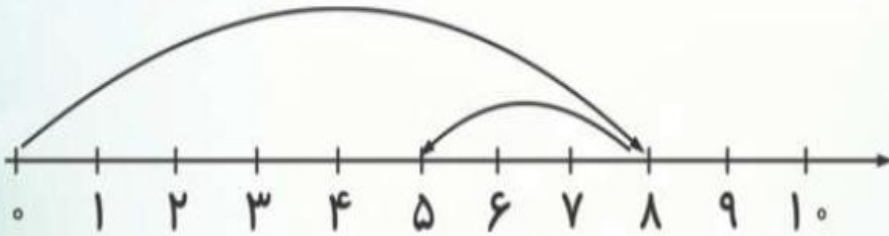
پ)  $6 + 7 = 12$



ت) در الگوی  $\square, \dots, 8, 4, 0$ ، عدد بعدی ۱۰ است.

۳) گزینه‌ی صحیح را مشخص کنید.

الف) عبارت محور داده شده کدام است؟



$$8 + 3 = 11 \text{ (۴)}$$

$$8 - 3 = 5 \text{ (۳)}$$

$$5 + 3 = 8 \text{ (۲)}$$

$$8 + 3 = 5 \text{ (۱)}$$

ب) اندازه‌ی  بین ..... تا ..... است.

$$8 \text{ تا } 7 \text{ (۲)}$$

$$7 \text{ تا } 6 \text{ (۱)}$$

$$4 \text{ تا } 5 \text{ (۴)}$$

$$6 \text{ تا } 5 \text{ (۳)}$$



پ) عبارت حاصل  $//// + //// + //$  کدام است؟

$$7 + 2 = 10 \text{ (۲)}$$

$$4 + 3 + 2 = 9 \text{ (۱)}$$

$$6 + 2 = 7 \text{ (۴)}$$

$$4 + 3 + 2 = 8 \text{ (۳)}$$


ت) حاصل جمع داده شده چند است؟

$$12 \text{ (۲)}$$

$$11 \text{ (۱)}$$

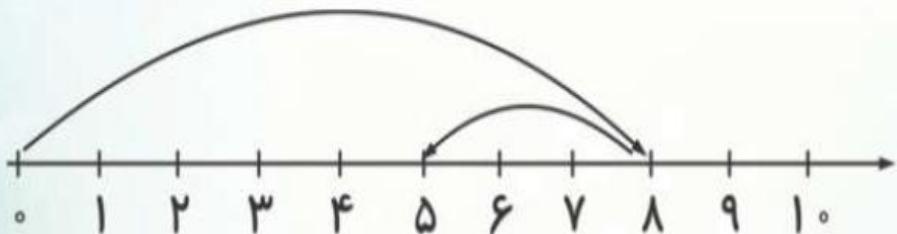
$$10 \text{ (ت)}$$

$$14 \text{ (۳)}$$



۳) گزینه‌ی صحیح را مشخص کنید.

الف) عبارت محور داده شده کدام است؟




$8 + 3 = 11$  (۴)

$8 - 3 = 5$  (۳)

$5 + 3 = 8$  (۲)

$8 + 3 = 5$  (۱)

پ) اندازه‌ی  بین ..... تا ..... است.

۸ تا ۷ (۲)

۷ تا ۶ (۱)

۴ تا ۵ (۴)

$6 - 1 = 5$  (۳)



پ) عبارت حاصل  $//// + //// + //$  کدام است؟


$6 + 2 = 7$  (۴)

$4 + 3 + 2 = 8$  (۳)

$7 + 2 = 10$  (۲)

$4 + 3 + 2 = 9$  (۱)

ت) حاصل جمع داده شده چند است؟



۱۲ (۲)

۱۱ (۱)

۱۰ (ت)

۱۴ (۳)

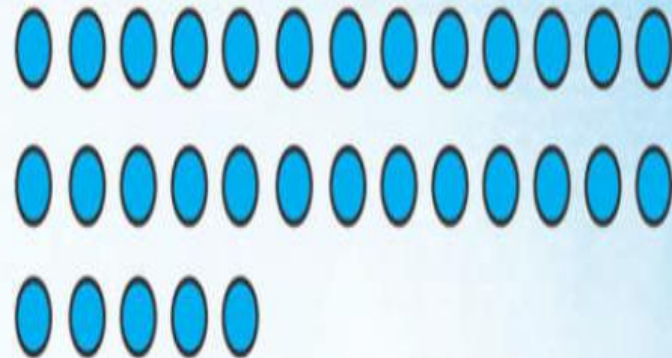
۴) در هر قسمت به تعداد خواسته شده دسته درست کنید و در جای خالی عدد دسته‌ی ساخته شده را بنویسید.

ب) دسته‌ی ده تایی



..... دسته‌ی ده تایی و ..... یکی

الف) دسته‌ی ۶ تایی



..... دسته‌ی ۶ تایی و ..... یکی



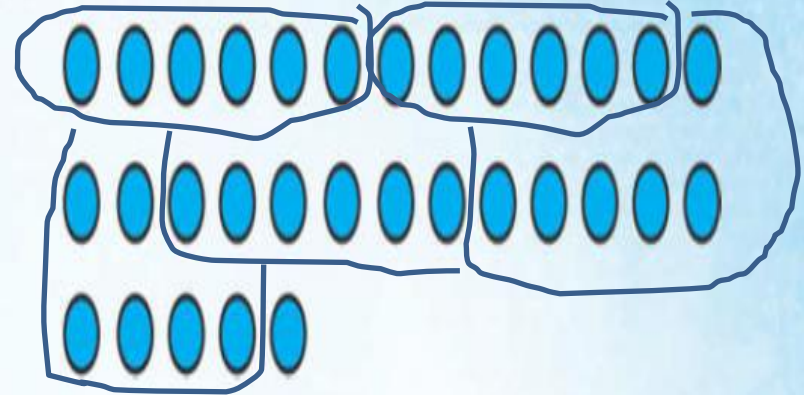
۴) در هر قسمت به تعداد خواسته شده دسته درست کنید و در جای خالی عدد دسته‌ی ساخته شده را بنویسید.

ب) دسته‌ی ده تایی



.....<sup>۴</sup>..... دسته‌ی ده تایی و ..... یکی

الف) دسته‌ی ۶ تایی



.....<sup>۵</sup>..... دسته‌ی ۶ تایی و .....<sup>۱</sup>..... یکی

۵) الف) جدول شگفت انگیز را کامل کنید.

۱	۴	۶	۵	۲	۳
۲	۵	۳	۶	۴	۱
۶	۱	○	○	۳	۵
۵	۳	○	○	۶	۲
۳	۶	۱	۲	۵	۴
۴	۲	۵	۳	۱	۶

۵) الف) جدول شگفت انگیز را کامل کنید.

۱	۴	۶	۵	۲	۳
۲	۵	۳	۶	۴	۱
۶	۱	۲	۴	۳	۵
۵	۳	۴	۱	۶	۲
۳	۶	۱	۲	۵	۴
۴	۲	۵	۳	۱	۶

ب) الگو را ادامه دهید.

