



موضوع:

تاریخ:

نام و نام خانوادگی:

هدف:

۱. از ۶۸ تا ۷۵ بنویس.

.....

۲. الگو را ادامه بده.

..... ۰ - ۵ - ۱۰ -

..... ۱۲ - ۲۲ -

۳. عدد قبل و بعد را بنویس.

		۸۵					۳۰		
--	--	----	--	--	--	--	----	--	--

۴. با عدد و با حروف بنویس.

پانزده

..... ۸۲

چهل و سه

..... ۵۴

نود و شش

..... ۲۷




۵. برای عدد ۳۸ شکل بکش در جدول بنویس.

یکی	ده تایی

شکل حروف

۶. ۹ ده تایی و ۵ یکی می شود

۶۷ می شود ده تایی و یکی



..... ساعت

ساعت بین و است.

ساعت کمی مانده به

۸. علی ۴ بسته ده تایی و ۳ یکی مداد داشت پدرش ۳ بسته ده تایی دیگر مداد به او داد. حالا علی چند مداد دارد؟

