

علوی



بنام خداوند جان و خرد



پایه:
اول




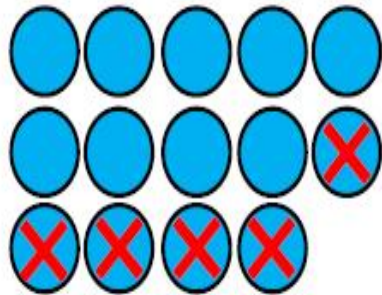
موضوع: سنجش جمع بندی پایه اول - مداد سیاه ۱

تاریخ

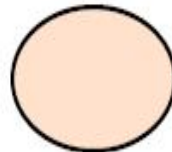
نام و نام خانوادگی

درس: ریاضی

۱- برای هر شکل عبارت مناسب بنویس و سپس علامت $< = >$ را انتخاب کن.



.....



.....

علوی



بنام خداوند جان و خرد



پایه:
اول




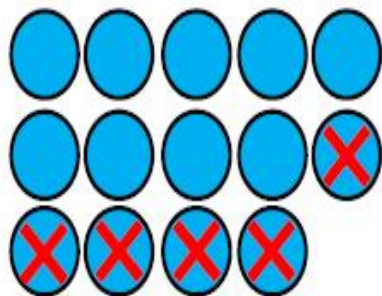
موضوع: سنجش جمع بندی پایه اول - مداد سیاه ۱

تاریخ

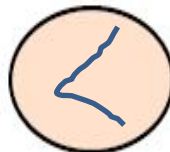
نام و نام خانوادگی

درس: ریاضی

۱- برای هر شکل عبارت مناسب بنویس و سپس علامت < = > را انتخاب کن.

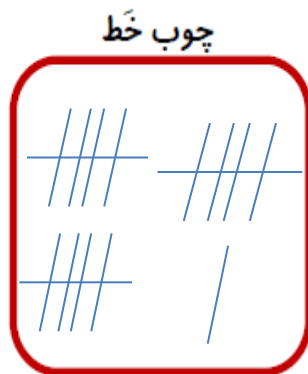



.....
 $14 - 5 = 9$

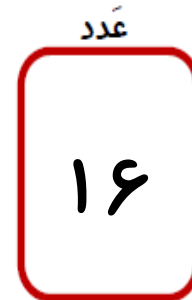


.....
 $11 + 8 = 19$

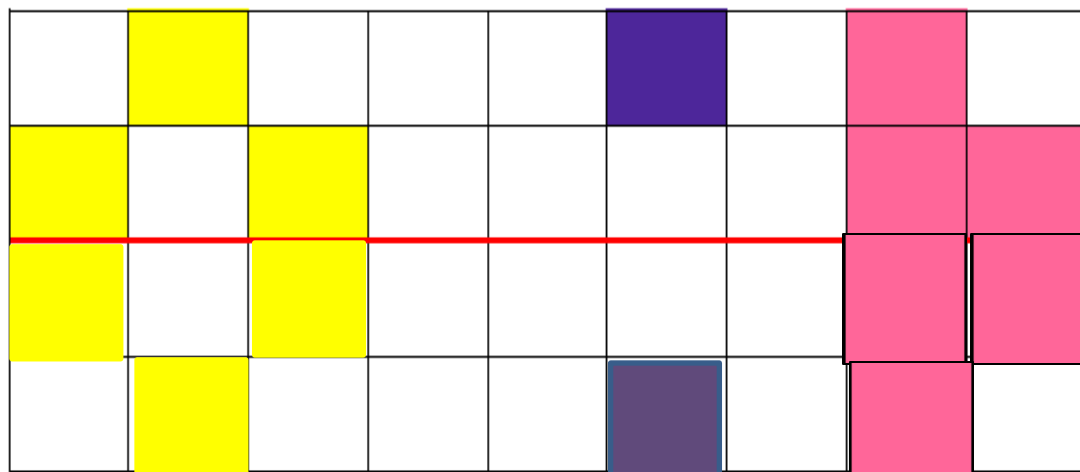
۲- با شکل‌ها دسته‌های ده تایی درست کن، برای آن‌ها چوب خط بکش، جدول را کامل کن و عدد مربوط به هر دسته را بنویس.



ده تایی	یکی
۱	۶

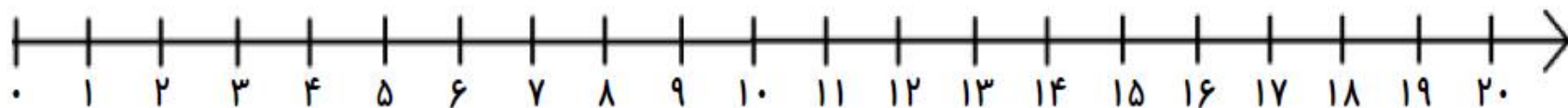


۳- شکل را طوری کامل کن که دو نیمه‌ی آن مثل هم باشند.

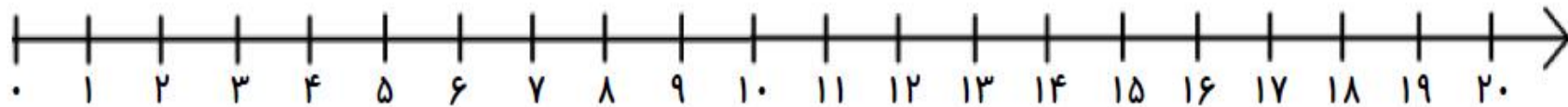


۴- با کمک محور جمع یا تفریق کن.

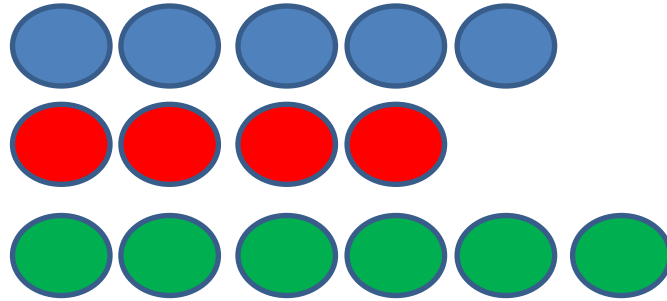
$$5 + 4 + 6 =$$



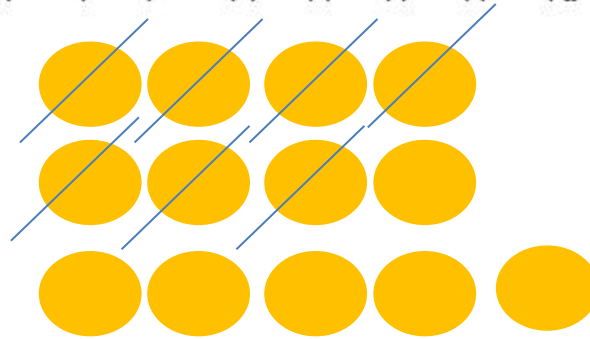

$$13 - 7 =$$



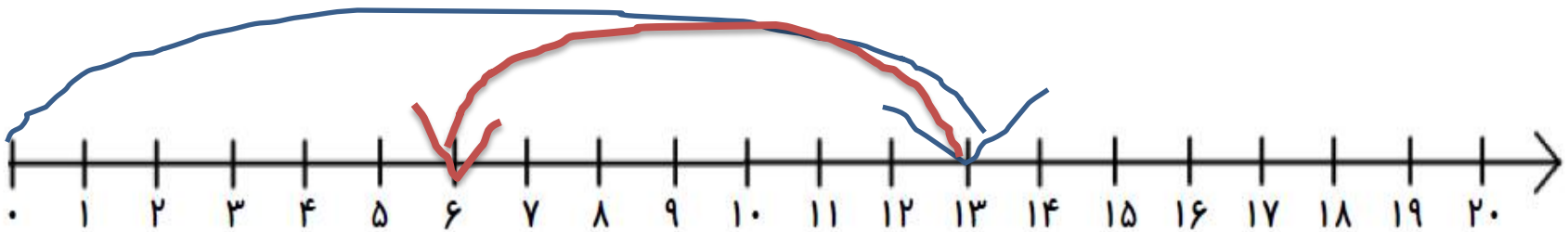
۴- با کمک محور جمع یا تفریق کن.



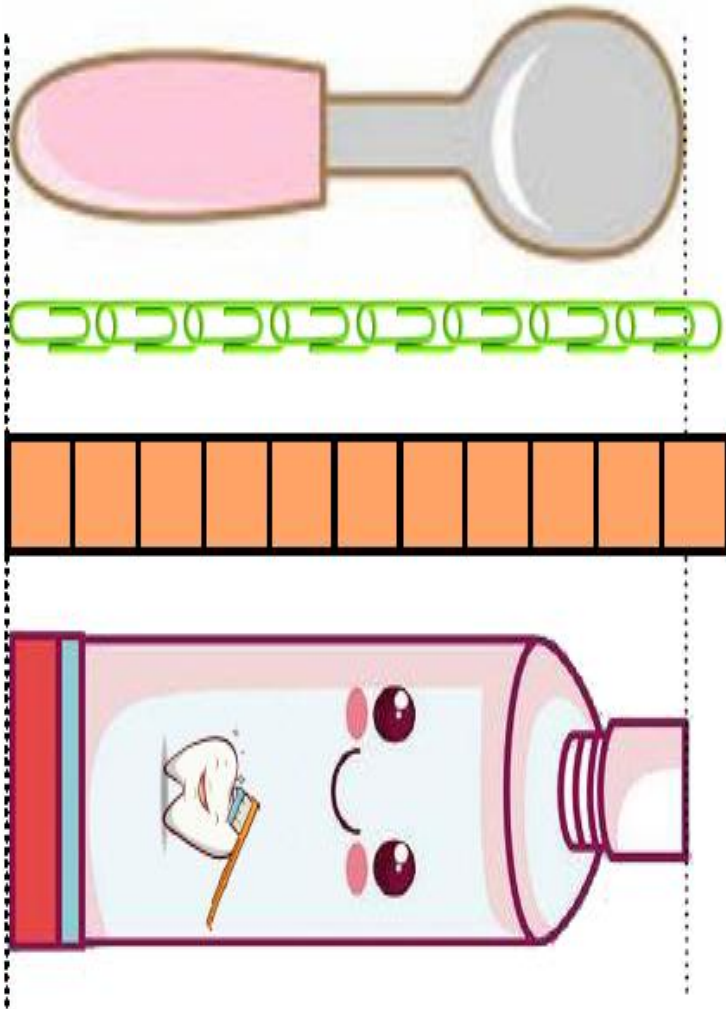
$$5 + 4 + 6 = 15$$



$$13 - 7 = 6$$



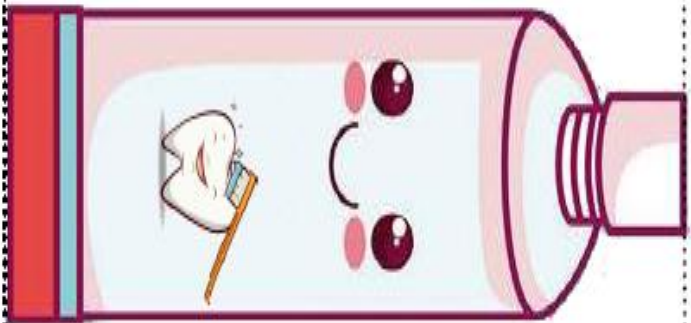
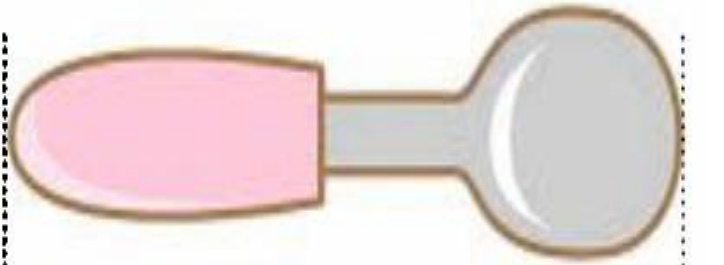
۵- جمله‌ها را با نوشتن عدد مناسب کامل کن.



اندازه‌ی قاشقِ بینِ تا است.

اندازه‌ی خمیردندانِ بینِ تا است.

۵- جمله‌ها را با نوشتن عدد مناسب کامل کن.



اندازه‌ی قاشقِ بینِ۷..... تا۸..... است.

اندازه‌ی خمیردندانِ بینِ۱..... تا۱۰..... است.