















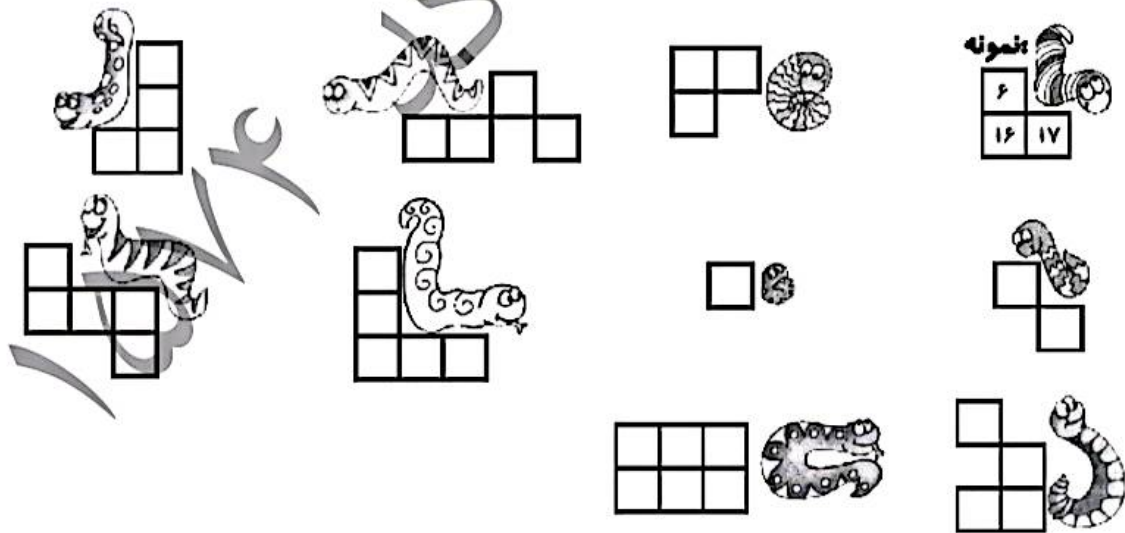


۱. مارها روی بعضی از خانه‌های جدول خوابیده‌اند. اعدادی را که پنهان شده است، پیدا کن و بنویس.

۱	۲	۳	۴	۵		۷	۸	۹	
۱۱	۱۲	۱۳		۱۵		۱۸	۱۹		
۲۱	۲۲	۲۳	۲۴		۲۶	۲۷	۲۸		
۳۱			۳۵	۳۶		۳۸	۳۹	۴۰	
۴۱			۴۵		۴۷	۴۸	۴۹	۵۰	
	۵۲	۵۳	۵۴	۵۵		۵۷	۵۸	۵۹	۶۰
۶۱		۶۳	۶۴	۶۵			۶۹	۷۰	
		۷۳	۷۴		۷۶	۷۷	۷۸	۷۹	۸۰
۸۱	۸۲	۸۳	۸۴				۸۸		
		۹۳		۹۵	۹۶		۹۸		

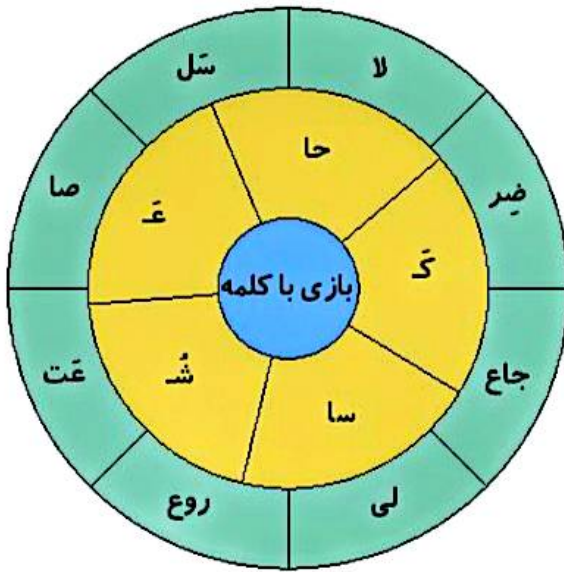


۲. اگر اعداد ۷۰-۸۲-۱۳-۴۰-۵۱-۱۲-۳۱ را به ترتیب از کوچک به بزرگ و از چپ به راست بنویسیم، دومین عدد از سمت چپ کدام است؟ دور آن خط بکش.

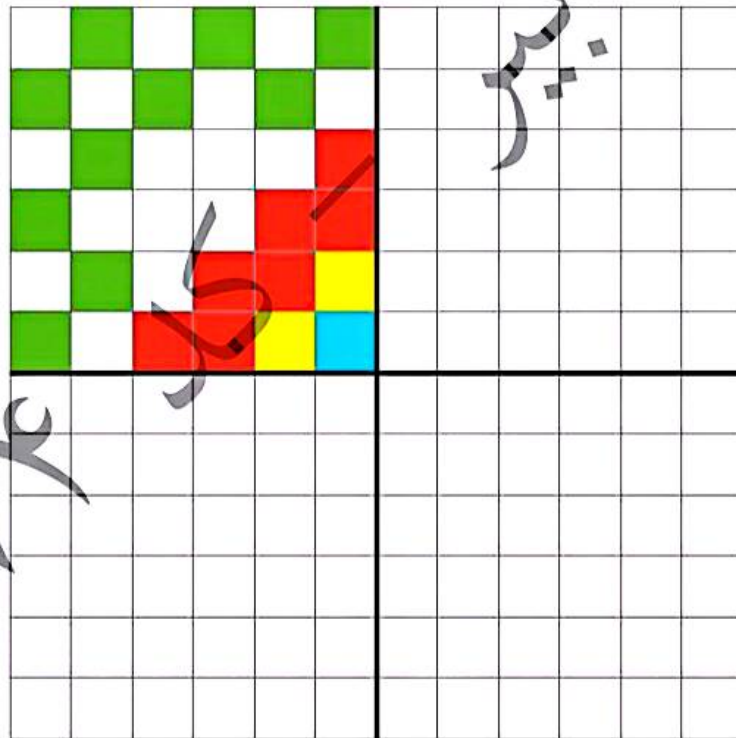


علوی

۳. به گردونه‌ی کلمه سازی دقت کن. چند کلمه می‌توانی بسازی؟ آن‌ها را بنویس.



۴. فرش زیر به چهار قسمت تقسیم شده است. سه قسمت دیگر فرش را مانند قسمت رنگ شده کامل کن.


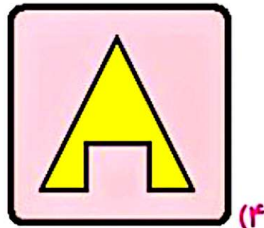

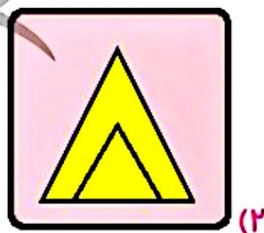
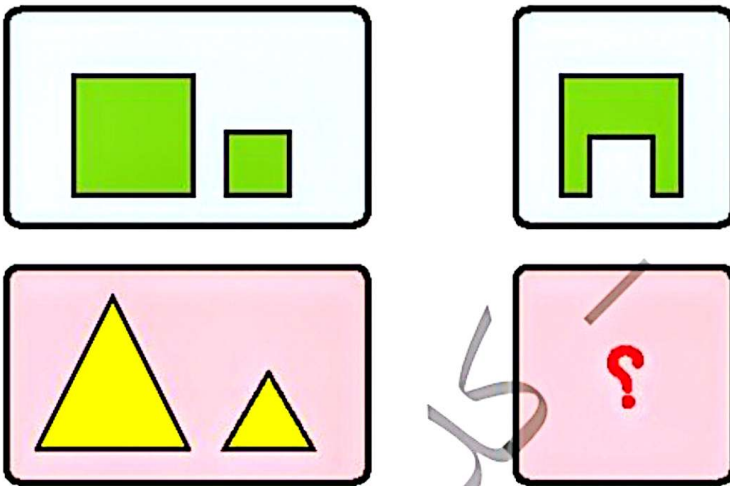


موضوع	شماره سؤال	هفته آموزشی
هوش ریاضی - الگو و نمایش آن در ساعت	۱	بیست و چهارم
هوش فضایی	۲	
سرعت، دقت، تمرکز	۳	
هوش کلامی	۴	

۱. با توجه به الگو، عقربه‌های ساعت را بکش.



۲. به جای ؟ کدام شکل را می‌توان قرار داد؟



علوی

۳. برای هر علامت، یک عدد در نظر گرفته ایم. حالا با توجه به آن، به سؤالهای زیر جواب بده.

۱	۲	۳	۴	۵	۶	۷	۸	۹

			عدد	علامت
	+		=	<input type="text"/>
	-		=	<input type="text"/>
	+		=	<input type="text"/>

۴. پدر رضانجار است. رضا در تابستان روزهای شنبه، دوشنبه و چهارشنبه به دکان پدرش می‌رود و به او کمک می‌کند تا با چوب، آره و میخ، میز و کمد بسازد.

♦ رضا چند روز در ۲ هفته به دکان پدرش می‌رود؟

♦ رضا برای چه به دکان پدرش می‌رود؟

