



..... موضوع: تاریخ نام و نام خانوادگی

..... هدف:



۱- برای شکل دو جمع بنویس.

..... + =

..... + =

۱۲ - ۹ =

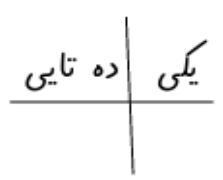
۲- برای تفریق شکل بکش.



۳- پریسا ۹ گل در گلدان گذاشت. ۳ گل قرمز است. چند گل صورتی است؟
..... گل صورتی است.

۱۲ + ۴ =

۵- برای جمع شکل بکش.



..... با رقم با حروف

۶- در جای خالی عدد مناسب بنویس.





نام و نام خانوادگی: _____ تاریخ: _____ موضوع: _____ هدف: _____

۷- جمع مخصوص شکل را بنویس.

..... + =

۸- عدد قبل و بعد را بنویس.

..... - ۲۱ - - - - - - - - - - ۷۷ - - - -

۹- پروانه ۴ کتاب داستان و ۵ کتاب علمی خرید. اگر ۳ کتاب هم پدرش برایش بخرد چند کتاب دارد؟



..... کتاب دارد.

۱۰- الگو را به همان ترتیبی که هست ادامه بده.

۱۱- برای = ۱۴ - ۸ یک مساله بنویس.

.....

.....



نام و نام خانوادگی: _____ تاریخ: _____ موضوع: _____ هدف: _____

۱۲- پسری را که به سمت راست می رود رنگ کن.



۱۳- در جای خالی عدد مناسب یا علامت مناسب < = > بگذار.

$12 _ 9 = \dots\dots$

$6 + 6 = \dots\dots$

$15 + 4 = \dots\dots$

$8 + 10 = \dots\dots$

$54 \dots\dots 76$

$40 \dots\dots 50$

$95 \dots\dots 59$

$78 \dots\dots 68$

۱۴- در جای خالی عدد مناسب بنویس.



۷۵ می شود یکی و ده تایی

۵۲ می شود یکی و ده تایی

۶ ده تایی برابر است با یکی

۴۰ یعنی دسته ی ده تایی

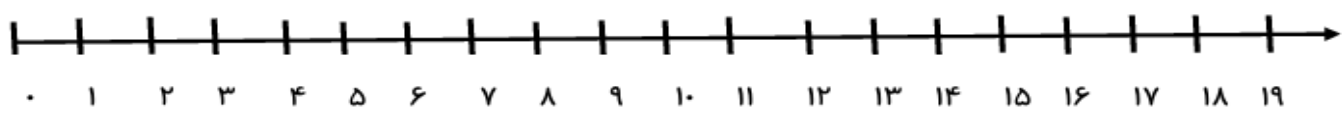
۳ یکی و ۶ ده تایی می شود



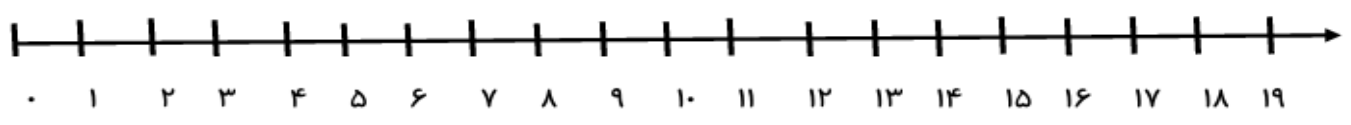
نام و نام خانوادگی: _____
 تاریخ: _____
 موضوع: _____
 هدف: _____

۱۵- جمع و تفریق را روی محور نشان دهید.

$12 + 7 = \dots\dots\dots$



$16 - 9 = \dots\dots\dots$



۱۶- در جای خالی عدد مناسب بنویس.

	سیزده		ینجاه و هفت
۶۳		۴۸	

