



طرح سنجش استعداد: مدارقمرمز۳۳- توصیفی



درس: ریاضی اول دبستان



علوی

مدارس هزاره سوم

مدت پاسخگویی: ۴۵ دقیقه



زمان برگزاری: هفته اول اسفند



نام کلاس:

نام و نام خانوادگی:

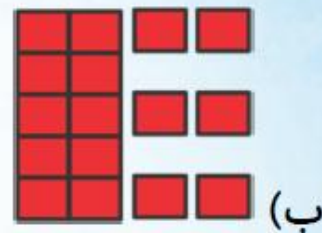


۱) هر مورد را شمارش کنید و به عدد مربوط به آن وصل کنید.

۱۶ •

الف) $++++$ $++++$ $////$

۷ •



۱۴ •



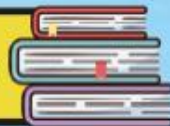
۱۷ •



طرح سنجش استعداد: مدارقمرمز۳۳- توصیفی



درس: ریاضی اول دبستان



علوی

مدارس هزاره سوم

مدت پاسخگویی: ۴۵ دقیقه



زمان برگزاری: هفته اول اسفند



نام کلاس:

نام و نام خانوادگی:




۱) هر مورد را شمارش کنید و به عدد مربوط به آن وصل کنید.

۱۶


۷

۱۴

۱۷



الف) /// /// ////



ب)



پ)

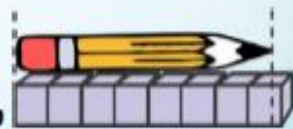


ت)

۲) جملات درست را با علامت ✓ و جملات نادرست را با علامت ✖ مشخص کنید.



بلندی مداد بین ۸ تا ۹ است.



(الف)



(ب) اندازه‌ی کوتاهی‌تر از ۶ است.



(پ) در الگوی $4, 6, 8, \dots$ عدد بعدی ۱۲ است.



(ت) در الگوی $3, 5, 7, \dots$ عدد بعدی ۹ است.

۲) جملات درست را با علامت ✓ و جملات نادرست را با علامت ✗ مشخص کنید.



بلندی مداد بین ۸ تا ۹ است.



(الف)



اندازه‌ی  کوتاه‌تر از ۶ است.



پ) در الگوی $4, 6, 8, \dots$ عدد بعدی ۱۲ است.



ت) در الگوی $3, 5, 7, \dots$ عدد بعدی ۹ است.



۳) در هر قسمت، دسته‌های ده‌تایی درست کرده و جدول را کامل کرده و عدد مربوط به هر دسته را بنویسید.

////	////	////	////	////	ده تایی	یکی
////	////	////	////			

الف) به عدد:


○○○○○○○○
○○○○○○○○
○○○○○○○○
○○○○○○○○

	ده تایی	یکی

ب) به عدد:




۳) در هر قسمت، دسته‌های ده‌تایی درست کرده و جدول را کامل کرده و عدد مربوط به هر دسته را بنویسید.



ده تایی	یکی
۴	۷

الف) به عدد:۴۷.....

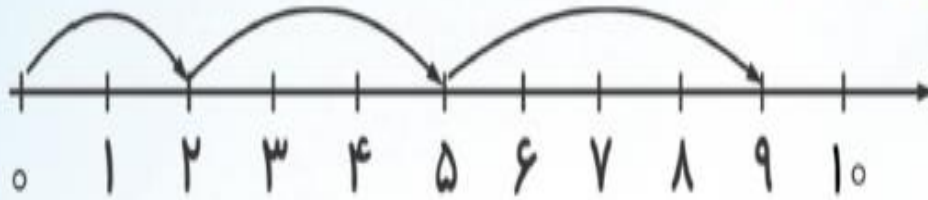


ده تایی	یکی
۳	۲

ب) به عدد:۳۲.....



۴) با کمک شکل و محور جمع‌های زیر را انجام دهید.



الف)

$$\dots + \dots + \dots = \dots$$

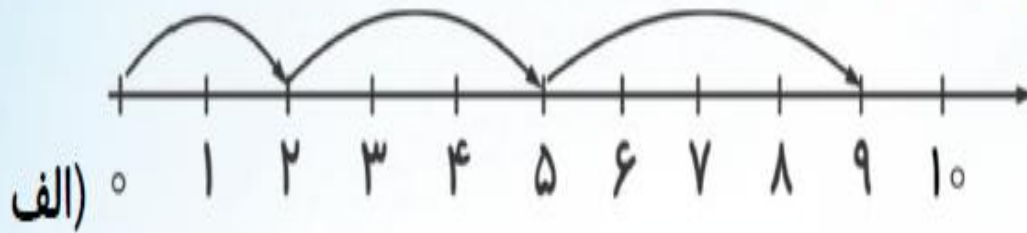


ب)

$$3 + 4 + 7 = \dots$$



۴) با کمک شکل و محور جمع‌های زیر را انجام دهید.



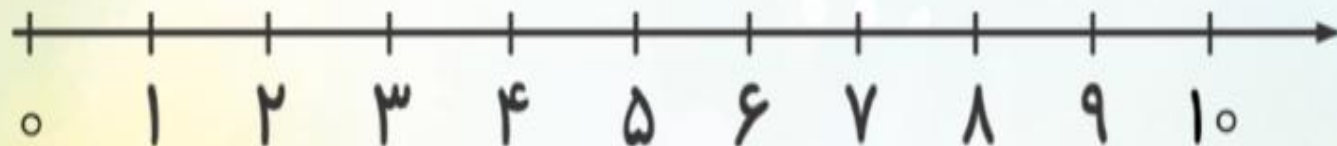
$$۲ + ۳ + ۴ = ۹$$



$$۳ + ۴ + ۷ = ۱۴$$

۵) ۹ گل شاداب در گلدان بود. ۳ تا از گل‌ها خشک شدند. چند گل شاداب در گلدان مانده است؟ (با

کمک محور)



۵) ۹ گل شاداب در گلدان بود. ۳ تا از گل‌ها خشک شدند. چند گل شاداب در گلدان مانده است؟ (با

کمک محور)

۶ گل شاداب مانده است.

$$9 - 3 = 6$$

