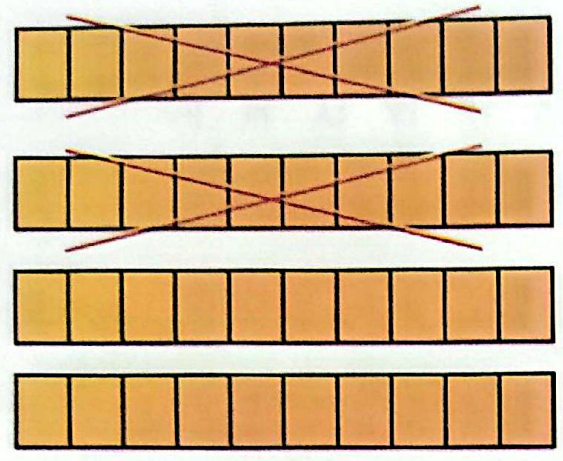
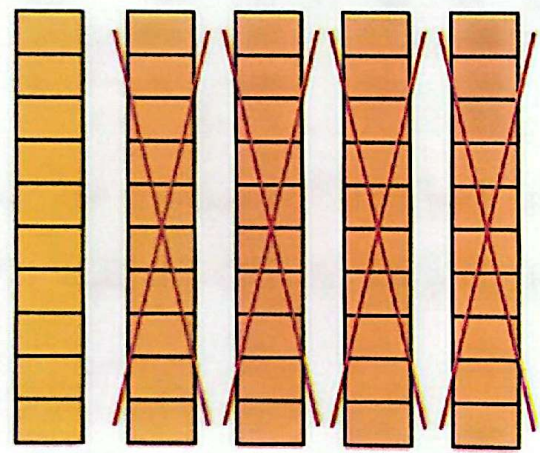


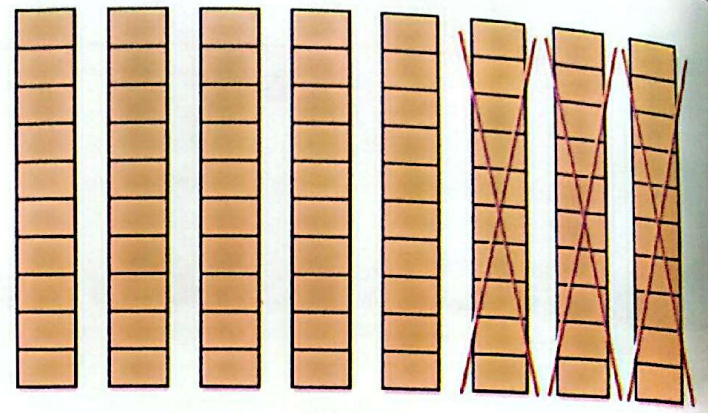
برای هر شکل یک عبارت تفریق بنویس.




..... - =



..... - =

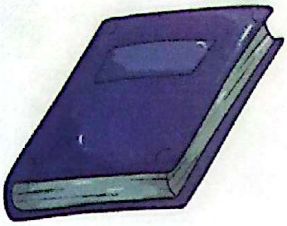


..... - =

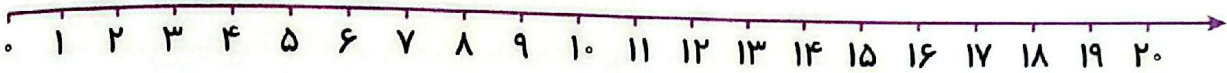


..... - =

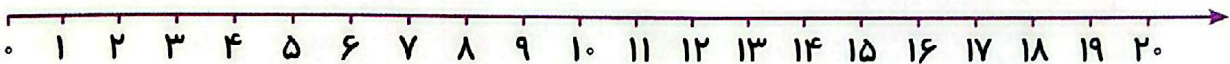
مسئله‌ها را به کمک محور حل کن.



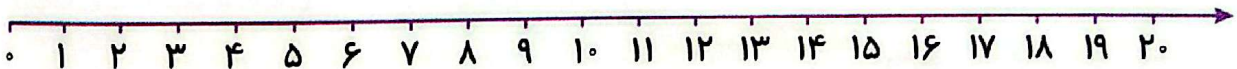
الف) کتاب تریا ۱۸ صفحه دارد. او دیروز ۴ صفحه و امروز ۵ صفحه‌ی دیگر خواند. او چند صفحه از کتابش را نخوانده است؟





ب) در یک لانه ۱۷ پرنده بودند. ۱۳ تا از پرنده‌ها پرواز کردند و رفتند. ۸ پرنده‌ی دیگر به لانه برگشتند. حالا چند پرنده در لانه است؟



پ) یک اتوبوس با ۱۴ مسافر از میدان آزادی حرکت کرد. در ایستگاه اول ۷ نفر پیاده شدند. در ایستگاه دوم ۵ نفر سوار شدند. حالا اتوبوس چند مسافر دارد؟



ت) ژاله در مدرسه ۳ کارت امتیاز، ۵ امتیازی از آموزگارش گرفته بود. او دیروز یک جامدادی از کمد جایزه برداشت و ۱۲ امتیاز را به ناظم داد. حالا برای ژاله چند امتیاز باقی مانده است؟



۸ الگوهای زیر را ادامه بده.

۳۷ - ۳۸ - ۳۹ -

۵۵ - ۶۰ - ۶۵ -

۷۲ - ۷۴ - ۷۶ -

۱۰ - ۲۰ - ۳۰ -

۲۴ - ۳۴ - ۴۴ -

۴۲ - ۴۷ - ۵۲ -

..... - ۲۴ - ۲۵ - ۲۶

..... - ۷۰ - ۸۰ - ۹۰

..... - ۶۵ - ۷۰ - ۷۵

۹ تفریق‌های زیر را ذهنی حساب کن.

$$۴۰ - ۱۰ =$$

$$۳۰ - ۳۰ =$$

$$۷۸ - ۸ =$$

$$۹۰ - ۷۰ =$$

$$۷۰ - ۳۰ =$$

$$۹۵ - ۵ =$$

$$۵۰ - ۴۰ =$$

$$۸۰ - ۲۰ =$$

$$۵۶ - ۶ =$$

علوی

جمع و تفریق‌های زیر را انجام بده.

$$10 + 5 + 5 + 5 + 5 =$$

$$10 + 20 + 5 - 5 =$$

$$10 + 20 + 10 + 5 + 4 =$$

$$20 + 10 + 5 + 5 + 10 =$$

$$10 + 5 + 5 + 20 + 10 - 10 =$$

$$20 + 20 + 10 + 6 + 10 =$$

$$10 + 20 + 5 + 5 =$$

$$20 + 10 + 5 + 10 + 5 + 5 =$$



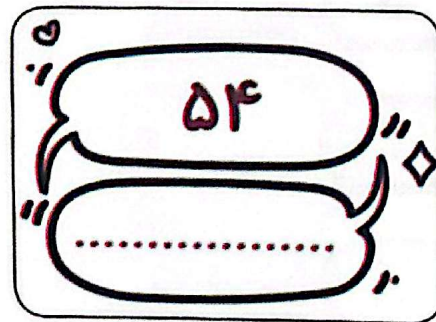

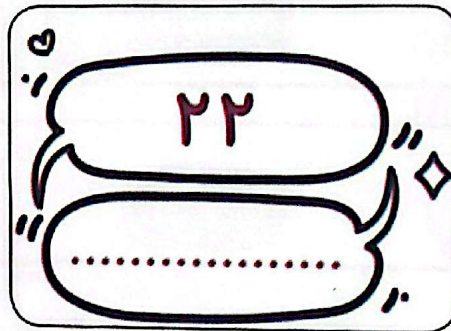

$$10 - 10 + 7 + 20 =$$

$$5 + 5 + 5 + 5 + 9 =$$


$$10 + 20 + 10 + 5 + 2 =$$

$$10 - 10 + 30 + 5 + 1 =$$

جاهای خالی را کامل کن.

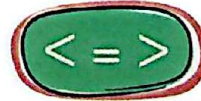


۴ عددهای زیر را از کمترین به بیشترین به ترتیب بنویس.



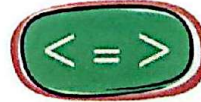
۵ جواب جمع و تفریقها را بنویس؛ سپس جوابها را مقایسه کن و علامت مناسب را انتخاب کن.

$$50 + 30 = \bigcirc$$



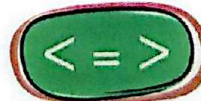
$$80 - 10 = \bigcirc$$

$$35 - 5 = \bigcirc$$




$$20 + 5 = \bigcirc$$

$$10 + 10 + 5 + 3 = \bigcirc$$



$$20 + 10 + 7 = \bigcirc$$

$$20 + 10 - 10 = \bigcirc$$



$$10 + 5 + 5 = \bigcirc$$

$$3 + 30 + 10 = \bigcirc$$



$$20 + 2 + 20 = \bigcirc$$



کمی به ساعت مانده است.



ساعت از گذشته است.



کمی به ساعت مانده است.



ساعت از گذشته است.

مسئله‌ها را به روش دلخواه حل کن؛ سپس جمله‌ها را کامل کن.

الف) آقا رضا ۱۹ لیوان داشت. او ۹ لیوان قرمز و ۸ لیوان آبی را فروخته است. حالا آقا رضا چند لیوان دارد؟

آقا رضا لیوان فروخته است.
..... + =

آقا رضا لیوان دارد.
..... - =

ب) حسین ۶ بستنی قیفی و ۸ بستنی عروسی خرید. او ۵ تا از بستنی‌ها را خورد. حسین چند بستنی دارد؟

حسین بستنی خریده است.
..... + =

حسین بستنی دارد.
..... - =

پ) آذر یک کتاب داستان ۲۳ صفحه‌ای دارد. او دیروز ۷ صفحه و امروز ۸ صفحه از کتابش را خوانده است. او چند صفحه از کتاب را نخوانده است؟

آذر صفحه را خوانده است.
..... + =

آذر صفحه را نخوانده است.
..... - =

در هر قسمت عددهای مناسب بنویس.

الف) از ۴۶ تا ۵۷ را به ترتیب و یکی یکی بنویس.

.....

ب) از ۲۴ تا ۴۴ را ۲ تا ۲ بنویس.

.....

پ) از ۱۶ تا ۹۶ را ۱۰ تا ۱۰ بنویس.

.....

ت) از ۵۵ تا ۱۰۰ را ۵ تا ۵ بنویس.


.....

ث) از ۷۹ تا ۶۹ را به صورت معکوس بنویس.

.....

۷ اگر اطلاعات مسئله کافی است آن را حل کن.

الف) علی دو ظرف میوه برای مهمان‌ها آماده کرده بود. در ظرف اول ۲ موز و ۴ سیب بود و در ظرف دوم ۶ موز و ۴ سیب بود. او از ظرف دوم ۲ موز برداشت و آن‌ها را در ظرف اول گذاشت. او روی هم چند موز در ظرف‌ها دارد؟



ب) اصغر ۳۰ بادکنک به رنگ‌های مختلف داشت. با آمدن باد، چندتا از بادکنک‌ها به هوا رفتند. حالا اصغر چند بادکنک دارد؟

