

طرح سنجش استعداد: مداد قرمز ۲ - توصیفی



درس: ریاضی اول دبستان



علوی

مدارس هزاره سوم

مدت پاسخگویی: ۷۵ دقیقه




زمان برگزاری: هفته دوم دی



نام کلاس:

نام و نام خانوادگی:

۱) تعداد دکمه‌های هر رنگ را بشمارید و به عدد یا چوب خط مناسب وصل کنید.



(ت)



۸

(پ)



//// /

(ب)



۷

(الف)

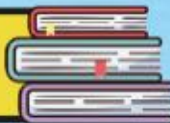


//// ////

طرح سنجش استعداد: مداد قرمز ۲ - توصیفی



درس: ریاضی اول دبستان



علوی

مدارس هزاره سوم

مدت پاسخگویی: ۷۵ دقیقه




زمان برگزاری: هفته دوم دی



نام کلاس:

نام و نام خانوادگی:

۱) تعداد دکمه‌های هر رنگ را بشمارید و به عدد یا چوب خط مناسب وصل کنید.



(ت)



۸

(پ)



//// /

(ب)



۷

(الف)



//// ////

۲) الگوهای درست را با علامت ✓ و الگوهای نادرست را با علامت * مشخص کنید.



(الف)



(ب)






(پ)



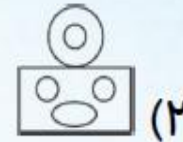
(ت)

۲) الگوهای درست را با علامت ✓ و الگوهای نادرست را با علامت * مشخص کنید.



۳) گزینه‌ی صحیح را مشخص کنید.

الف) در کدام شکل گوشه‌های بیش‌تری دیده می‌شود؟



ب) کدام یک از شکل‌های زیر نیمه‌ی دیگر این شکل است؟



پ) بیش‌ترین عدد کدام است؟

(۳) ۶


(۲) ۸

(۱) ۵



۳) گزینه‌ی صحیح را مشخص کنید.

الف) در کدام شکل گوشه‌های بیش‌تری دیده می‌شود؟



ب) کدام یک از شکل‌های زیر نیمه‌ی دیگر این شکل است؟



پ) بیش‌ترین عدد کدام است؟

۶ (۳)

۸ (۲)

۵ (۱)




۴) پاسخ صحیح را از داخل کمانک انتخاب کرده و بنویسید.

الف) عدد قبل از عدد $+++ //$ ، عدد است. (۵، ۷، ۶)

ب) بعد از عدد ، عدد است. (۷، ۵، ۶)

پ) عدد مربوط به چوب خط $+++ ///$ ، عدد است. (۷، ۹، ۸)


ت) اگر از  تا یکی را بیندیم عدد می‌شود. (۵، ۶، ۳)

۵) جدول شگفت‌انگیز را حل کنید.


۵	۱	۴	۳	۲	
۶	۳			۴	۵
۴	۶			۱	۲
۱	۲	۵	۴	۶	۳
۲	۵			۳	۴
۳	۴	۶	۲	۵	

۴) پاسخ صحیح را از داخل کمانک انتخاب کرده و بنویسید.

الف) عدد قبل از عدد $++++$ // عدد^۶ است. (۵، ۷، ۶)

ب) بعد از عدد ، عدد^۶ است. (۷، ۵، ۶)

پ) عدد مربوط به چوب خط $++++$ /// عدد^۸ است. (۷، ۹، ۸)

ت) اگر از  تا یکی را بیندیم عدد^۳ می‌شود. (۵، ۶، ۳)

۵) جدول شگفت‌انگیز را حل کنید.

۵	۱	۴	۳	۲	۶
۶	۳	۲	۱	۴	۵
۴	۶	۳	۵	۱	۲
۱	۲	۵	۴	۶	۳
۲	۵	۱	۶	۳	۴
۳	۴	۶	۲	۵	۱

۶) اندازه‌ی هر شکل چند گیره است؟ عدد آن را در دایره بنویسید سپس چوب خط آن را بکشید.



عدد



چوب خط



عدد



چوب خط




۶) اندازه‌ی هر شکل چند گیره است؟ عدد آن را در دایره بنویسید سپس چوب خط آن را بکشید.



عدد

۷

چوب خط




عدد

۵


چوب خط



۹) در کادر سمت راست آن قدر شکل بکشید تا دو طرف با هم برابر شوند. سپس عدد هر دسته را نوشته و بین آن‌ها علامت مناسب بگذارید.



۹) در کادر سمت راست آن قدر شکل بکشید تا دو طرف با هم برابر شوند. سپس عدد هر دسته را نوشته و بین آن‌ها علامت مناسب بگذارید.




$$\underline{9} \quad \boxed{=} \quad \underline{9}$$



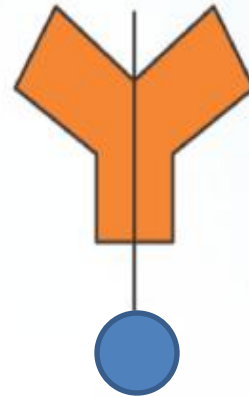
۱۰ الف) کدام شکل به دو نیمه‌ی مساوی تقسیم شده است؟ علامت بزنید.



ب) نیمه‌ی دیگر شکل را کامل کنید.



۱۰ الف) کدام شکل به دو نیمه‌ی مساوی تقسیم شده است؟ علامت بزنید.



ب) نیمه‌ی دیگر شکل را کامل کنید.

