



موضوع:

تاریخ:

نام و نام خانوادگی:

هدف:

هر عدد را بخوان. سپس یکی و ده تایی آن‌ها را در جای مربوط به خود در دفترها بنویس.

بازخورد:

Blank dashed-line box for feedback.












موضوع:

تاریخ:


نام و نام خانوادگی:

هدف:

سه تا سه تا بشمار و بر روی هر واگن قطار عدد مناسب بنویس.



بازخورد:





موضوع:

تاریخ

نام و نام خانوادگی

هدف:

$$\begin{array}{c} \_ \\ + \\ \_ \\ = \\ \_ \end{array} \quad \begin{array}{c} \text{Ice cream} \\ + \\ \text{Ice cream} \end{array}$$

$$\begin{array}{c} \_ \\ + \\ \_ \\ = \\ \_ \end{array} \quad \begin{array}{c} \text{Heart} \\ + \\ \text{Candy} \end{array}$$

$$\begin{array}{c} \_ \\ + \\ \_ \\ = \\ \_ \end{array} \quad \begin{array}{c} \text{Book} \\ + \\ \text{Watch} \end{array}$$

$$\begin{array}{c} \_ \\ + \\ \_ \\ = \\ \_ \end{array} \quad \begin{array}{c} \text{Basketball} \\ + \\ \text{Apple} \end{array}$$

$$\begin{array}{c} \_ \\ + \\ \_ \\ = \\ \_ \end{array} \quad \begin{array}{c} \text{Heart} \\ + \\ \text{Owl} \end{array}$$

$$\begin{array}{c} \_ \\ + \\ \_ \\ = \\ \_ \end{array} \quad \begin{array}{c} \text{Owl} \\ + \\ \text{Ice cream} \end{array}$$

$$\begin{array}{c} \_ \\ + \\ \_ \\ = \\ \_ \end{array} \quad \begin{array}{c} \text{Sun} \\ + \\ \text{Sun} \end{array}$$

$$\begin{array}{c} \_ \\ + \\ \_ \\ = \\ \_ \end{array} \quad \begin{array}{c} \text{Basketball} \\ + \\ \text{Watch} \end{array}$$

$$\begin{array}{c} \_ \\ + \\ \_ \\ = \\ \_ \end{array} \quad \begin{array}{c} \text{Candy} \\ + \\ \text{Basketball} \end{array}$$

0	
1	
2	
3	
4	
5	
6	
7	
8	
9	

با توجه به کد داده شده جمع ها را کامل کن.

بازخورد:





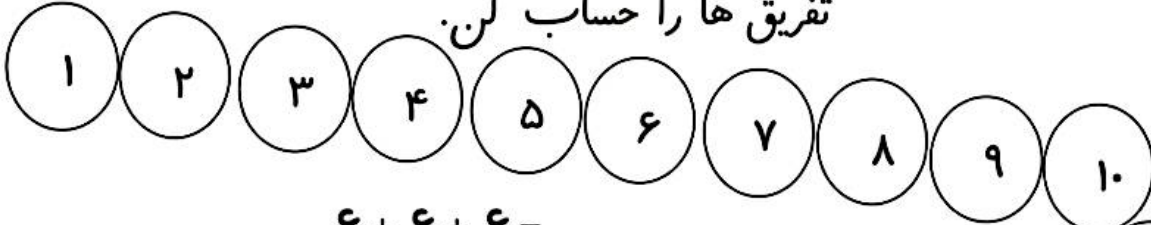
موضوع:

تاریخ:

نام و نام خانوادگی:

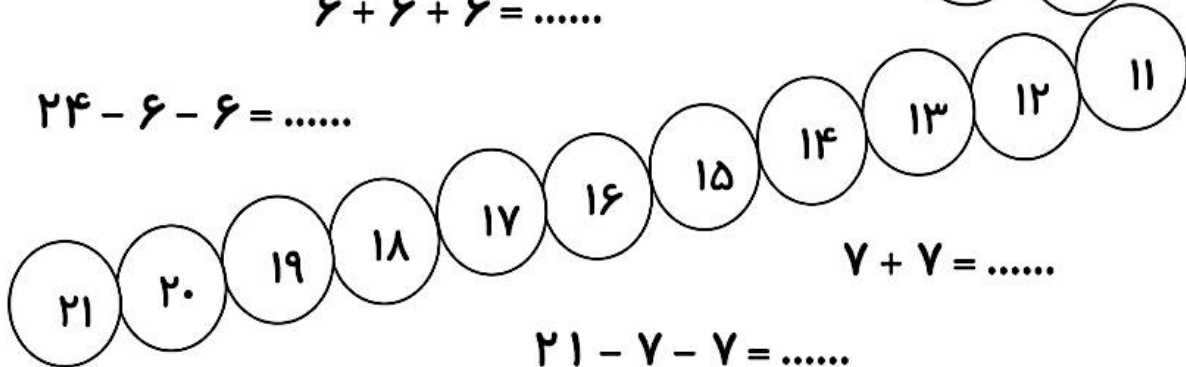
هدف:

۶ تا ۶ تا بشمار و رنگ نارنجی و ۷ تا ۷ تا بشمار و رنگ آبی بزن. سپس جمع و تفریق ها را حساب کن.



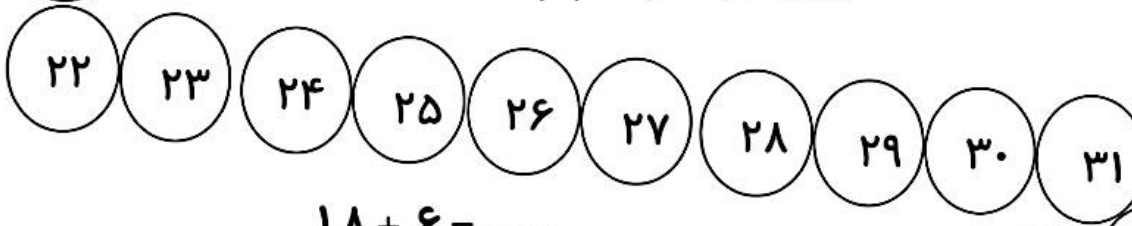
$$6 + 6 + 6 = \dots$$

$$24 - 6 - 6 = \dots$$



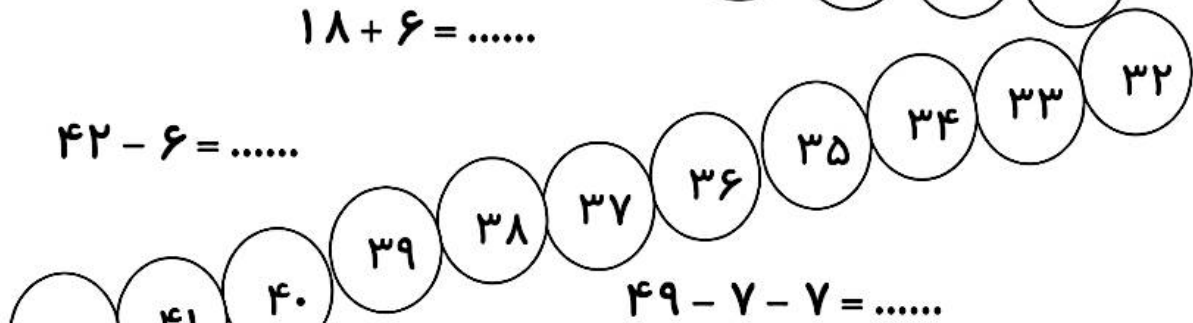
$$7 + 7 = \dots$$

$$21 - 7 - 7 = \dots$$



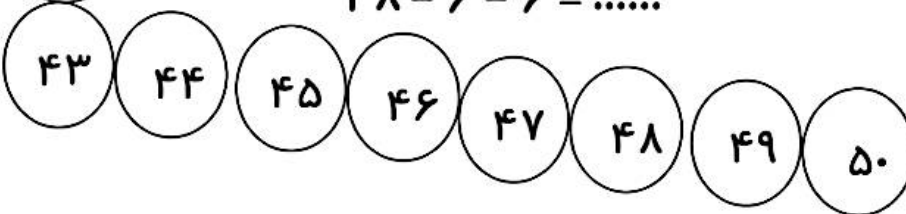
$$18 + 6 = \dots$$

$$42 - 6 = \dots$$



$$49 - 7 - 7 = \dots$$

$$48 - 6 - 6 = \dots$$



بازخورد:





موضوع:

تاریخ

نام و نام خانوادگی

هدف:

عزیز دلم، ابتدا ده تایی درست کن. سپس پاسخ جمع را پیدا کن.

$$9 + 2 + 8 = \bigcirc$$

$$5 + 7 + 3 = \bigcirc$$

$$2 + 9 + 1 = \bigcirc$$

$$3 + 7 + 9 = \bigcirc$$

$$6 + 4 + 3 = \bigcirc$$

$$5 + 5 + 9 = \bigcirc$$

$$6 + 7 + 3 = \bigcirc$$

$$2 + 8 + 1 = \bigcirc$$

$$4 + 4 + 6 = \bigcirc$$

$$1 + 9 + 9 = \bigcirc$$

$$9 + 8 + 2 = \bigcirc$$

$$3 + 7 + 6 = \bigcirc$$

$$5 + 4 + 6 = \bigcirc$$

$$3 + 7 + 9 = \bigcirc$$

$$8 + 8 + 2 = \bigcirc$$

$$9 + 4 + 6 = \bigcirc$$

بازخورد:

Empty rounded rectangular box for feedback.





موضوع:

تاریخ:

نام و نام خانوادگی:

هدف:

به امین و آزاده کمک کنید تا اعداد بزرگ تر در هر بادکنک را پیدا و رنگ آمیزی کنند.



بازخورد:

A large, empty rounded rectangular box with a dashed border, intended for student feedback.






موضوع:

تاریخ:


نام و نام خانوادگی:

هدف:


فرزندم، زمانی را که هر ساعت نشان می دهد بنویس.




ساعت ..... است.



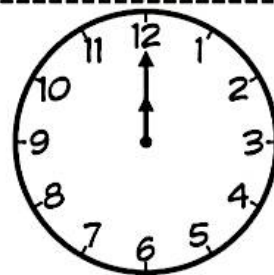
ساعت ..... است.



ساعت بین ..... و ..... است.



ساعت بین ..... و ..... است.



ساعت ..... است.

بازجورد:

Blank dashed box for drawing.





موضوع:

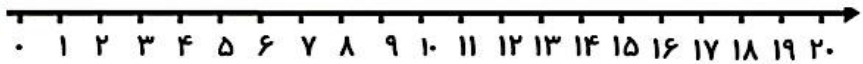
تاریخ

نام و نام خانوادگی

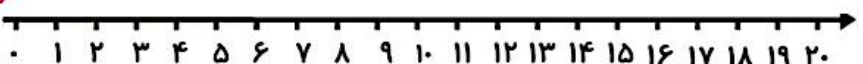
هدف:

فرزندانم، با کمک محور، جواب هر یک از جمع ها و تفریق را بدست پیاور.

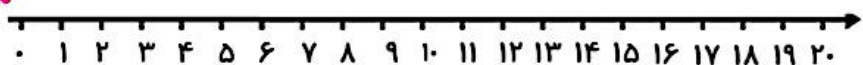
$19 - 5 = \dots\dots\dots$



$8 + 9 + 2 = \dots\dots\dots$



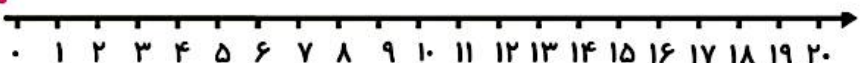
$20 - 4 - 6 = \dots\dots\dots$



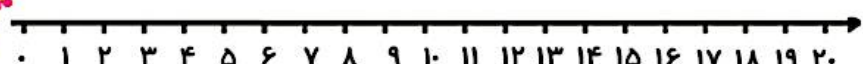
$8 + 9 + 2 = \dots\dots\dots$



$17 - 9 - 2 = \dots\dots\dots$



$6 + 3 + 5 + 4 = \dots\dots\dots$



بازخورد:

A large empty rounded rectangular box with a dashed orange border, intended for student feedback.















موضوع:

تاریخ:

نام و نام خانوادگی:

هدف:

در هر قسمت جمله‌ای که ساعت را نشان می‌دهد رنگ بزن.

 <p>ساعت ۲ است.</p> <p>ساعت ۱۲ است.</p>	 <p>ساعت ۹ است.</p> <p>ساعت ۸ است.</p>
 <p>ساعت ۱۱ است.</p> <p>ساعت ۱۰ است.</p>	 <p>ساعت ۳ است.</p> <p>ساعت ۷ است.</p>
 <p>ساعت ۵ است.</p> <p>ساعت ۴ است.</p>	 <p>ساعت ۹ است.</p> <p>ساعت ۸ است.</p>
 <p>ساعت ۷ است.</p> <p>ساعت ۶ است.</p>	 <p>ساعت ۴ است.</p> <p>ساعت ۶ است.</p>
 <p>ساعت ۱ است.</p> <p>ساعت ۴ است.</p>	 <p>ساعت ۵ است.</p> <p>ساعت ۹ است.</p>

بازخورد:

Blank dashed box for feedback.





موضوع:

تاریخ:

نام و نام خانوادگی:

هدف:

ده عدد بعد از هر یکی از عددهای زیر را در داخل گردی ها بنویس.

۳ ○○○○○○○○○○○

۸ ○○○○○○○○○○○

۲ ○○○○○○○○○○○

۵ ○○○○○○○○○○○

۱ ○○○○○○○○○○○

۱۰ ○○○○○○○○○○○

۴ ○○○○○○○○○○○

۷ ○○○○○○○○○○○

۹ ○○○○○○○○○○○

۶ ○○○○○○○○○○○

باز خورد:

Blank dashed box for drawing.

