

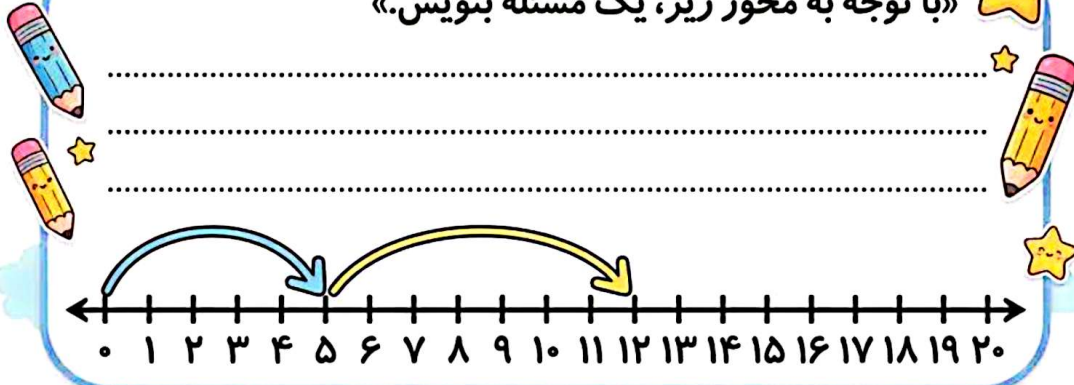
موضوع:

تاریخ

نام و نام خانوادگی

هدف:

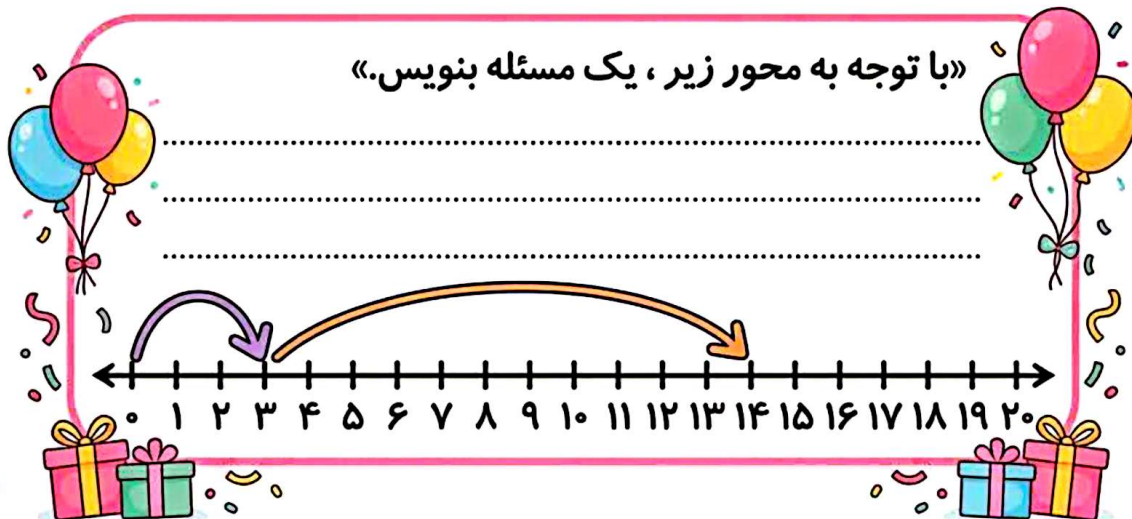
«با توجه به محور زیر، یک مسئله بنویس.»



«با توجه به محور زیر، یک مسئله بنویس.»



«با توجه به محور زیر، یک مسئله بنویس.»





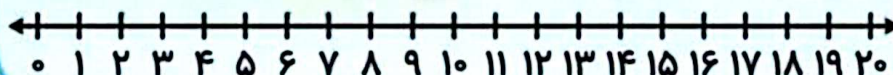
موضوع:

تاریخ

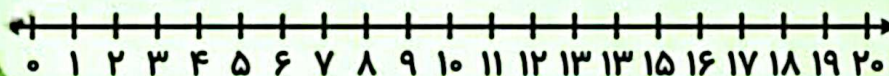
نام و نام خانوادگی

هدف:

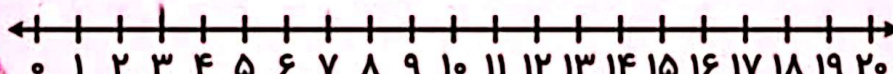
«مسئله ۱: علی کوچولو ۱۱ توپ آبی رنگ داشت. خواهرش زهرا به او ۵ توپ زرد رنگ داد. حالا علی چند توپ دارد؟»




«مسئله ۲: در باغ وحش تهران، ۴ تا زرافه بودند، ۵ تا زرافه‌ی جدید به باغ وحش آوردند، حالا چند زرافه در باغ وحش است؟»



«مسئله ۳: در جشن تولد عسل، ۱۹ کادو بود، عسل ۷ تا از کادو‌ها را باز کرد، چند کادو باز نکرده باقیمانده است؟»





موضوع:

تاریخ:

نام و نام خانوادگی:

هدف:

دبستان:

ارزشیابی اردیبهشت ماه میاضی پایه اول

نام و نام خانوادگی:

۱ ابتدا دسته‌های ده تایی درست کن. بعد جاهای خالی را کامل کن.




ده تایی

یکی

عدد:

به حروف:



ده تایی

یکی

عدد:

به حروف:

۲ الگو را ادامه بده.



۵ - ۱۰ - ۱۵ - - - - -

- - - - - ۷۰ - ۸۰ - ۹۰

۳ جواب و جمع‌ها را با کشیدن چوب خط پیدا کن.



$$۵ + ۳ + ۱۱ = \dots$$



$$۸ + ۳ + ۱۰ = \dots$$



۴ جرفی و عددی هر عدد را به هم وصل کن.

۵۰	۷۸	۹۳	۲۵	۹	۱۸
پنجاه	هفتاد و هشت	نود و سه	بیست و پنج	نه	هجده

۵ اعداد را به ترتیب ادامه بده.



۴۵

۶۸

