



با توجه به تصویر، اندازه‌ی قد هر حیوان را در زیر شکل آن بنویس و قد حیوانات را با هم مقایسه کن و علامت مناسب < = > را در دایره بگذار.









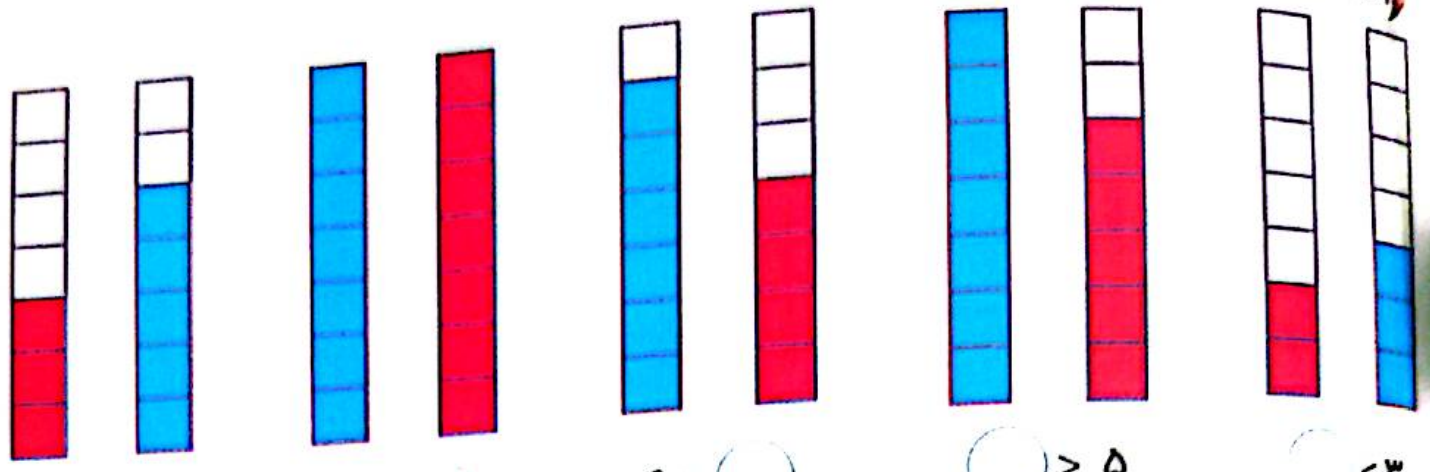








مانند نمونه انجام بده.



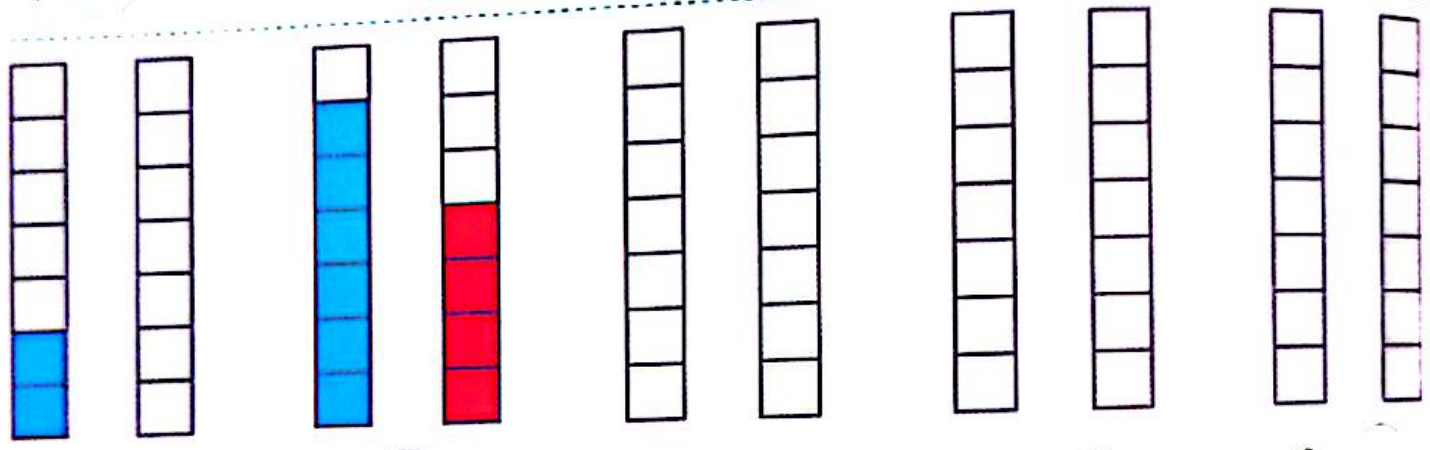
$3 < 5$

$7 = \bigcirc$

$6 > \bigcirc$

$\bigcirc > 5$

$\bigcirc < 3$



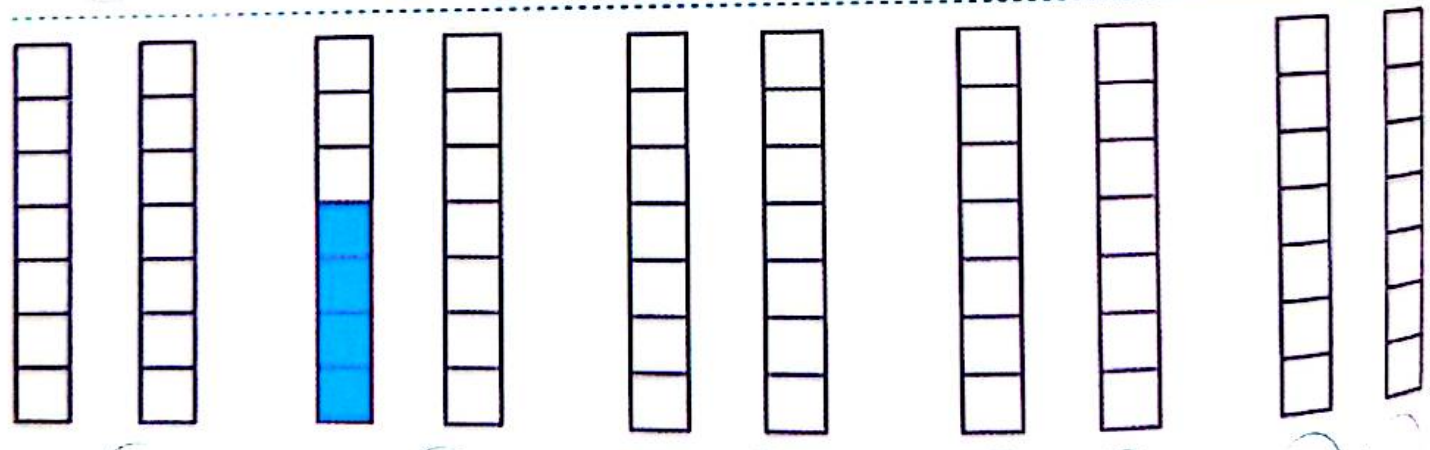
$2 \bigcirc 0$

$6 \bigcirc 4$

$5 > 3$

$5 < 7$

$4 = \bigcirc$



$0 < \bigcirc$

$4 > \bigcirc$

$5 = \bigcirc$

$\bigcirc > \bigcirc$

$\bigcirc < \bigcirc$

در جای خالی عدد مناسب بنویس.



$\bigcirc = 6$

$7 < \bigcirc$



$5 > \bigcirc$



$5 > \bigcirc$



$3 = \bigcirc$

$4 < \bigcirc$

۳ ابتدا به تعداد شکل‌های هر دسته در  چوب‌خط بکش و سپس عبارت جمع را کامل کن.


 + 
 
 =  ..... + ..... = .....


 + 
 
 =  ..... + ..... = .....


 + 
 
 =  ..... + ..... = .....

۴ دو عدد پیدا کن که جمع آن‌ها برابر با عددی باشد که بالای ستون نوشته است.

۲	۳	۴	۵
<input type="text"/>	<input type="text"/>	<input type="text"/>	<input type="text"/>
<input type="text"/>	<input type="text"/>	<input type="text"/>	<input type="text"/>
<input type="text"/>	<input type="text"/>	<input type="text"/>	<input type="text"/>
<input type="text"/>	<input type="text"/>	<input type="text"/>	<input type="text"/>
<input type="text"/>	<input type="text"/>	<input type="text"/>	<input type="text"/>

عددی در کنار علامت جمع بنویس که حاصل جمع هر خانه عدد سمت راست آن ردیف باشد.

$$\begin{array}{|c|c|c|c|c|c|c|} \hline \bullet + \dots & 1 + \dots & 2 + \dots & 3 + \dots & 4 + \dots & 5 + \dots & 6 + \dots \\ \hline \end{array} = 6$$

$$\begin{array}{|c|c|c|c|c|c|c|c|} \hline \bullet + \dots & 1 + \dots & 2 + \dots & 3 + \dots & 4 + \dots & 5 + \dots & 6 + \dots & 7 + \dots \\ \hline \end{array} = 7$$

$$\begin{array}{|c|c|c|c|c|c|c|c|c|} \hline \bullet + \dots & 1 + \dots & 2 + \dots & 3 + \dots & 4 + \dots & 5 + \dots & 6 + \dots & 7 + \dots & 8 + \dots \\ \hline \end{array} = 8$$

$$\begin{array}{|c|c|c|c|c|c|c|c|c|c|} \hline \bullet + \dots & 1 + \dots & 2 + \dots & 3 + \dots & 4 + \dots & 5 + \dots & 6 + \dots & 7 + \dots & 8 + \dots & 9 + \dots \\ \hline \end{array} = 9$$

$$\begin{array}{|c|c|c|c|c|c|c|c|c|c|c|} \hline \bullet + \dots & 1 + \dots & 2 + \dots & 3 + \dots & 4 + \dots & 5 + \dots & 6 + \dots & 7 + \dots & 8 + \dots & 9 + \dots & 10 + \dots \\ \hline \end{array} = 10$$

با کشیدن شکل حاصل جمع‌های زیر را بنویس.

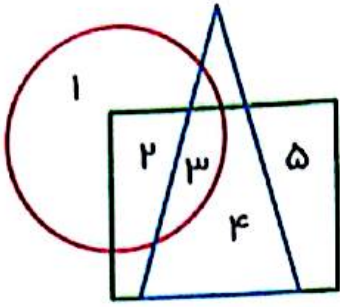
$$2 + 5 =$$

$$8 + 1 =$$

$$6 + 2 =$$

$$7 + 3 =$$

به شکل مقابل نگاه کن و به سوالات پاسخ بده.



کدام عدد فقط داخل مربع است؟

کدام عدد داخل مربع، دایره و مثلث است؟

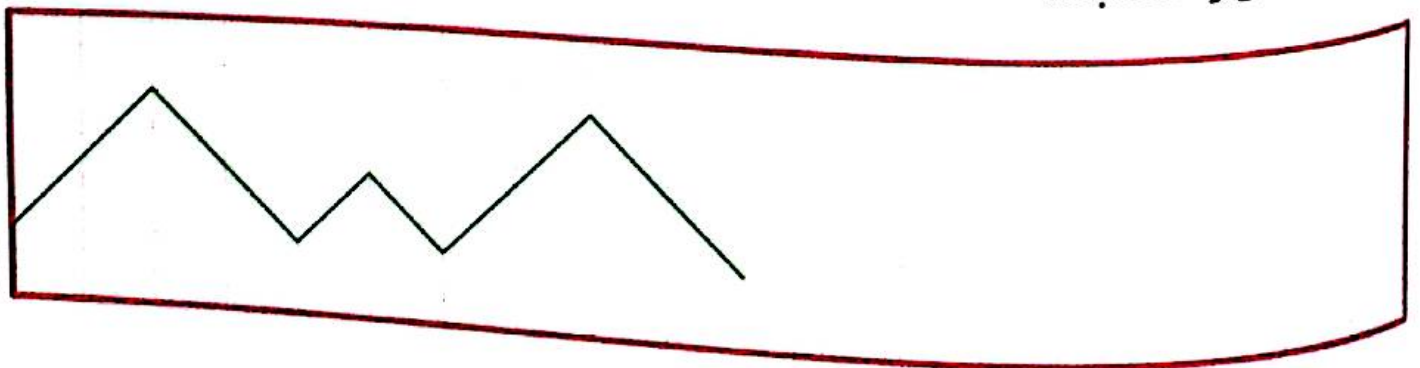
کدام عدد داخل مربع و مثلث است؟

کدام عدد داخل مربع و دایره هست، اما در داخل مثلث نیست؟

در جاهای خالی عددی بنویس که جمع آن‌ها برابر با عددی باشد که بالای آن ستون نوشته شده است.

۲	۳	۴	۵	۶
۰				
۱				

الگویابی کن و ادامه بده.





در جاهای خالی عددی بنویس که جمع آن‌ها برابر با عدد بالای ستون باشد.

۷

۳	
	۰
۶	

۸

۴	
	۳
	۵
	۲
۲	
۱	
۷	
۰	

۹

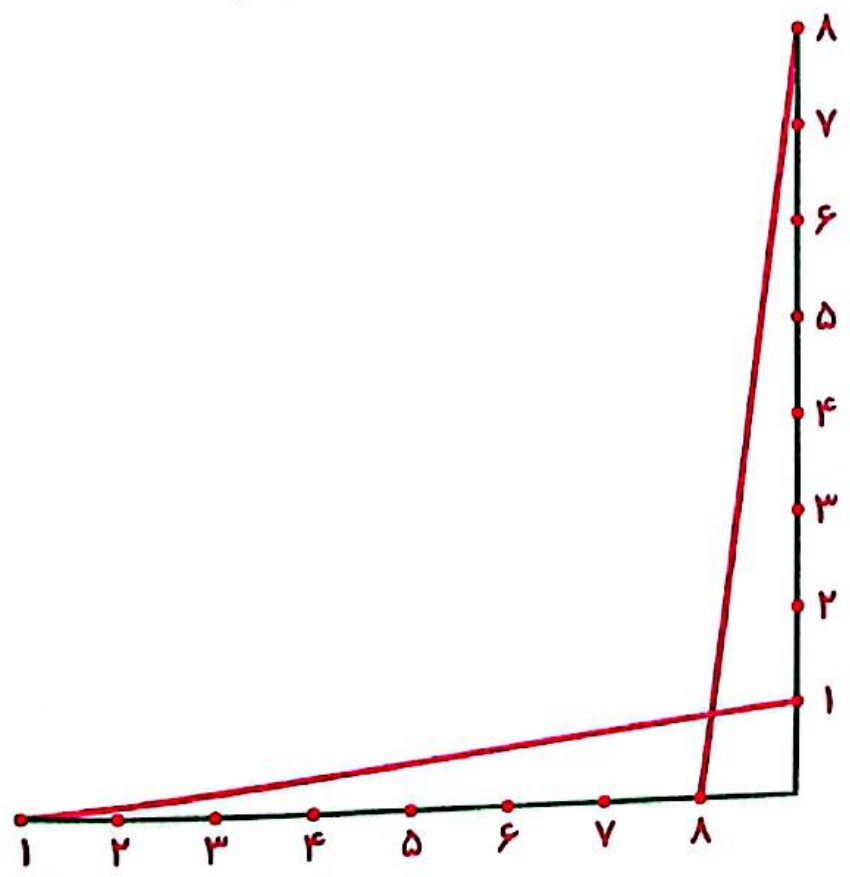
۶	
	۵
	۴
۰	

۱۰




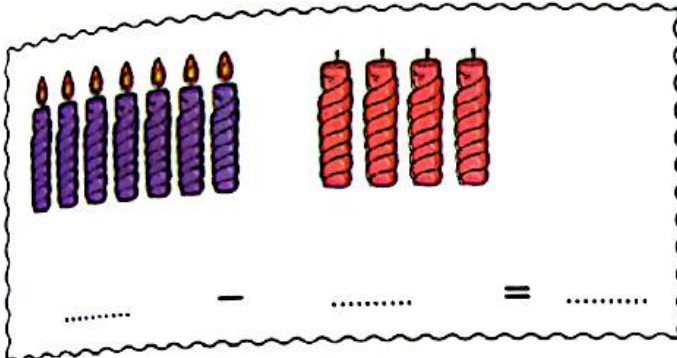


	۷
۶	
۰	




نقطه‌هایی را که عدد مثل هم دارند، با خطکش به هم وصل کن.




۳ برای شکل‌های زیر عبارت تفریق بنویس.



۴ جمله‌ها را با نوشتن عدد مناسب کامل کن.



اندازه‌ی خط‌کش کمی بلندتر از ..... است.



اندازه‌ی ساعت مچی کمی بلندتر از ..... است.


با توجه به عبارت، از شکل‌ها خط بزن و باقی مانده را بنویس.



$$8 - 6 =$$




$$7 - 4 =$$



$$9 - 3 =$$



$$10 - 5 =$$



$$9 - 5 =$$

برای هر عدد از یک رنگ استفاده کن و با رنگ کردن چین‌ها جواب جمع‌ها را پیدا کن.

$$۲ + ۳ + ۴ =$$

--	--	--	--	--	--	--	--	--	--

$$۸ + ۱ + ۱ =$$

--	--	--	--	--	--	--	--	--	--

$$۶ + ۲ + ۱ =$$

--	--	--	--	--	--	--	--	--	--

$$۵ + ۲ + ۰ =$$

--	--	--	--	--	--	--	--	--	--

$$۱ + ۲ + ۳ + ۳ =$$

--	--	--	--	--	--	--	--	--	--

$$۲ + ۳ + ۱ + ۲ =$$

--	--	--	--	--	--	--	--	--	--

$$۷ + ۱ + ۰ + ۲ =$$

--	--	--	--	--	--	--	--	--	--

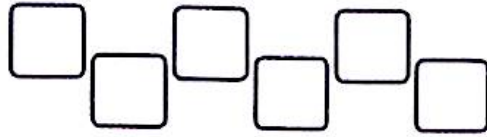
به اندازه‌ی انگشتان هر دست از شکل‌ها خط بزن. چند تا می‌ماند؟ بنویس و با چوب‌خط نشان بده.



$$5 - 4 = 1$$



$$5 - 2 = 3$$



$$5 - 3 = 2$$



$$5 - 4 = 1$$



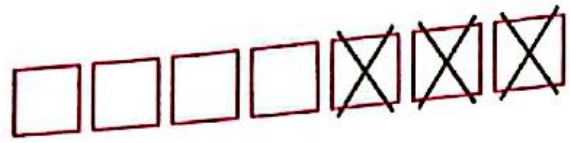
$$5 - 2 = 3$$



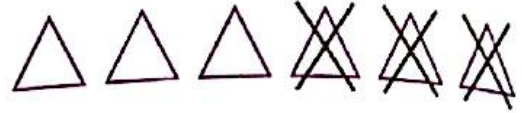
$$5 - 4 = 1$$



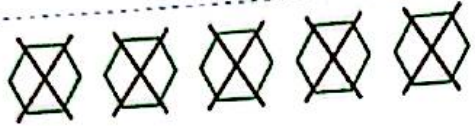
برای شکل‌های زیر تفریق بنویس.



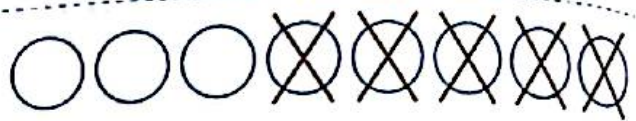
- =



- =



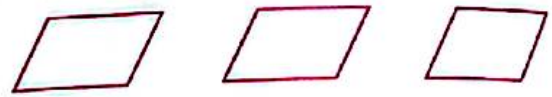
- =



- =





- =

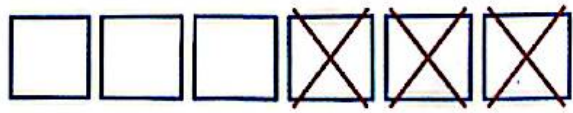


- =

برای شکل‌های زیر جمع یا تفریق بنویس.




=



=




=



=



با توجه به شکل‌ها، جاهای خالی را با اعداد مناسب کامل کن.




ده تایی	یکی
---------	-----




ده تایی	یکی
---------	-----



ده تایی	یکی
---------	-----




ده تایی	یکی
---------	-----



ده تایی	یکی
---------	-----



ده تایی	یکی
---------	-----



ده تایی	یکی
---------	-----




ده تایی	یکی
---------	-----

ده تایی و یکی

ده تایی و یکی



ده تایی	یکی
---------	-----

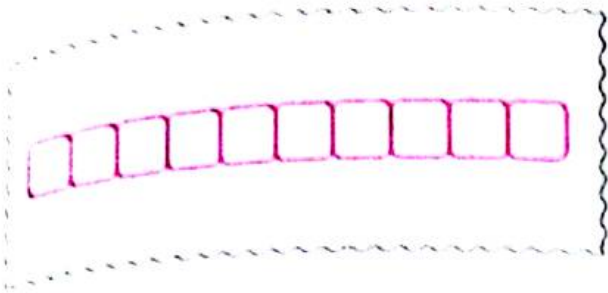


ده تایی	یکی
---------	-----


ده تایی و یکی

ده تایی و یکی

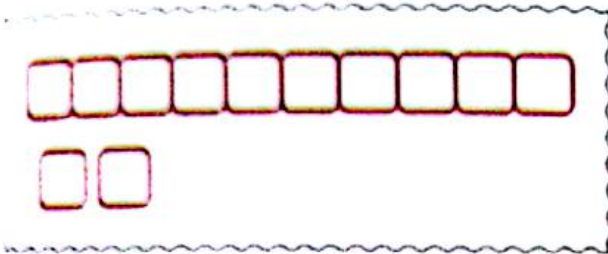
۷ در هر قسمت عبارت‌ها را کامل کن و به شکل مناسب وصل کن.



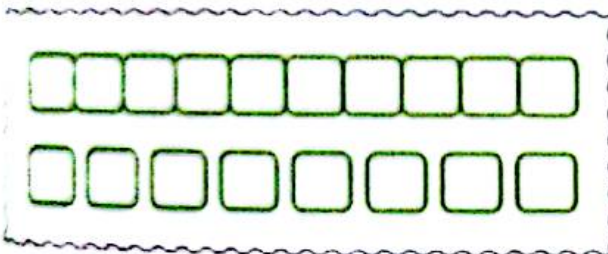
۱۲ یعنی ..... دسته‌ی ۱۰ تایی و ..... یکی



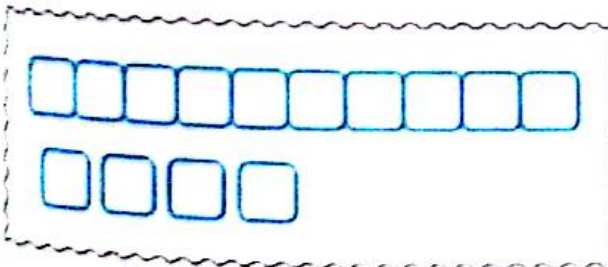
..... یعنی ۱ دسته‌ی ۱۰ تایی و ۲ یکی



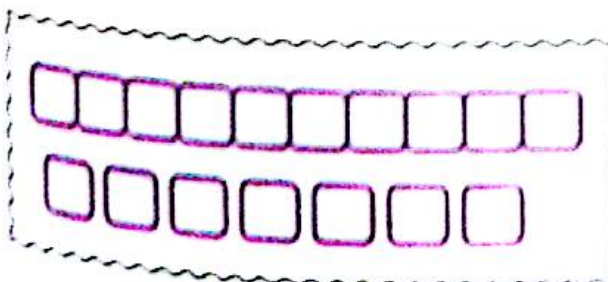
۱۰ یعنی ..... دسته‌ی ۱۰ تایی و ..... یکی



..... یعنی ۱ دسته‌ی ۱۰ تایی و ۹ یکی

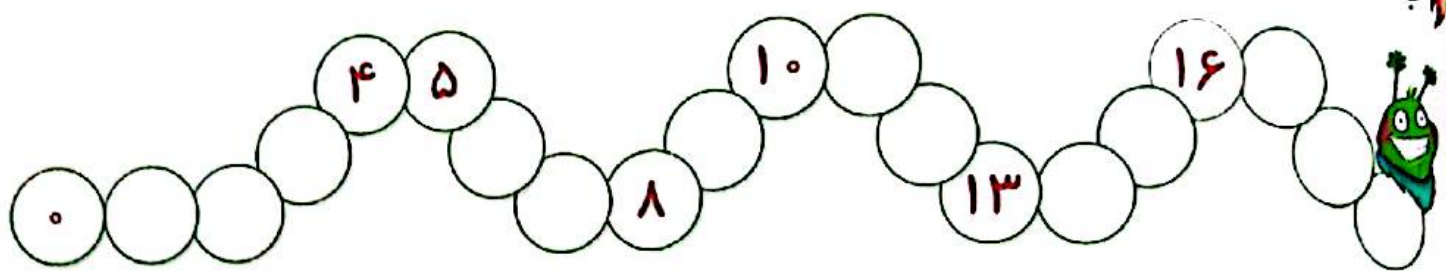


۱۷ یعنی ..... دسته‌ی ۱۰ تایی و ..... یکی

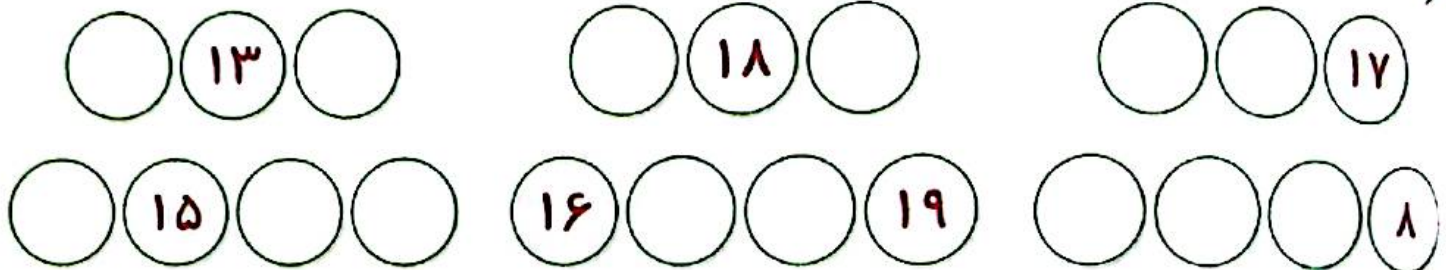


..... یعنی ۱ دسته‌ی ۱۰ تایی و ۸ یکی

جاهای خالی را کامل کن.



جاهای خالی را با اعداد قبل یا بعد از اعداد مشخص شده کامل کن.



دور عدد مناسب خط بکش.




۱۰    ۱۱    ۱۲



۱۰    ۱۲    ۱۴



۱۶    ۱۷    ۱۸



۱۹    ۱۶    ۱۷



۱۸    ۱۵    ۱۷



۱۲    ۱۱    ۱۰

عددهای جا افتاده‌ی محور زیر را کامل کن.



طول کدام شکل هم‌اندازه‌ی محور است؟ گردی آن را سبز کن.


طول کدام شکل از محور کوتاه‌تر است؟ گردی آن را آبی کن.

طول کدام شکل از محور بلندتر است؟ گردی آن را قرمز کن.

اندازه‌ی شمع از  کوتاه‌تر است.


اندازه‌ی درخت از  بلندتر است.

اندازه‌ی گل  است.



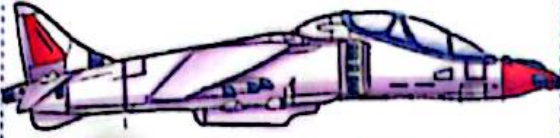


با توجه به شکل‌ها، جمله‌ها را کامل کن.




تا  است.

طول تیر کوتاه‌تر از



تا  است.

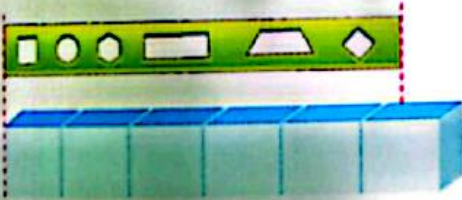
طول هواپیما کوتاه‌تر از



تا  است.

تا

طول مداد بین



تا  است.

تا


طول شابلون بین

جمله‌های زیر را با کلمه‌های «بلندترین»، «بلندتر» و «کوتاه‌ترین» کامل کن.

درخت سیب کمی ..... از درخت پرتقال است.

درخت گلابی ..... درخت است.

درخت پرتقال ..... درخت است.



۱ با چوب خط حاصل جمع را بنویس.

$$5 + 2 + 3 = \square$$

$$4 + 5 + 2 = \square$$

$$1 + 6 + 4 + 1 = \square$$

۲ با رنگ کردن چین‌ها حاصل جمع را بنویس.

$$2 + 6 + 7 =$$

$$8 + 1 + 5 =$$

$$4 + 3 + 9 =$$

$$7 + 2 + 8 =$$



+

+


=



+

+

=



+

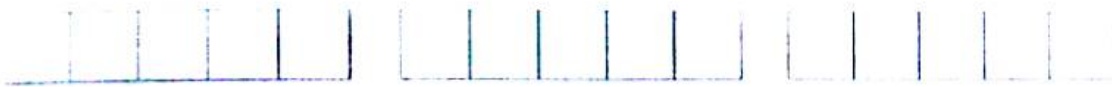
+

=



با توجه به جمع نوشته شده، برای هر عدد یک رنگ انتخاب کن و شکل‌ها را رنگ بزن. سپس حاصل

جمع را بنویس.



$$5 + 5 + 2 =$$



$$4 + 1 + 5 + 2 =$$



$$3 + 2 + 3 + 5 =$$



$$3 + 4 + 3 + 5 =$$



$$5 + 4 + 3 + 3 =$$



$$4 + 3 + 5 + 2 =$$