



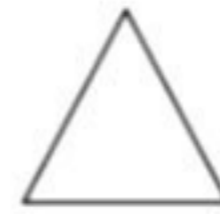

موضوع:

تاریخ

نام و نام خانوادگی

هدف:

نام هر شکل را بنویس



.....

.....

.....

.....

با توجه به ساعت کامل کن



ساعت ..... است. کمی به ساعت ..... مانده است.

ساعت از ..... گذشته است.

ساعت ..... است.

دسته ده تایی در ست کن و در جای خالی عدد مناسب بنویس

☒☒☒☒☒☒

☒☒☒☒☒☒

☒☒☒☒☒☒

☒☒☒☒☒☒

☒☒☒☒☒☒

☒☒☒☒☒☒☒☒☒☒

با عدد.....

با حروف.....



جواب جمع ها را بنویس و دور علامت مناسب خط بکش

$10 + 10 + 5 =$

< = >

$5 + 5 + 20 =$

$50 + 10 + 10 =$

< = >

$25 + 5 + 10 =$

مساله را حل کن

مریم ۲۰ شکلات خرید. ۹ تایی آن را به خواهرش و ۶ تایی آن را به برادرش داد. چند شکلات برای او باقی مانده است؟ شکل بکشید

..... - ..... = .....

..... - ..... = .....

باز خورد:

.....

.....

.....





موضوع:

تاریخ

نام و نام خانوادگی

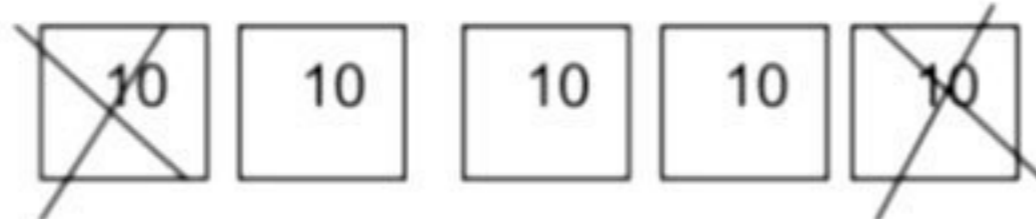
هدف:

ادامه بدهید

..... ۶ ..... ۶ ..... ۶ ..... ۱۶ ، ۱۴ ، ۱۲

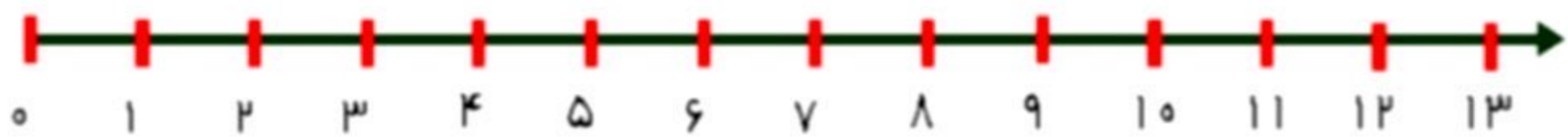
..... ۶ ..... ۶ ..... ۶ ..... ۵۰ ، ۵۵ ، ۶۰

برای شکل زیر تفریق بنویس



یک الگوی سه تایی بکش


۶ دانش آموز در حیاط مدرسه بازی می کردند . ۶ تایی دیگر هم آمدند . حالا چند دانش آموز بازی می کنند ؟ با کمک محور



در جای خالی عدد مناسب بنویس

۱۰ بسته ی ده تایی می شود یک دسته ی ..... تایی

۵۰ می شود ..... بسته ده تایی

۲ بسته ده تایی و ۹ یکی می شود.....

۴۵ می شود ..... ده تایی و ..... یکی

بازخورد:

Handwriting practice area with a dashed border and four horizontal lines.

