



(۱) هر جمله را به عدد مورد نظر وصل کنید.

- ۵۷ ● ۴ بسته‌ی ده تایی و ۸ یکی
- ۴۸ ● ۵ یکی و یک بسته‌ی ده تایی
- ۶۹ ● ۹ یکی و ۶ بسته‌ی ده تایی
- ۱۵ ● ۵ بسته‌ی ده تایی و ۷ یکی

(۱) هر جمله را به عدد مورد نظر وصل کنید.

۵۷



۴ بسته‌ی ده تایی و ۸ یکی



۴۸



۵ یکی و یک بسته‌ی ده تایی



۶۹



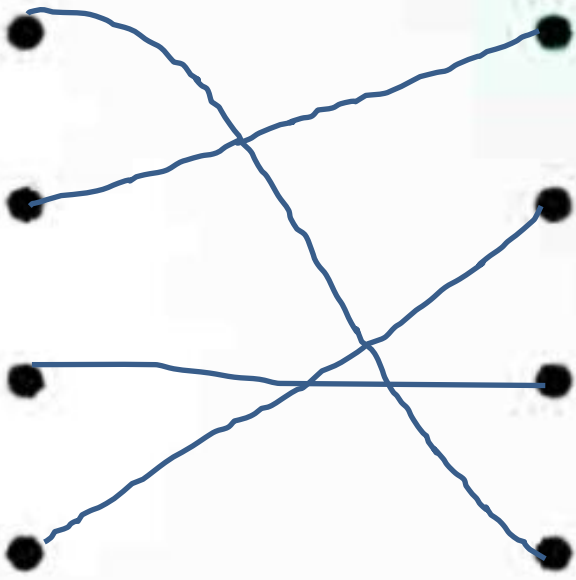
۹ یکی و ۶ بسته‌ی ده تایی



۱۵



۵ بسته‌ی ده تایی و ۷ یکی



۲) با توجه به شکل، جمله‌های درست را با علامت ✓ و جمله‌های نادرست را با ✗ مشخص کنید.

- الف) مداد شماره‌ی ۵ هم‌اندازه‌ی مداد شماره‌ی ۴ است.
- ب) اندازه‌ی مداد ۲ بین ۴ و ۵ است.
- پ) مداد ۴ کوتاه‌ترین مداد است.
- ت) مداد ۱ کمی از ۳ بلندتر است.




۲) با توجه به شکل، جمله‌های درست را با علامت ✓ و جمله‌های نادرست را با ✗ مشخص کنید.

الف) مداد شماره‌ی ۵ هم‌اندازه‌ی مداد شماره‌ی ۴ است. ✗

ب) اندازه‌ی مداد ۲ بین ۴ و ۵ است. ✓

پ) مداد ۴ کوتاه‌ترین مداد است. ✓

ت) مداد ۱ کمی از ۳ بلندتر است. ✗



۳) گزینه‌ی صحیح را مشخص کنید.

الف) در شمارش ۴ تایی بعد از ۱۶ ..... می‌آید.

۲۱ (۱)                      ۲۰ (۲)

۱۹ (۳)                      ۱۸ (۴)

ب) در شمارش ۵ تایی قبل از ۷۵ ..... می‌آید.

۸۰ (۱)                      ۷۱ (۲)

۶۵ (۳)                      ۷۰ (۴)

پ) عدد بعدی در الگوی داده شده کدام است؟



۱۲ (۱)                      ۱۴ (۲)

۱۳ (۳)                      ۱۰ (۴)

ت) در شمارش ۱۰ تایی بعد از ۵۳ ..... می‌آید.

۵۴ (۱)                      ۴۵ (۲)

۶۰ (۳)                      ۶۳ (۴)

۳) گزینه‌ی صحیح را مشخص کنید.

الف) در شمارش ۴ تایی بعد از ۱۶ ..... می‌آید. **۲۰**

۲۰ (۲)

۲۱ (۱)

۱۸ (۴)

۱۹ (۳)

ب) در شمارش ۵ تایی قبل از ۷۵ ..... می‌آید. **۷۰**

۷۱ (۲)

۸۰ (۱)

۷۰ (۳)

۶۵ (۳)

پ) عدد بعدی در الگوی داده شده کدام است؟



۱۴ (۲)

۱۲ (۱)

۱۰ (۴)

۱۳ (۳)

ت) در شمارش ۱۰ تایی بعد از ۵۳ ..... می‌آید. **۶۳**

۴۵ (۲)

۵۴ (۱)

۶۳ (۳)

۶۰ (۳)

۴) با توجه به توضیحات، پاسخ درست را از بین کلمات داخل

کادر انتخاب کنید و بنویسید. **مربع، مستطیل، دایره، مثلث**

الف) شکلی که سه گوشه و لبه دارد، ..... است.

ب) شکلی که دو لبه‌ی روبروی آن برابر است، ..... است.

پ) شکلی که گوشه و لبه ندارد، ..... است.

ت) شکلی که چهار گوشه دارد و ۴ لبه‌های آن با هم برابرند،

..... است.

۴) با توجه به توضیحات، پاسخ درست را از بین کلمات داخل

کادر انتخاب کنید و بنویسید. **مربع، مستطیل، دایره، مثلث**

الف) شکلی که سه گوشه و لبه دارد، **مثلث** ..... است.


ب) شکلی که دو لبه‌ی روبروی آن برابر است، **مستطیل** ..... است.

پ) شکلی که گوشه و لبه ندارد، **دایره** ..... است.

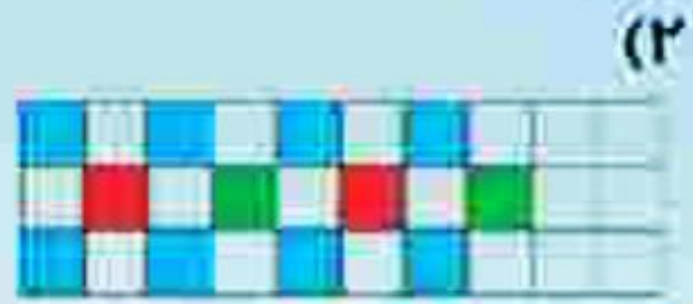
ت) شکلی که چهار گوشه دارد و ۴ لبه‌های آن با هم برابرند،

..... **مربع** ..... است.

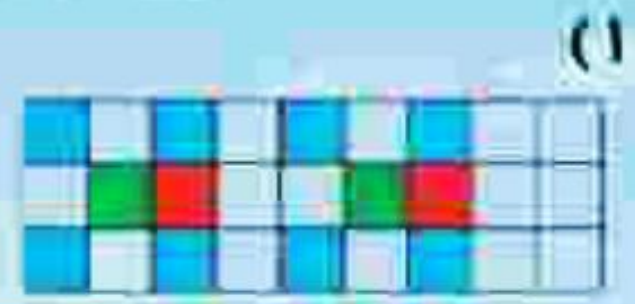
۶) با توجه به نمونه‌ی داده شده، در هر قسمت الگوی درست را انتخاب کنید.



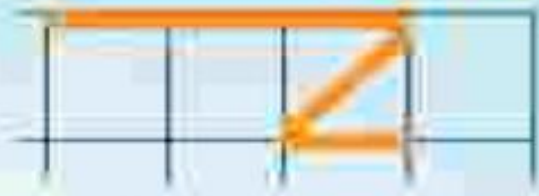
الف) نمونه



۲)



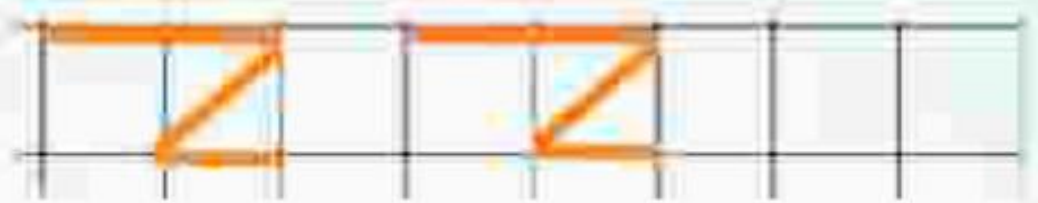
۱)



ب) نمونه




۱)

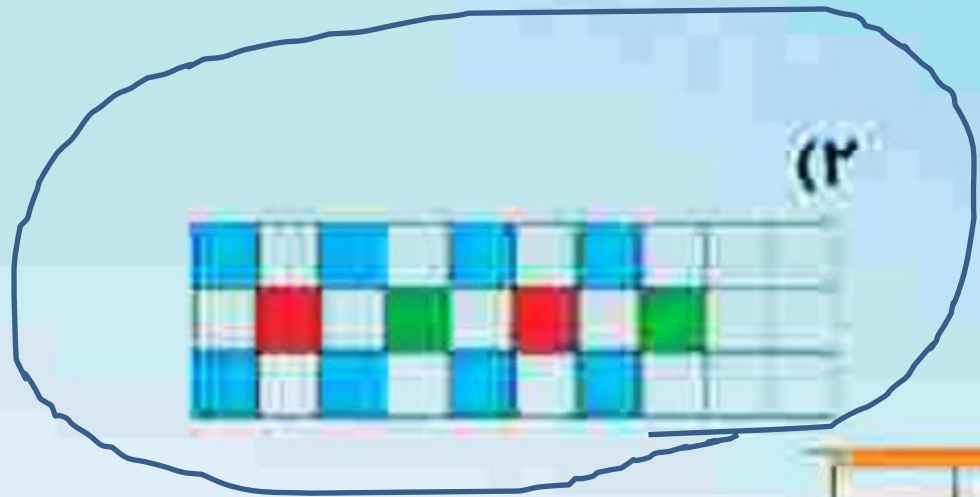


۲)

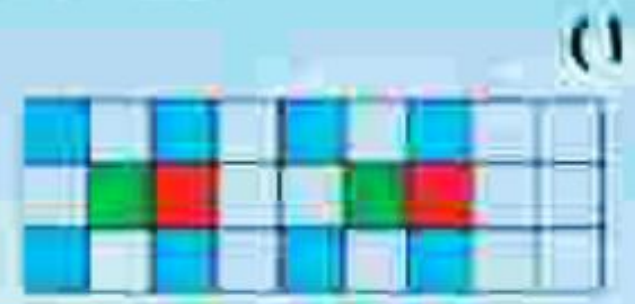
۶) با توجه به نمونه‌ی داده شده، در هر قسمت الگوی درست را انتخاب کنید



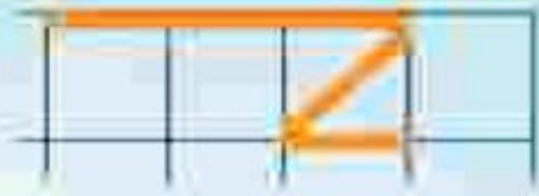
الف) نمونه




(۲)



(۱)



ب) نمونه



(۱)



(۲)

۸) ساعت چند است؟

الف) ساعت ..... است.



ب) ساعت کمی از ..... گذشته است.



پ) ساعت کمی به ..... مانده است.



ت) زمان بین ساعت ... و ... است.



۸) ساعت چند است؟

الف) ساعت ۶... است.



ب) ساعت کمی از ۱۰... گذشته است.



پ) ساعت کمی به ۴... مانده است.



ت) زمان بین ساعت ۴ و ۵ است.



۱۰ پاسخ مسئله‌ی زیر را با کمک چوب خط به دست بیاورید.  
درنا برای تولد دوستان دو قلویش شکلات خرید. او برای هر  
کدامشان ۷ شکلات خرید. ولی بعد ۴ تا از شکلات‌هایی که  
خریده بود به برادرش داد.  
چند شکلات برای دوقلوها باقی مانده است؟ ۱۰ شکلات باقی مانده است.

$$7 + 7 - 4 = 10$$

