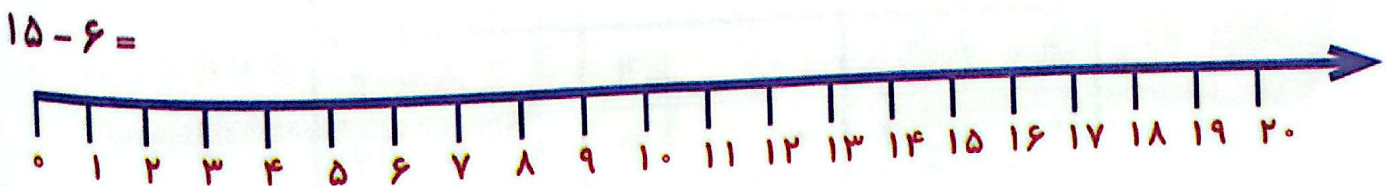
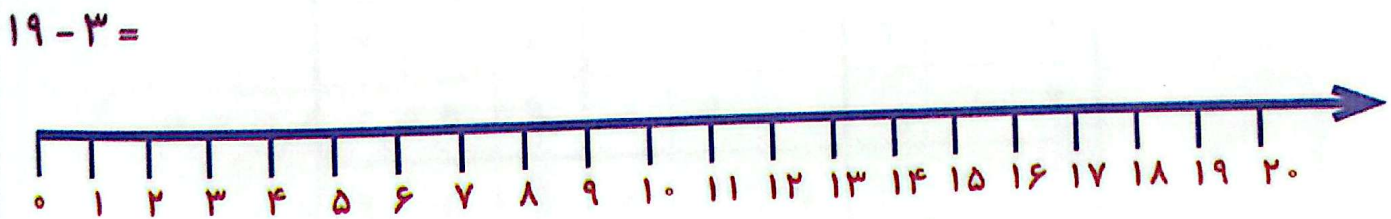
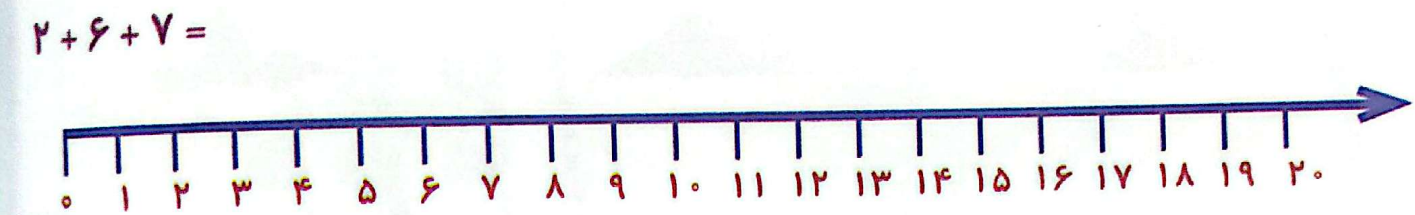


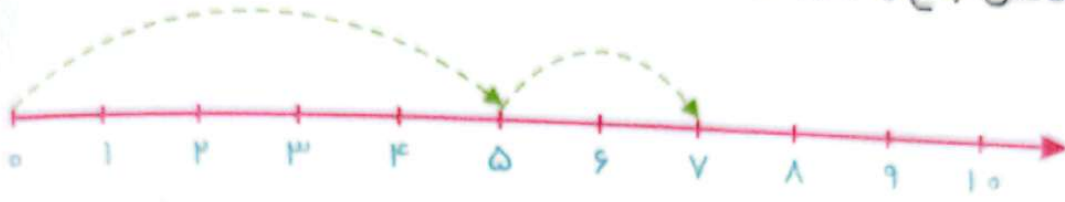


با کمک محور جواب جمع و تفریق‌های زیر را پیدا کن.

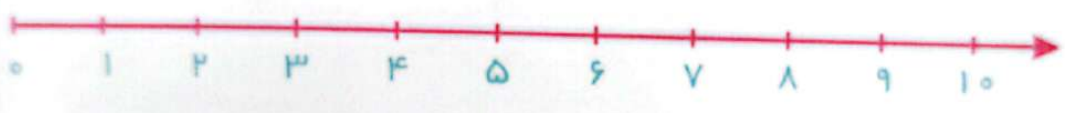
۸




جمع‌ها را روی محور نشان بده و حاصل جمع را بنویس.



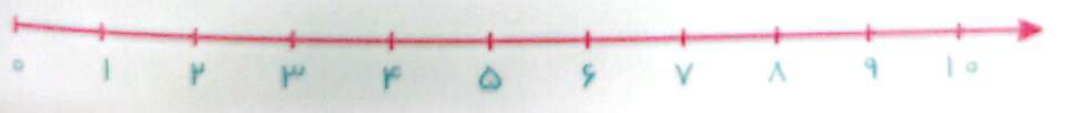
$5 + 2 =$  \_\_\_\_\_



$3 + 3 =$  \_\_\_\_\_

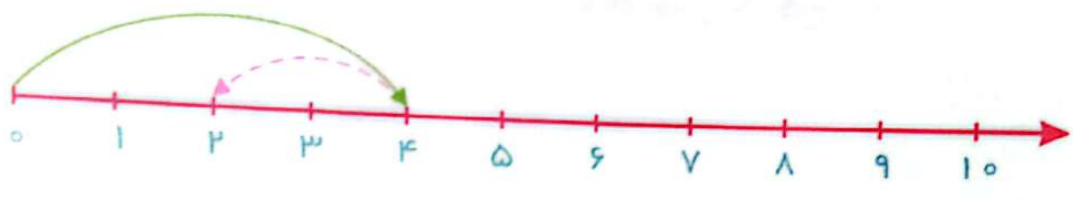


$4 + 3 =$  \_\_\_\_\_

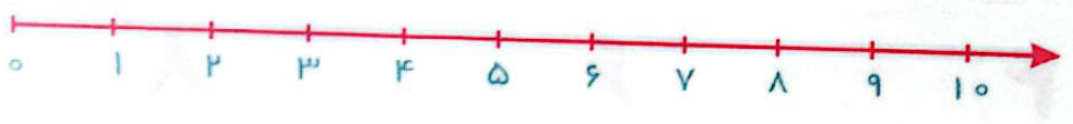


$3 + 1 + 3 =$  \_\_\_\_\_

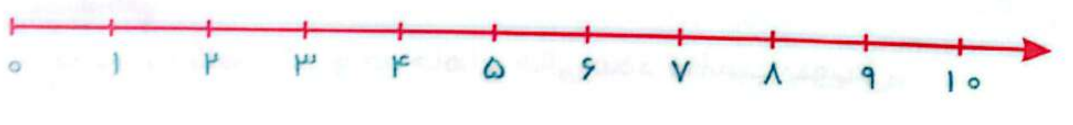
تفریق‌های زیر را روی محور نشان بده و حاصل تفریق را بنویس.



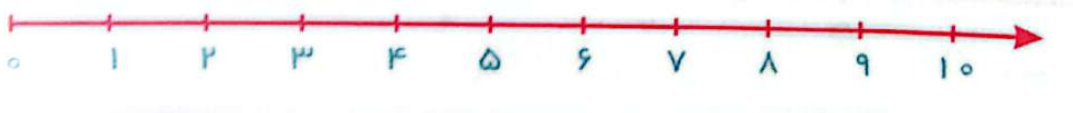
$4 - 2 =$  \_\_\_\_\_



$8 - 5 =$  \_\_\_\_\_

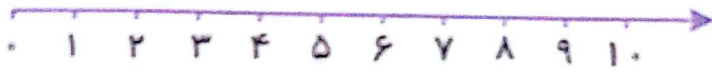


$6 - 4 =$  \_\_\_\_\_




$7 - 1 =$  \_\_\_\_\_

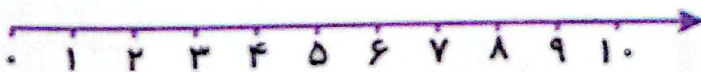

مسئله‌ها را با دقت بخوان، یک شکل ساده بکش و جواب را پیدا کن و روی محور نشان بده.  
الف) هُما ۶ شکلات داشت. مادرش ۳ شکلات دیگر به او داد. حالا هُما روی هم چند شکلات دارد؟



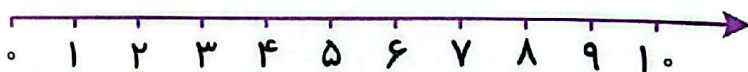
ب) جواد ۴ مداد رنگی دارد. دوستش به او ۲ مداد سبز داد. حالا جواد روی هم چند مداد رنگی دارد؟



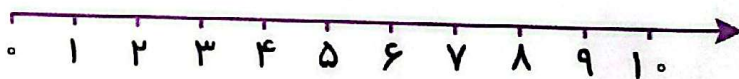
پ) لیلا ۵ کتاب داستان و برنا ۳ کتاب داستان دارند. آن‌ها روی هم چند کتاب داستان دارند؟



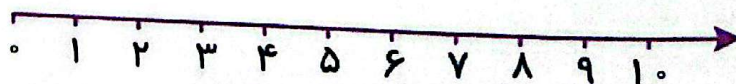

مسئله‌ها را با دقت بخوان، یک شکل ساده بکش و جواب را پیدا کن و روی محور نشان بده.  
الف) سیما ۸ شاخه گل در گلدان دارد. مادرش ۲ شاخه گل از گلدان برداشت. چند شاخه گل در گلدان باقی مانده است؟



ب) ۹ شیرینی در بشقاب بود. ستاره ۵ تا از آن‌ها را خورد. چند شیرینی در بشقاب باقی مانده است؟



پ) ۷ گنجشک روی شاخه‌ی درخت نشسته بود. ۴ تا از آن‌ها پرواز کردند و رفتند. حالا چند گنجشک روی شاخه‌ی درخت نشسته است؟




⊙ امید ۳ گل داشت. دیروز ۴ تا گل دیگر از مادرش گرفت. او اکنون چند گل دارد؟



⊙ سینا در خانه‌ی خود ۴ درخت کاشته است.

اگر او ۶ درخت دیگر بکارد، چند درخت در خانه‌اش کاشته است؟



⊙ روی شاخه‌ی درختی ۴ کلاغ نشسته بودند.

۲ کلاغ دیگر هم آمدند. حالا چند کلاغ روی شاخه‌ی درخت نشسته‌اند؟



⊙ سارا ۵ سیب و ۴ گلابی داخل سبد خود دارد.

او چند میوه داخل سبد دارد؟



جاهای خالی را با عدد مناسب پر کن.

$$۲۸ - ۳۸ - \dots - \dots - \dots - \dots - \dots - \dots - \dots$$

$$۱۶ - ۲۶ - \dots - \dots - \dots - \dots - \dots - \dots - \dots$$

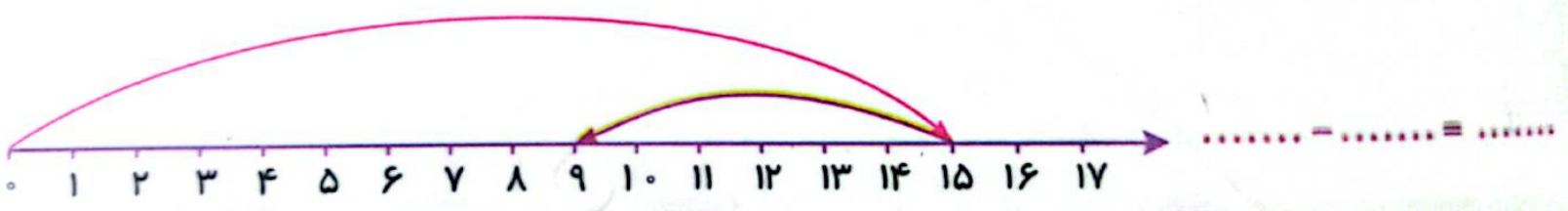

$$۷۷ - ۷۸ - \dots - \dots - \dots - \dots - \dots - \dots - \dots$$

$$۱۰ - \dots - \dots - \dots - \dots - \dots - \dots - \dots$$

$$\dots - \dots - \dots - \dots - \dots - \dots - \dots - ۵۵ - ۶۰$$

↻  
-۵

برای محورهای زیر جمع و تفریق مناسب بنویس. ۱۸



در جاهای خالی عدد مناسب بنویس.

۱۰ - ۲۰ - ۳۰ - ۶۰ - ۹۰  
+۱۰ +۱۰

۵۰

۹۰ - ۸۰ - ۷۰ - ۱۰  
-۱۰

۴۰ + ۱۰ =

۱۰ + ۱۰ =

۲۰ + ۲۰ =

۵۰ + ۲۰ =

۱۰ + ۶۰ =

۲۰ + ۴۰ =

۸۰ + ۱۰ =

۳۰ + ۴۰ =

۲۰ + ۳۰ =

۳۰ + ۵۰ =

۷۰ + ۲۰ =

۶۰ + ۲۰ =

جواب جمع‌ها را بنویس.

۲۰ + ۴۰ =

۱۰ + ۲۰ + ۱۰ + ۵ =

۱۰ + ۲۰ + ۵ =

۵ + ۵ + ۵ + ۱۰ =

۵ + ۵ + ۱۰ =

۱۰ + ۱۰ + ۱۰ + ۲۰ =

$10 + 20 + 5 + 2 + 3 =$

$10 + 30 - 10 + 20 + 5 =$

$20 + 20 + 5 + 5 =$

$20 + 5 + 10 + 10 - 5 =$

$5 + 5 + 30 + 10 + 5 + 10 =$

$50 + 10 + 20 + 10 + 2 =$

$10 + 10 + 10 + 20 =$

$10 + 20 + 10 + 5 =$

$10 + 20 + 5 =$

$5 + 5 + 5 + 10 + 20 =$

$7 + 3 + 10 + 5 =$

$8 + 2 + 10 + 5 + 5 =$

$6 + 4 + 5 + 5 =$

$10 + 10 + 10 + 6 =$

69 — — — — — 73 — — — — — 75 — — — — —

— — — — — 79 — — — — — — — — — — 83 — — — — —

— — — — — 88 — — — — — — — — — — 91 — — — — —

— — — — — 95 — — — — — — — — — — 99

الگوهای عددی زیر را ادامه بده.

$$۲ - ۴ - \dots - \dots - \dots - \dots$$

+۲

$$۳ - ۶ - \dots - \dots - \dots - \dots$$

+۳

$$۵ - ۱۰ - \dots - \dots - \dots - \dots$$

+۵

الگوهای زیر را ادامه بده و نشان بده که هر کدام چند تا چند زیاد شده است.

$$۶ - ۹ - ۱۲ - \dots - \dots - \dots - \dots$$

+۳ +۳

$$۲۷ - ۲۹ - ۳۱ - \dots - \dots - \dots - \dots$$

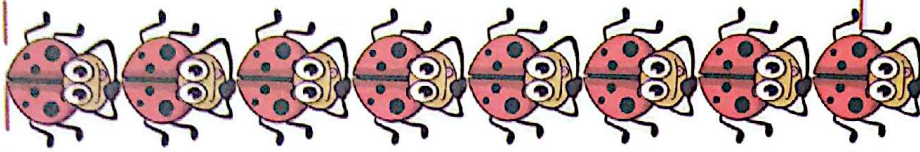
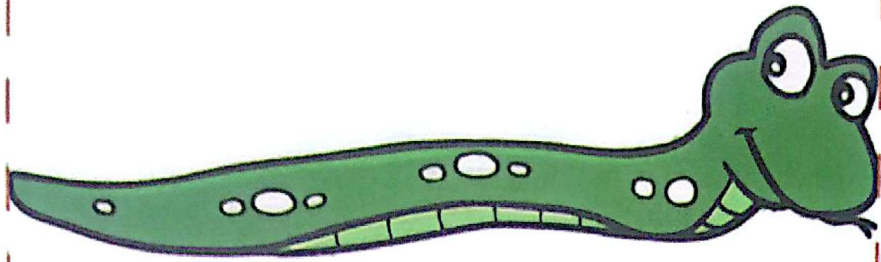
+۲ +۲

$$۴۰ - ۴۵ - ۵۰ - \dots - \dots - \dots - \dots$$

+۵ +۵

$$۲۰ - ۳۰ - ۴۰ - \dots - \dots - \dots - \dots$$

+۱۰ +۱۰



اندازه‌ی مار بین ..... تا ..... مورچه است.

اندازه‌ی مار بین ..... تا ..... کفشدوزک است.

اندازه‌ی مار بین ..... تا ..... کرم است.

جمله‌های زیر را با کلمه‌های «هم‌اندازه»، «بلندترین»، یا «کوتاه‌ترین» کامل کن.


شمع آبی ..... است.

شمع زرد با شمع سبز ..... است.

شمع قرمز ..... است.




با توجه به شکل، جمله‌ها را کامل کن.



- طول نی بین ..... تا ..... است.
- طول نی بین ..... تا ..... است.
- طول نی بین ..... تا ..... است.

با کلمات بلندترین، کوتاه‌ترین یا هم‌اندازه کامل کن.



- مداد قرمز ..... مداد است.
- مداد سبز با مداد بنفش ..... است.
- مداد آبی ..... مداد است.



ساعت ..... است.



ساعت ..... است.



ساعت ..... است.



زمان بین ..... و ..... است.



زمان بین ..... و ..... است.



زمان بین ..... و ..... است.

مسئله‌ها را با رسم خوب خط حل کن.


الف) سارا ۶ مداد آبی، ۳ مداد قرمز و ۸ مداد زرد دارد. او چند مداد دارد؟



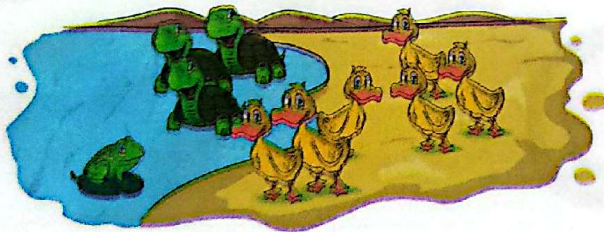
ب) روی میز معلم، ۷ کتاب فارسی، ۵ کتاب نگارش و ۹ کتاب علوم بود. روی میز معلم چند کتاب وجود داشت؟



پ) ۶ سیب زرد، ۹ سیب قرمز و ۴ سیب سبز در سینی است. روی هم چند سیب در سینی است؟



ت) ۷ لاک‌پشت در آب شنا می‌کردند. ۶ اردک و ۸ قورباغه هم در آب رفتند. حالا چند حیوان در آب شنا می‌کنند؟



ث) در سالن نهارخوری مدرسه ۱۵ لامپ روشن بود. آموزگار ۵ تا از لامپ‌ها را خاموش کرد. حالا چند لامپ در سالن روشن است؟

