



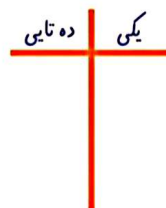

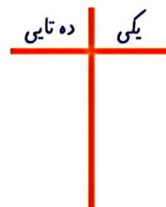
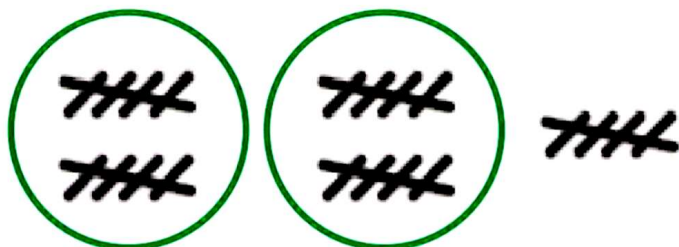
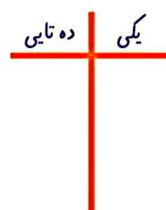

موضوع:

تاریخ


نام و نام خانوادگی

هدف:

در جای خالی عدد مناسب بنویس.



برای شکل ها جمع بنویس.



... + ... + ... = ...

بارحورد:






موضوع:

تاریخ

نام و نام خانوادگی

هدف:

در هر قسمت با توجه به عدد کنار آن شکل‌ها را با کشیدن خط دسته بندی کن.



۵

... دسته ی پنج تایی و ... یکی



۸

... دسته ی هشت تایی و ... یکی



۷

... دسته ی هفت تایی و ... یکی

بازگورد:





موضوع:

تاریخ

نام و نام خانوادگی

هدف:

عبارت مربوط به هر ردیف را بنویس.

..... + =

..... + =

بازگردد:





موضوع:

تاریخ

نام و نام خانوادگی

هدف:

تفریق هر شکل را بنویس
و پاسخ را بدست بیاور.

Three subtraction problems using pink blocks. Each problem shows a full pyramid of 10 blocks (4 on top, 3 in the middle, 2 on the bottom) and a partial pyramid with 3 blocks (2 on top, 1 on the bottom) crossed out with a red 'X'. Below each problem is a box for the answer: $\dots - \dots = \dots$

Two subtraction problems using pink blocks. Each problem shows a full pyramid of 10 blocks (4 on top, 3 in the middle, 2 on the bottom) and a partial pyramid with 3 blocks (2 on top, 1 on the bottom) crossed out with a red 'X'. Below each problem is a box for the answer: $\dots - \dots = \dots$

Three subtraction problems using pink blocks. Each problem shows a full pyramid of 10 blocks (4 on top, 3 in the middle, 2 on the bottom) and a partial pyramid with 3 blocks (2 on top, 1 on the bottom) crossed out with a red 'X'. Below each problem is a box for the answer: $\dots - \dots = \dots$

بازگردد:





موضوع:

تاریخ

نام و نام خانوادگی

هدف:

گلم اعداد سمت چپ را بخوان. عدد بعد آن چه عددی است؟
در سمت راست پیداش کن و بهم وصل کن.

۳۱

۲۷

۴۸

۵۹

۶۰

۷۷

۸۹

۱۴

۱۹

۲۸

۳۲

۶۰

۴۹

۷۸

۶۱

۲۰

۹۰

۱۵

بازجورد:





موضوع:

تاریخ

نام و نام خانوادگی

هدف:



کاربرگ ریاضی



جمع و تفریق های زیر را با استفاده از محور و جدول ارزش مکانی بکش.

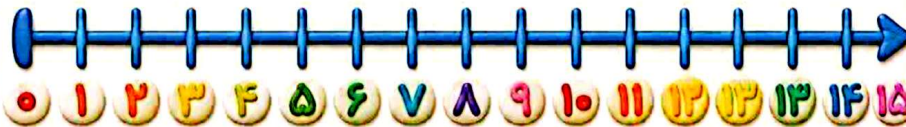


یکی ده تایی



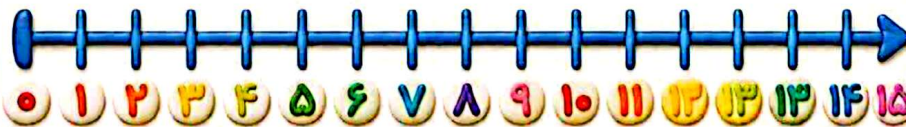
$$15 - 3 =$$

ده تایی	یکی



$$6 + 9 =$$

ده تایی	یکی



بارجورد:

