



موضوع:

تاریخ

نام و نام خانوادگی

هدف:



۱- مسئله زیر را حل کن و شکل بکش و روی محور کامل کن.

امید ۳ گل داشت. دیروز ۴ گل دیگر از مادرش گرفت. حالا او چند گل دارد؟

۲- حاصل جمع و تفریق زیر را انجام بده.

$$۱۰ + ۳ =$$

$$۸۰ - ۵۰ =$$

$$۲۰ + ۶۰ =$$

$$۶۰ - ۳۰ =$$

$$۸۰ + ۱۰ =$$

$$۲۰ - ۱۰ =$$



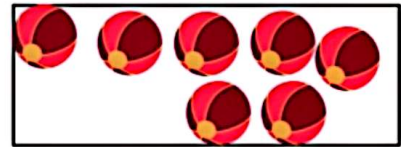


ده تایی	یکی
---------	-----

حالا یک بسته ی ده تایی و ۱ یکی داریم، می توانیم با استفاده از جدول عدد را بنویسیم.

تمرین

۱- در هر جای خالی عدد مناسب را با حروف بنویس.



..... دسته هشت تایی مساوی است با یکی

..... دسته ی هفت تایی مساوی است با یکی

۲- باتوجه به عبارت سمت راست از شکل ها جدا کن.



۴ دسته ی ۲ تایی و ۲ یکی

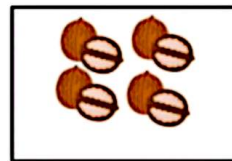
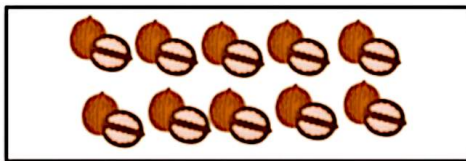


۲ دسته ی ۳ تایی و ۳ یکی

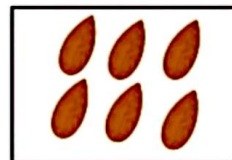
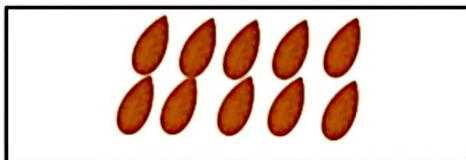


۳ دسته ی ۲ تایی و ۲ یکی



۳- باتوجه به شکل در جدول عدد مناسب بنویس.



ده تایی	یکی
---------	-----



ده تایی	یکی
---------	-----



ده تایی	یکی
---------	-----



$30 + 30 =$

$70 + 20 =$

$50 - 10 =$

$80 - 30 =$

۶- جواب جمع ها و تفریق ها را بنویس.
می توانی برای پیدا کردن جوابها شکل بکشی.

۷- جمع یا تفریق کن و علامت مناسب بگذار.

$30 + 10 = \square$

$20 + 20 = \square$

$50 + 20 = \square$

$30 + 20 = \square$

$70 - 10 = \square$

$30 + 30 = \square$

۸- عدد ۳۷ را با شکل نشان بده سپس آن را در جدول قرار بده.

۹- از ۳۵ تا ۵۳ را یکی یکی بشمار و بنویس.

۱۰- جاهای خالی را کامل کن و دو شکل بعدی را بکش.

۱۱- الگوها را کامل کن.

$10 - 20 - 30 - \dots - \dots - \dots$

+10 +10

$10 - 15 - 20 - \dots - \dots - \dots$

+5 +5

$\dots - \dots - 60 - 15 - 10$

-5 -5

