

به نام خداوند زیبایی ها

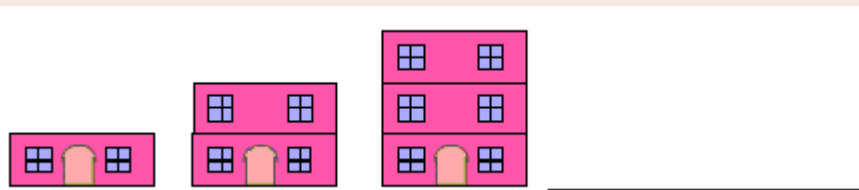
دبستان علوی

ریاضی (یادآوری آموخته های کلاس اول - الگویابی)

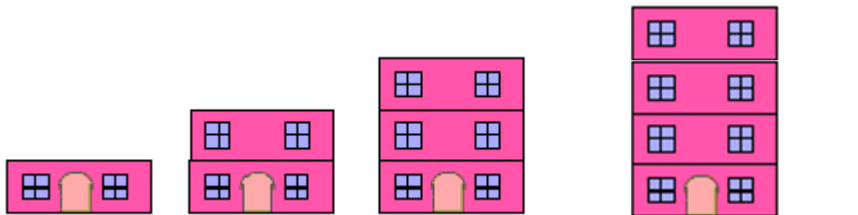

آموزگار: خانم خاکسار





الگوهای تصویری زیر را کامل کن .




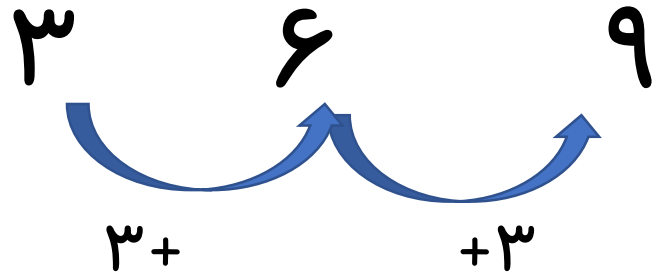

الگوهای تصویری زیر را کامل کن .




الگوی تصویری زیر را به الگوی عددی تبدیل کن و آن را تا ۲ مرحله دیگر ادامه بده .



الگوی تصویری زیر را به الگوی عددی تبدیل کن و آن را تا ۲ مرحله دیگر ادامه بده.



۱۲



۱۵



الگوهای عددی را کامل کن.

۲۳ - ۲۶ - - -

۵۰ - ۵۵ - - -

۷۴ - ۷۸ - - -

۲۰ - ۳۰ - - -



الگوهای عددی را کامل کن.

$$۲۳ - ۲۶ - \dots ۲۹ \dots - \dots ۳۲ \dots - ۳۵ \dots$$

$+۳$ $+۳$

$$۵۰ - ۵۵ - \dots ۶۰ \dots - \dots ۶۵ \dots - ۷۰ \dots$$

$+۵$ $+۵$

$$۷۴ - ۷۸ - \dots ۸۲ \dots - \dots ۸۶ \dots - ۹۰ \dots$$

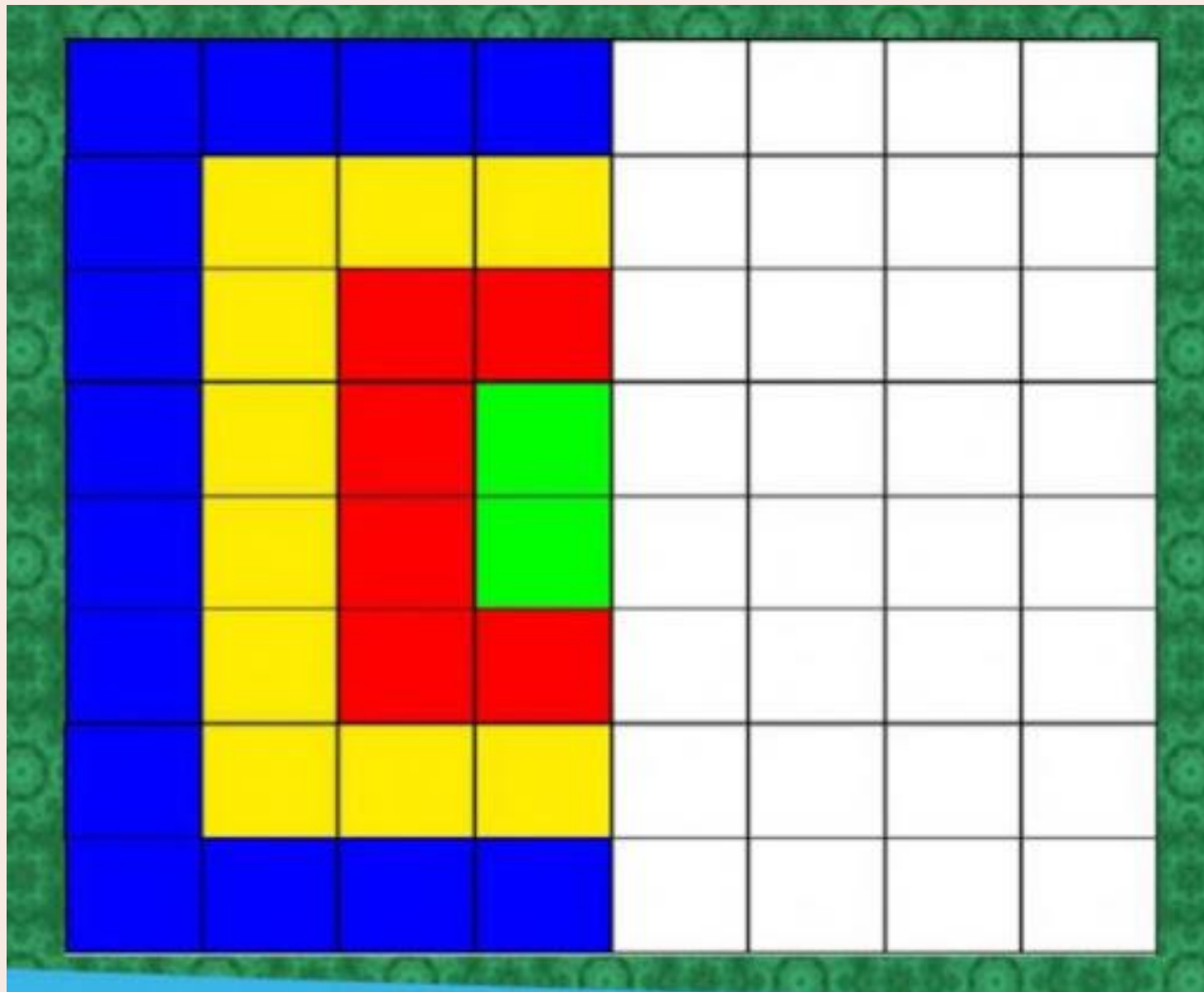
$+۴$ $+۴$

$$۲۰ - ۳۰ - \dots ۴۰ \dots - \dots ۵۰ \dots - \dots ۶۰ \dots$$

$+۱۰$ $+۱۰$



طبق اللگو کامل کن.



طبق اللّو كامل كن.

