


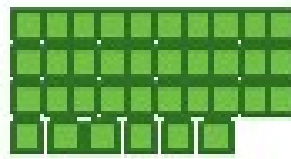
دسته‌های ده تایی و یکی



با توجه به شکل جدول‌ها را کامل کنید :




ده تایی	یکی
۴	۵



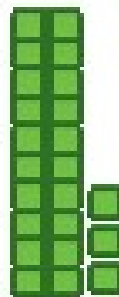
ده تایی	یکی
۳	۶



فعالیت



ده تایی	یکی
۵	۰



ده تایی	یکی
۲	۳




کار در کلاس

نوشتن عددها را ادامه دهید:

۱۰ _ ۲۰ _ ۳۰ _ ۴۰ _ ۵۰ _ ۶۰ _ ۷۰ _ ۸۰ _ ۹۰

ده - بیست - سی - چهل - پنجاه - شصت - هفتاد - هشتاد - نود

کارت‌های عدد را که معلم به شما می‌دهد، نگاه کنید. ۲ تا از آن‌ها را بردارید و کنار هم بگذارید تا یک عدد درست شود. عدد درست شده را بخوانید: بیست و پنج




با کارت تکرار رقم نداریم.



فعالیت


همین کار را به صورت ۲ نفره انجام دهید. یکی عدد بسازد و دیگری عدد را بخواند.





فعالیت

۱- برای شمارش شکل‌ها، دسته‌های ده تایی جدا کنید و با کامل کردن جدول، تعداد شکل‌ها را بنویسید.



ده‌تایی	یکی
۲	۷

به حروف بیست و هفت
به عدد ۲۷

۲ ده تایی و ۳ یکی را به صورت ۲۳ می‌نویسیم و می‌خوانیم: بیست و سه
عدد ۲۷ یعنی ۲ ده تایی و ۷ یکی.
می‌توانیم این عدد را در جدول قرار دهیم.

ده‌تایی	یکی
۴	۷

به عددهای ۲۳ و ۲۷ عددهای ۲ رقمی می‌گوییم. رقم‌های هر کدام را نام ببرید.

۳ و ۲ ۴ و ۷

۳۳ ، ۳۵ ، ۵۵ ، ۵۳

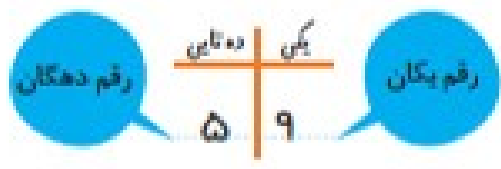
۲- با رقم‌های ۳ و ۵ هر چند می‌توانید عدد دو رقمی بنویسید.

۴ عدد

۲ عدد دو رقمی نوشتید یا ۴ عدد دو رقمی؟ توضیح دهید و در این مورد در کلاس گفت‌وگو کنید.

حالا با رقم‌های ۴ و ۷ عددهای دو رقمی بنویسید. ۴۴ ، ۷۴ ، ۴۷ ، ۷۷

در اعداد ۲ رقمی مانند ۵۹، رقم ۹ را رقم یکان و ۵ را رقم دهگان می‌نامیم.



مهم

