

۱. با توجه به شکل‌ها، جدول و جاهای خالی را پر کن.



ده تایی	یکی
۴	۶

به حروف: **چهل و شش**

به رقم: **۴۶**



ده تایی	یکی
۲	۶

به حروف: **بیست و شش**

به رقم: **۲۶**

۲. جاهای خالی را کامل کن.

۷۷ ..... ۷ یکی و ۷ ده تایی می شود

۳۵ برابر است با ..... ۵ یکی و ..... ۳ ده تایی

۸۹ ..... ۹ یکی و ۸ ده تایی می شود

۸۳ برابر است با ..... ۳ یکی و ..... ۸ ده تایی

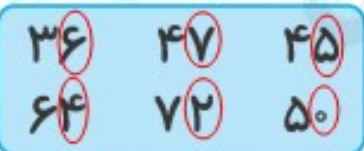
۵۰ ..... یکی و ۵ ده تایی می شود

۴۰ برابر است با ..... یکی و ..... ۴ ده تایی

۳۶ ..... ۶ یکی و ۳ ده تایی می شود

۶۴ برابر است با ..... ۴ یکی و ..... ۶ ده تایی

۳. دور رقم یکان هر عدد خط بکش و جاهای خالی را کامل کن.



رقم یکان عدد ..... ۵۰ ، صفر است.

رقم یکان عدد ..... ۳۶ ، ۶ است.

۴. الف) عدد ۶۳ چند رقم دارد؟ ..... **۲ رقم** . رقم‌های آن ..... ۳ و ..... ۶ می باشد.

ب) با رقم‌های عدد ۶۳ چند عدد دو رقمی دیگر می توانی بنویسی؟ **۳ تا** ، ..... ۳۳ ، ..... ۳۶ ، ..... ۶۶

۵. تمام عددهای دو رقمی که با کارت‌های **۵** ، **۰** ، **۹** می توان نوشت را، بنویس.

..... ۵۹ ، ..... ۵۰ ، ..... ۹۵ ، ..... ۹۰

۶. عددی دورقمی بنویس که یکانش ۷ و دهگانش ۴ تا از یکانش کمتر باشد.

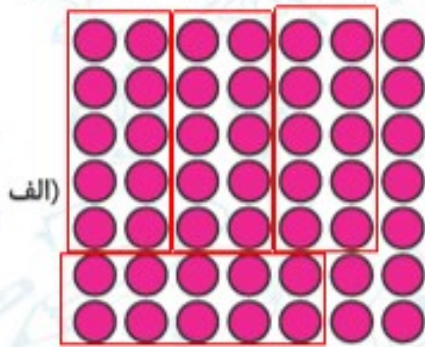
د	ی
۳	۷





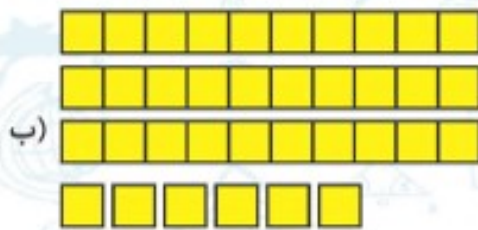
تمرین

۱. با کشیدن خط بسته دور شکل‌ها، دسته‌های ده‌تایی درست کن. سپس جدول و جاهای خالی را پر کن.



ده‌تایی	یکی
۴	۹

به رقم: ۴۹  
به حروف: چهل و نه



ده‌تایی	یکی
۳	۶

به رقم: ۳۶  
به حروف: سی و شش

۲. سه عدد دورقمی بنویس که یکان و دهگان آن‌ها مثل هم باشد.

د	ی
۷	۹

۳۳

۵۵

۹۹

۳. بزرگترین عدد دورقمی را بنویس که رقم دهگانش ۷ باشد.

۷۹

۴. من چه عددی هستم، یکانم کوچک‌ترین عدد یک رقمی و دهگانم بزرگترین عدد یک رقمی است؟

۹۰

۵. دور رقم دهگان هر عدد خط بکش و جاهای خالی را کامل کن.

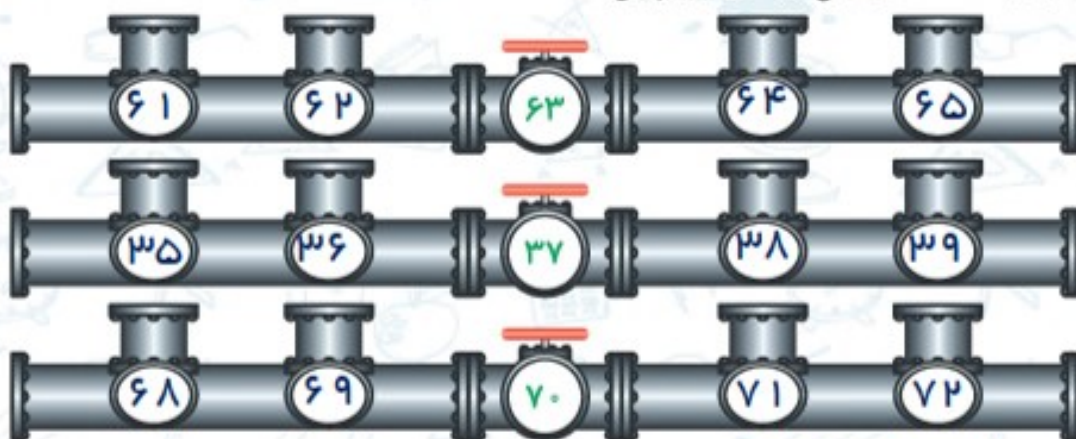
۸۶	۲۵	۷۰
۹۳	۵۸	۴۲

رقم دهگان عدد ۴۲ ..... ۴ است.

رقم دهگان عدد ۹۳ ..... ۹ است.



۶. در هر ردیف عددهای قبلی و بعدی را بنویس.



۷. با کارت‌های ۳، ۴، ۶ چند عدد دورقمی می‌توان نوشت؟ آن‌ها را بنویس.

۴۶، ۶۴، ۳۶، ۶۳، ۳۴، ۴۳

۸. تمام اعداد دو رقمی که با ۵، ۰ و ۳ می‌توان ساخت را بنویس.

۵۰، ۵۳، ۵۵، ۳۵، ۳۳، ۳۰

۹. خانه‌های خیابانی که برنا در آن زندگی می‌کند از ۱ تا ۲۴ شماره‌گذاری شده‌اند، رقم ۲ چند بار در پلاک این

خانه‌ها استفاده شده است؟



۸ بار

۱۰. شکل زیر را با چند مربع کوچک هم‌اندازه که بعضی‌هایشان را نصف کرده‌ایم، ساخته‌ایم. برای ساختن این



شکل چند مربع استفاده کرده‌ایم؟

۱۹ (۱)

۲۰ (۲)

۲۱ (۳)

۲۴ (۴)

۱۱. چند عدد بیشتر از ۱۰ و کمتر یا مساوی ۳۱ وجود دارند که فقط با رقم‌های ۱، ۲ و ۳ ساخته شده باشند؟

(می‌توانید از رقم‌ها به صورت تکراری هم استفاده کنید.)

