



به نام خدا



ریاضی دوم دبستان


آموزگار: طیبہ ریاضی



علوی

مدارس هزاره سوم

کتاب و وسایل مورد نیاز



- ✓ کتاب ریاضی
- ✓ کتاب کار ریاضی
- ✓ مداد و پاک کن

صفحه‌ی ۸ و ۹ کتاب ریاضی

۱- علی ۲۳ تا کتاب دارد. ۱۲ تا از آن‌ها کتاب داستان و بقیه کتاب علمی است. علی چند کتاب علمی دارد؟

(در این جا به جای کتاب از مربع استفاده کرده ایم.)



علی کتاب علمی دارد.

۲- زهرا ۳۷ عکس دارد. ۲۳ تا از عکس‌ها رنگی و بقیه سیاه و سفید هستند. زهرا چند عکس سیاه و سفید دارد؟

زهرا عکس سیاه و سفید دارد.

۳- شکل زیر چه عددی را نشان می‌دهد؟ با رسم شکل پنجمین عدد بعد از آن را بنویسید.



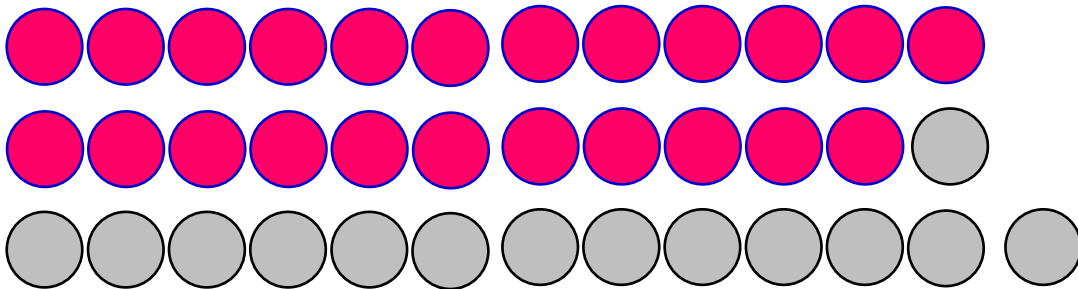
۱- علی ۲۳ تا کتاب دارد. ۱۲ تا از آن‌ها کتاب داستان و بقیه کتاب علمی است. علی چند کتاب علمی دارد؟

(در این جا به جای کتاب از مربع استفاده کرده ایم.)



علی ۱۱ کتاب علمی دارد.

۲- زهرا ۳۷ عکس دارد. ۲۳ تا از عکس‌ها رنگی و بقیه سیاه و سفید هستند. زهرا چند عکس سیاه و سفید دارد؟





زهرا ۱۴ عکس سیاه و سفید دارد.

۳- شکل زیر چه عددی را نشان می‌دهد؟ با رسم شکل پنجمین عدد بعد از آن را بنویسید. ۱۸



در کدام قسمت تعداد شکل‌ها بیشتر است؟ \times بزنید.




حالا شکل‌ها را بشمارید. آیا حدس شما درست بود؟

یکی از راه‌های حل کردن مسئله کشیدن شکل مناسب است. برای این کار لازم نیست شکل‌های مسئله نقاشی شود، می‌توان از شکل‌های ساده استفاده کرد.




در کدام قسمت تعداد شکل‌ها بیشتر است؟ \times بزنید.

۲۴



۲۶



حالا شکل‌ها را بشمارید. آیا حدس شما درست بود؟
بله

یکی از راه‌های حل کردن مسئله کشیدن شکل مناسب است. برای این کار لازم نیست شکل‌های مسئله نقاشی شود، می‌توان از شکل‌های ساده استفاده کرد.





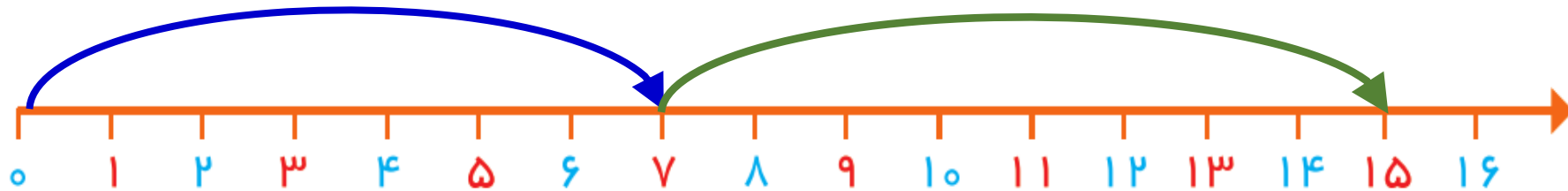
۱- امروز روز هفتم ماه است. ۸ روز بعد، چه روزی از ماه است؟ ماه است.



۲- سینا ۱۲ کتاب دارد. امروز ۵ تا کتاب دیگر خرید. حالا چند کتاب دارد؟ کتاب دارد.



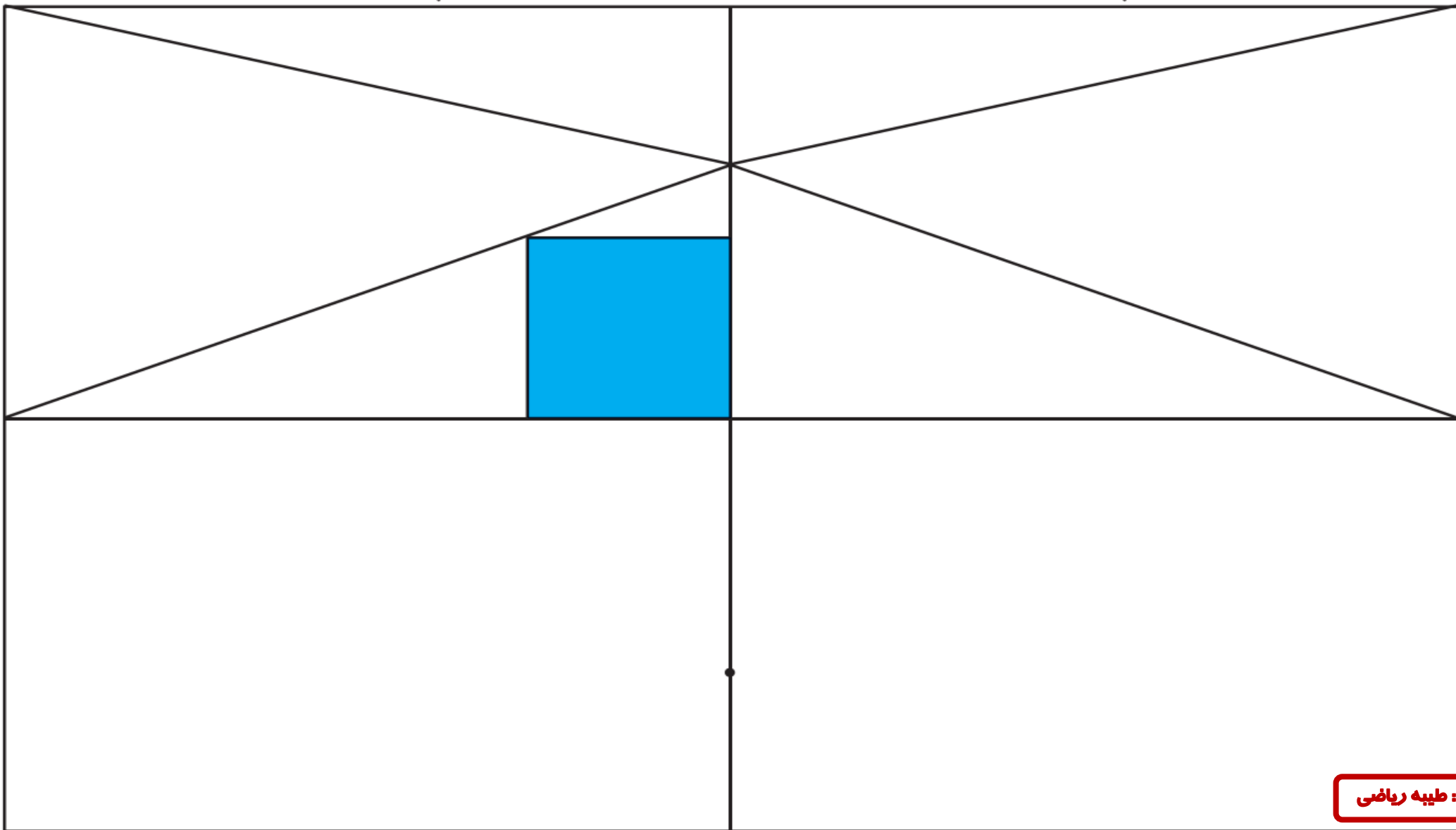
۱- امروز روز هفتم ماه است. ۸ روز بعد، چه روزی از ماه است؟ پانزدهم ماه است.



۲- سینا ۱۲ کتاب دارد. امروز ۵ تا کتاب دیگر خرید. حالا چند کتاب دارد؟ هفده کتاب دارد.



سه قسمت دیگر شکل را مانند قسمت داده شده با خط کش یا شابلون کامل کنید؛ طوری که اگر شکل را از روی خط‌ها تا کنیم، قسمت‌های چپ و راست یا بالا و پایین روی هم بیفتند.



صفحه‌ی ۲۳ کتاب کار ریاضی



۱. با توجه به تصویر مقابل جاهای خالی را کامل کن.

حدس می‌زنم هواپیما در تصویر است.

تعداد هواپیماها را شمردم، آن‌ها عدد هستند.

۲. به عقربه‌ی ساعت‌شمار نگاه کرده و جاهای خالی را کامل کن.



(ب) ساعت از گذشته و به مانده



(الف) ساعت از گذشته و به مانده





۱. با توجه به تصویر مقابل جاهای خالی را کامل کن.

حدس می‌زنم هواپیما در تصویر است.

تعداد هواپیماها را شمردم، آن‌ها ۱۷ عدد هستند.

۲. به عقربه‌ی ساعت‌شمار نگاه کرده و جاهای خالی را کامل کن.



ب) ساعت از ۴ گذشته و به ۵ مانده



الف) ساعت از ۸ گذشته و به ۹ مانده

