

پایه اول



فصل ۱

عدد و رقم

۱۱ ۱۹ ۵۸۳۹

به نام خداوند بخشنده و مهربان

دبستان و پیش دبستان علوی

آموزگار: خانم خاکسار

ریاضی صفحه ۵

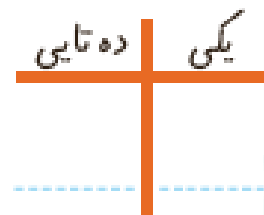

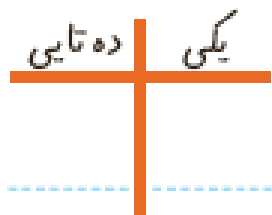



آیا می‌دانید؟ در گذشته‌های خیلی دور انسان‌ها فقط می‌توانستند تا ۳ بشمارند. آن‌ها برای عددهای بیشتر از ۳ می‌گفتند خیلی. بعد از مدتی، عدد بعد از ۳ را می‌گفتند یکی بیشتر از ۳، ۲ تا بیشتر از ۳، ۳ تا بیشتر از ۳ و هفت را می‌گفتند خیلی.


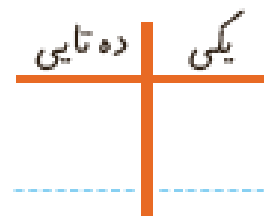

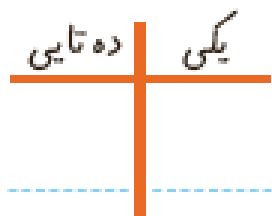

دسته‌های ده تایی و یکی



با توجه به شکل جدول‌ها را کامل کنید :



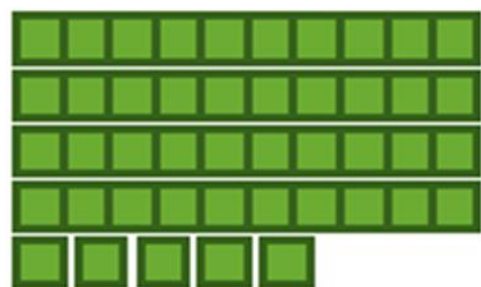
فعالیت




دسته‌های ده تایی و یکی



با توجه به شکل جدول‌ها را کامل کنید :




ده تایی	یکی
۴	۵




ده تایی	یکی
۳	۶



فعالیت



ده تایی	یکی
۵	۰



ده تایی	یکی
۲	۳



نوشتن عددها را ادامه دهید:

۱۰ ۲۰ _____ ۹۰

ده بیست سی _____ شصت هشتاد

کار در
کلاس




نوشتن عددها را ادامه دهید:

۱۰۰ _ ۲۰۰ _ ۳۰۰ _ ۴۰۰ _ ۵۰۰ _ ۶۰۰ _ ۷۰۰ _ ۸۰۰ _ ۹۰۰

ده _ بیست _ سی _ چهل _ پنجاه _ شصت _ هفتاد _ هشتاد _ نود



کارت‌های عدد را که معلّم به شما می‌دهد، نگاه کنید. ۲ تا از آن‌ها را بردارید و کنار هم بگذارید تا یک عدد درست شود. عدد درست شده را بخوانید: بیست و پنج



همین کار را به صورت ۲ نفره انجام دهید. یکی عدد بسازد و دیگری عدد را بخواند.

کارت‌های عدد را که معلّم به شما می‌دهد، نگاه کنید. ۲ تا از آن‌ها را بردارید و کنار هم بگذارید تا یک عدد درست شود. عدد درست شده را بخوانید: بیست و پنج



همین کار را به صورت ۲ نفره انجام دهید. یکی عدد بسازد و دیگری عدد را بخواند.

۵۲-۲۵

