

فصل ۱

عدد و رقم

۱۱ / ۱۹ ۵۸۳۹



آیا می‌دانید؟ در گذشته‌های خیلی دور انسان‌ها فقط می‌توانستند تا ۳ بشمارند. آن‌ها برای عددهای بیشتر از ۳ می‌گفتند خیلی. بعد از مدتی، عدد بعد از ۳ را می‌گفتند یکی بیشتر از ۳. ۳ تا بیشتر از ۳. ۳ تا بیشتر از ۳ و هفت را می‌گفتند خیلی.

به نام خداوند بخشنده و مهربان

ریاضی صفحه ی ۶

دبستان و پیش دبستان علوی

آموزگار: خانم اسدزاده

۱- برای شمارش شکل‌ها، دسته‌های ده تایی جدا کنید و با کامل کردن جدول، تعداد شکل‌ها را بنویسید.



ده تایی	یکی

به حروف
به عدد




۲ ده تایی و ۳ یکی را به صورت ۲۳ می‌نویسیم و می‌خوانیم: بیست و سه عدد ۴۷ یعنی ۴ ده تایی و ۷ یکی. می‌توانیم این عدد را در جدول قرار دهیم.

ده تایی	یکی
۴	۷

به عددهای ۲۳ و ۴۷ عددهای ۲ رقمی می‌گوییم. رقم‌های هر کدام را نام ببرید.

۱- برای شمارش شکل‌ها، دسته‌های ده تایی جدا کنید و با کامل کردن جدول، تعداد شکل‌ها را بنویسید.



ده تایی	یکی

به حروف ۲۷
به عدد بیست و هفت

۲ ده تایی و ۳ یکی را به صورت ۲۳ می‌نویسیم و می‌خوانیم: بیست و سه عدد ۴۷ یعنی ۴ ده تایی و ۷ یکی. می‌توانیم این عدد را در جدول قرار دهیم.

نکته:

ده تایی	یکی
۴	۷

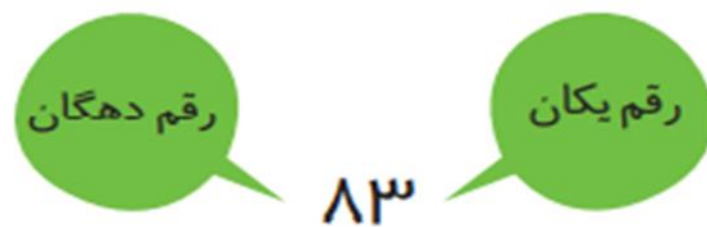
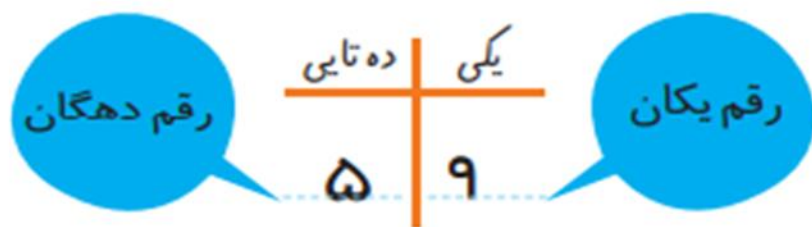
رقم های $23 = 2 + 3$
رقم های $47 = 4 + 7$

به عددهای ۲۳ و ۴۷ عددهای ۲ رقمی می‌گوییم. رقم‌های هر کدام را نام ببرید.

۲- با رقم‌های ۳ و ۵ هر چقدر می‌توانید
عدد دو رقمی بنویسید.

۲ عدد دو رقمی نوشتید یا ۴ عدد دو رقمی؟ توضیح دهید و در این مورد در کلاس
گفت‌وگو کنید.
حالا با رقم‌های ۷ و ۴ عددهای دو رقمی بنویسید.

در اعداد ۲ رقمی مانند ۵۹، رقم ۹ را رقم یکان و ۵ را رقم دهگان می‌نامیم.



۲- با رقم‌های ۳ و ۵ هر چقدر می‌توانید
عدد دو رقمی بنویسید.

۳۳-۵۵-۳۵-۵۳

۲ عدد دو رقمی نوشتید یا ۴ عدد دو رقمی؟ توضیح دهید و در این مورد در کلاس
گفت‌وگو کنید. **۴ عدد دو رقمی**
حالا با رقم‌های ۷ و ۴ عددهای دو رقمی بنویسید.

۴۴-۷۷-۴۷-۷۴

در اعداد ۲ رقمی مانند ۵۹، رقم ۹ را رقم یکان و ۵ را رقم دهگان می‌نامیم.

