

شمارش چند تا چند تا



طبقه اول



۱- با چینه‌ها ساختمان بسازید. هر طبقه با ۴ چینه درست می‌شود.



۴، ۸، ۱۲، ۱۶، ۲۰

- ۸ ساختمان ۲ طبقه با چند چینه ساخته می‌شود؟
 - ۱۲ ساختمان ۳ طبقه با چند چینه ساخته می‌شود؟
 - ۱۶ ساختمان ۴ طبقه با چند چینه ساخته می‌شود؟
 - ۲۰ ساختمان ۵ طبقه با چند چینه ساخته می‌شود؟
- حالا الگوی عددی زیر را کامل کنید.



فعالیت

۲- حالا هر طبقه ساختمان را با ۶ چینه درست کنید. ساختمان سازی را تا طبقه پنجم ادامه دهید و به کمک آن الگوی عددی را کامل کنید.

۶، ۱۲، ۱۸، ۲۴، ۳۰



۳- الگوی عددی زیر را کامل کنید.

۷، ۱۴، ۲۱، ۲۸، ۳۵

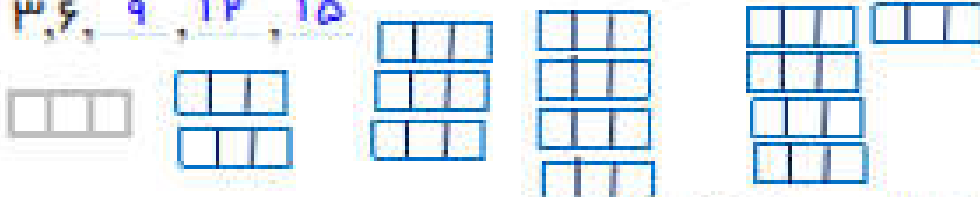
همین فعالیت را می‌توانید با رسم شکل یا چوب‌خط انجام دهید. برای مثال شما می‌توانید ۴ مربع برای طبقه اول بکشید. برای پیدا کردن عدد دوم ۴ تا مربع دیگر کنار آن بکشید و سپس همدی مربع‌ها را بشمارید تا عدد دوم الگو پیدا شود. به همین ترتیب کار را ادامه دهید.



کار در کلاس

۱- الگوی عددی زیر را با رسم شکل کامل کنید.

۳، ۶، ۹، ۱۲، ۱۵



۲- ۲ عدد بعدی را با رسم چوب‌خط پیدا کنید.

۸، ۱۶، ۲۴، ۳۲

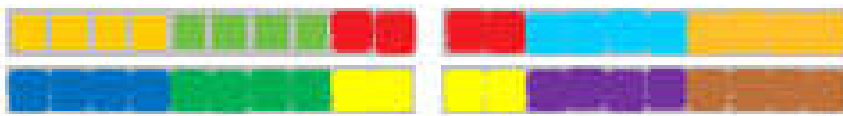


۳- با کمک محور رو به عقب بشمارید و الگو را کامل کنید.

۰، ۳، ۶، ۹، ۱۲

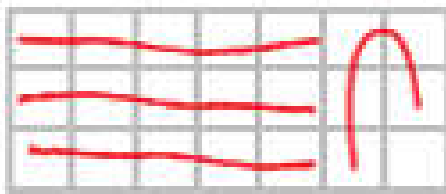


یکی از دانش آموزان برای شمارش ۴ تا ۴ تا، مربع‌ها را با استفاده از مداد رنگی‌های مختلف رنگ کرده و آن‌ها را شمرده است. شما با ادامه دادن رنگ‌ها الگوی شمارش را کامل کنید.



فعالیت

۴, ۸, ۱۲, ۱۶, ۲۰, ۲۴, ۲۸, ۳۲, ۳۶, ۴۰



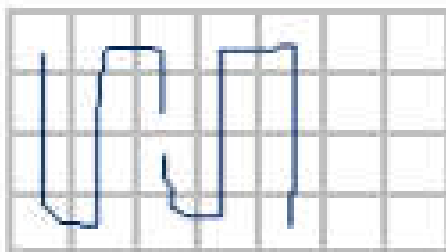
هر کس برای شمارش روشی دارد. برای مثال یکی از دانش آموزان برای شمارش تعداد خانه‌های شکل رو به رو، دسته‌های ۵ تایی جدا کرده و تعداد را به دست آورده است. او برای دسته‌بندی از رسم خطوط روی خانه استفاده کرده است.



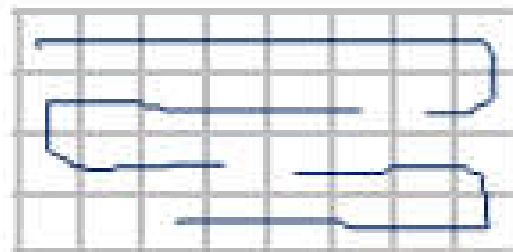
کار در کلاس

۲۱

حالا شما با روش خود تعداد خانه‌های شکل‌های زیر را بشمارید و کنار آن بنویسید.



۲۸



۳۳

با شابلون و رسم ۴ مربع شکل بسازید.

خلاق باش

