

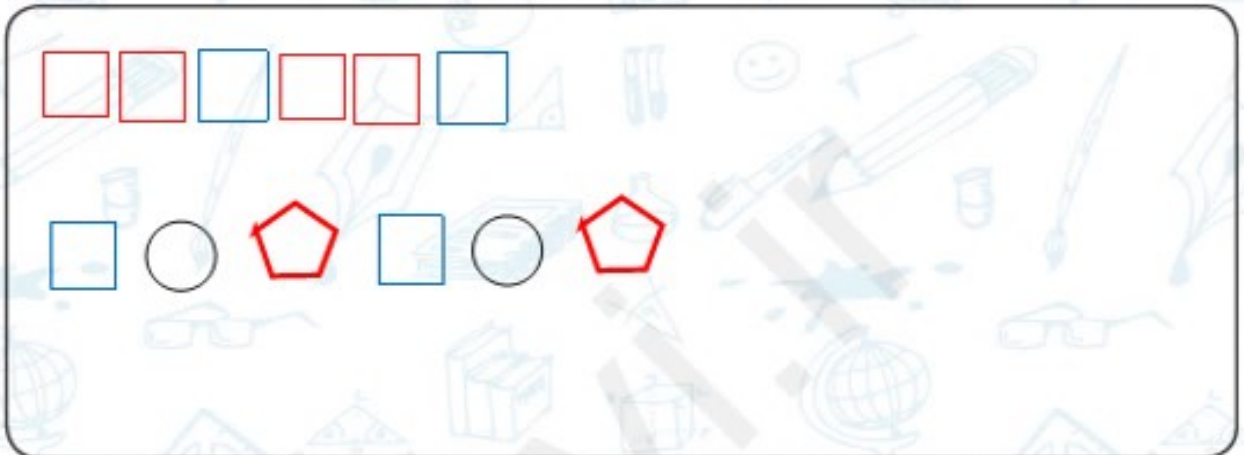
۳. با توجه به الگوها در جاهای خالی عدد مناسب بنویس.

(الف) در شمارش ۷ تا ۷ تا، عدد بعد از ۲۱ ۲۸ است.

(ب) در شمارش ۳ تا ۳ تا، عدد قبل از ۱۸ ۱۵ است.

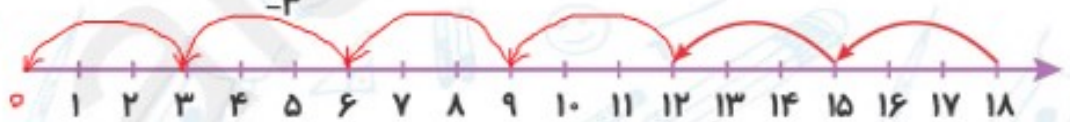
(پ) در شمارش ۸ تا ۸ تا، عدد بعد از ۴۰ ۴۸ است.

۴. با استفاده از شابلون و اشکال هندسی داخل کادر یک الگو بساز و آن را رنگ کن.




۵. الگوهای زیر را با کمک محور کامل کن.

(الف) ۱۸, ۱۵, ۱۲, ۹, ۶, ۳



(ب) ۶, ۱۲, ۱۸, ۲۴



۶. در شمارش هشت تا هشت تا، دومین عدد بعد از ۱۶ چه عددی است؟ ۳۲

۷. از ۵ دسته ده تایی و ۷ مداد رنگی، ۵ مداد رنگی برداشته ایم. چند مداد رنگی باقی مانده است؟

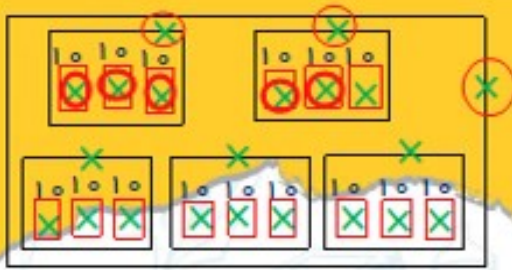
$$۵۷ - ۵ = ۵۲$$

۵۲ مداد رنگی باقی مانده

۸. حاصل عبارت مقابل را بنویس.

$$۱۰ + ۵ + ۳۰ + ۵ + ۴۰ + ۵ = ۹۵$$





۹. در صندوقی ۵ صندوقچه هم اندازه گذاشته‌ایم. در هر صندوقچه ۳ جعبه هم اندازه و در هر جعبه ۱۰ سکه طلا گذاشته‌ایم. صندوق و همه صندوقچه‌ها و جعبه‌ها قفل شده‌اند. برای این که ۵۰ تا از سکه‌ها را برداریم، حداقل چند قفل را باید باز کنیم؟

$$1 + 2 + 5 = 8$$

۸ قفل باید باز شود.



۱۰. در هر مربع شکل مقابل، جمع عددهای دو مربع پایینش را می‌نویسیم. در مربعی که علامت سؤال دارد، چه عددی را باید بنویسیم؟ ۱۰

۱۱. در یک باغ افسانه‌ای، درخت‌های سیبی وجود دارند که سیب‌های طلایی می‌دهند. هر روز روی هر درخت پنج سیب طلایی می‌رسند و در پایان روز از درخت می‌افتند. امروز باغبان باغ، بیست سیب رسیده را که دیشب از درخت‌ها افتاده‌اند، جمع کرده است. چند درخت افسانه‌ای در این باغ وجود دارد؟



$$5 + 5 + 5 + 5 = 20$$

۱۲. ۶ جعبه قرمز داریم. در هر جعبه قرمز ۴ مداد وجود دارد. ۳ جعبه آبی نیز داریم در هر جعبه آبی ۲ مداد وجود دارد. روی هم چند مداد داریم؟



$$4 + 4 + 4 + 4 + 4 + 4 = 24$$

$$24 + 6 = 30$$

$$2 + 2 + 2 = 6$$

۳۰ مداد داریم.



رنگ شغریج

گرام شکل با بقیه فرق دارد؟

