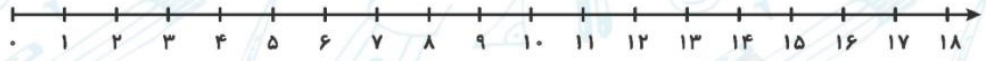


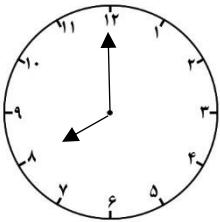


۱- حاصل جمع و تفریق‌های زیر را با استفاده از محور به دست آورید.

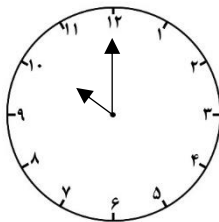
$$۱۲ - ۴ + ۹ = \dots\dots\dots$$



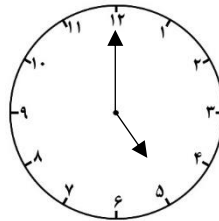
۵- ساعت چند است؟



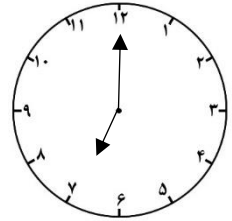
.....



.....



.....



.....

۱۱- عددهای زیر را به عدد و به حروف بنویسید.

* رقم یکان ۱ و رقم دهگان ۶: /

* رقم یکان ۴ و رقم دهگان ۷: /

۱۲- یک عدد دو رقمی بنویسید که رقم یکان آن ۲ و رقم دهگان آن ۴ تا بیشتر از رقم یکان آن باشد.

۱۳- یک عدد دو رقمی بنویسید که رقم یکان آن ۸ و رقم دهگان آن ۳ تا کمتر از رقم یکان آن باشد.

۱۶- حاصل جمع‌ها را به دست آورید.

$$۲۰ + ۷ + ۱۰ + ۲ = \dots\dots\dots$$

$$۵۰ + ۹ + ۵ + ۵ + ۱۰ = \dots\dots\dots$$

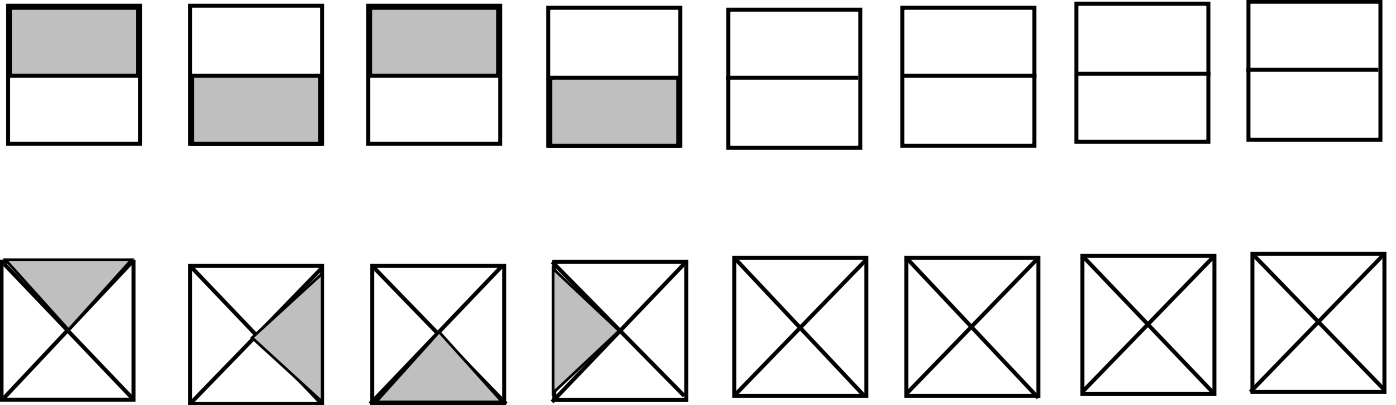
$$۲۰ + ۲ + ۳ + ۷ + ۲۰ = \dots\dots\dots$$

۱۸- با رقم‌های ۴ و ۹ هر چقدر می‌توانید، عدد دو رقمی بنویسید. (اعداد به دست آمده را به حروف هم بنویس.)

.....

.....

۲۵- الگوها را ادامه دهید.



۱۸، ۲۶، ۳۴،،

.....،، ۹۰، ۹۵، ۱۰۰

۶۰، ۷۰، ۸۰،،

.....،، ۵۹، ۶۱، ۶۳